

令和6年度

函館白百合学園中学校

一般入学試験問題（前期日程）

社 会

令和5年12月3日(日)実施

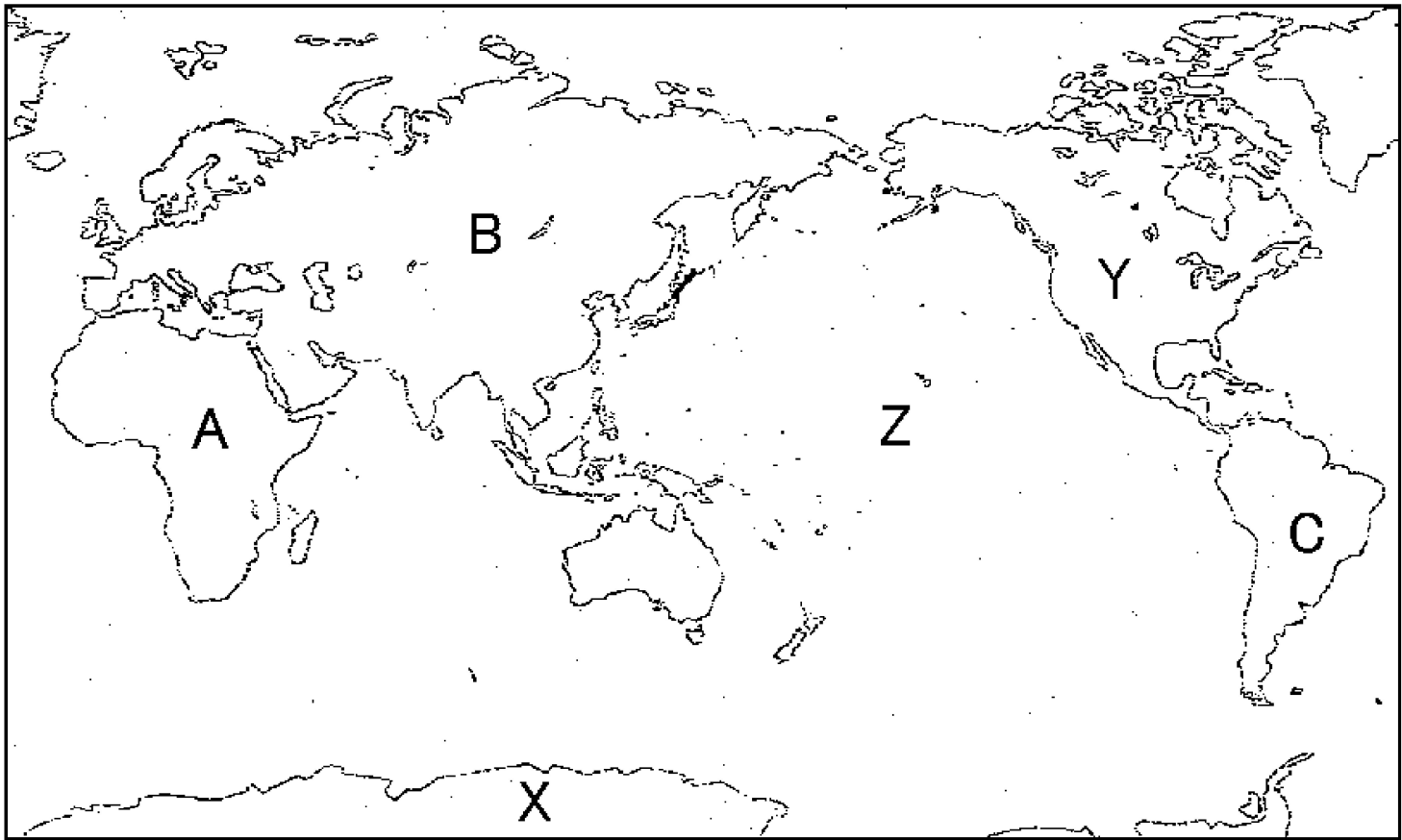
注意事項

1. 試験時間は30分です。
2. 問題は□1から□5まであり、8ページまであります。
3. 答えはすべて別紙の解答用紙に記入し、解答用紙だけ提出しなさい。

1

次の【略地図1】・【略地図2】を見て、あとの問いに答えなさい。

【略地図1】

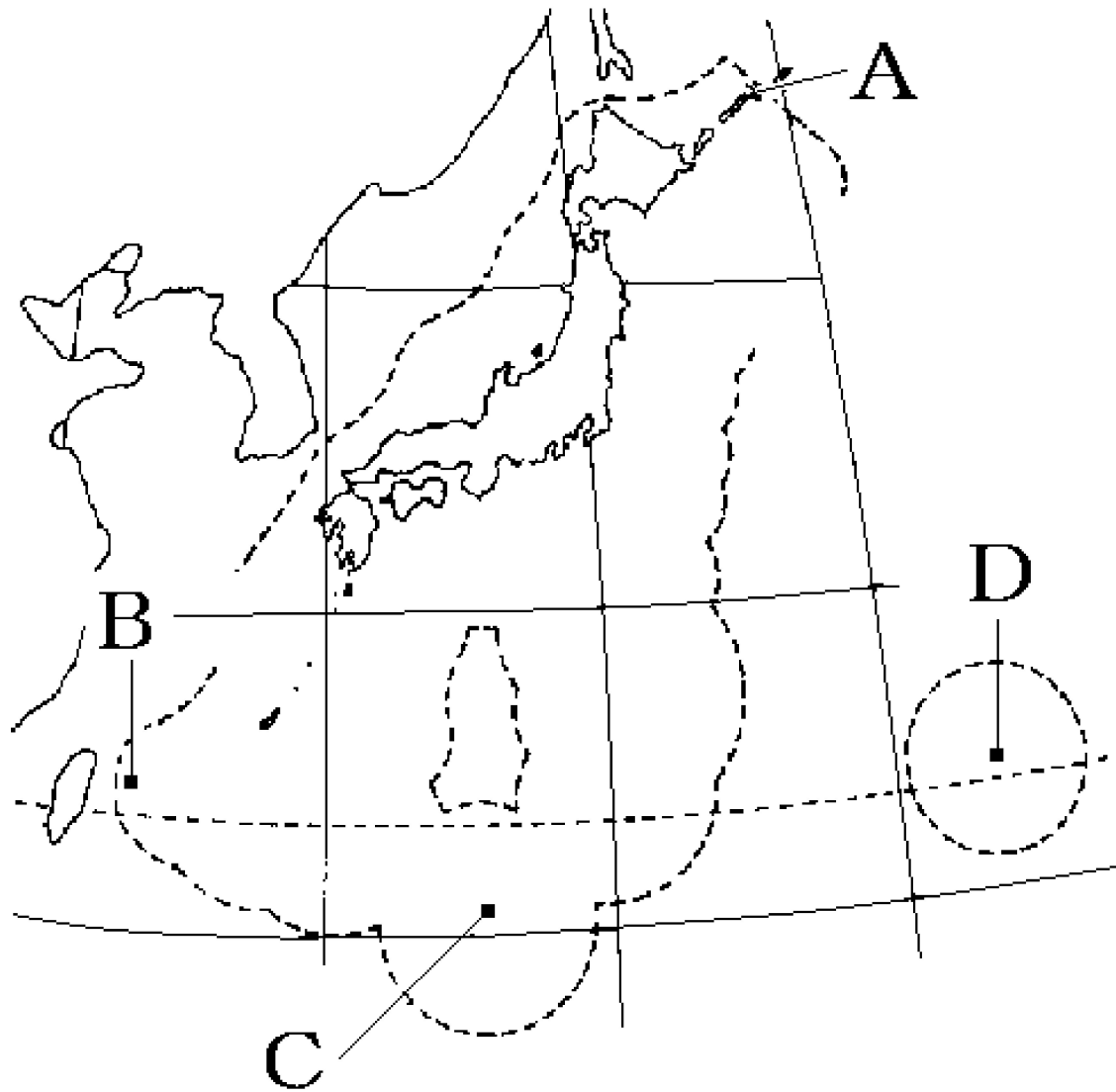


問1 【略地図1】中のX・Yの大陸名と、Zの大洋名を、それぞれ答えなさい。

問2 【略地図1】中のA～Cの大陸にある国を、(ア)～(エ)から選び、それぞれ記号で答えなさい。

(ア) ニュージーランド (イ) アルゼンチン (ウ) ケニア (エ) ドイツ

【略地図 2】



問 3 【略地図 2】中にある、日本の東西南北のはしに位置する A～D に適する島名を、(ア)～(カ)から選び、それぞれ記号で答えなさい。

- | | | |
|---------------------------------|--------------------------------|-------------------------------|
| (ア) <small>おきのとりしま</small> 沖ノ鳥島 | (イ) <small>えとろふとう</small> 択捉島 | (ウ) <small>くなしりとう</small> 国後島 |
| (エ) <small>よなぐにじま</small> 与那国島 | (オ) <small>みなみとりしま</small> 南鳥島 | (カ) <small>たけしま</small> 竹島 |

問 4 【略地図 2】中の A～D の島のうち、まわりをコンクリートブロックでかこみ、海にしずまないようにしている島を、A～D から 1 つ選び、記号で答えなさい。

2

日本の森林についての文を読んで、あとの問いに答えなさい。

わたしたちの身のまわりには、たくさんの森林があります。わたしたちは森林のある生活を楽しんでいます。① 下の表を見ると、日本の森林の面積は、国土のおよそ(X)をしめていることがわかります。 国土全体にしめる森林の割合を森林率^{わりあい}といい、日本の森林率は世界の平均である約3割を大きく上回っています。これらのことから、日本の国土は森林にめぐまれているということが出来ます。

森林は、自然にできたものを(Y)、人の手で植林したものを② 人工林とよんで区別します。また、人の手がまったくはいていないものは(Z)とよべれます。

問1 下線部①について、右の表をさんこうにして、文中の(X)に適するものを、(ア)～(エ)から選び、記号で答えなさい。

日本の土地利用の割合	%
森林	66.2
農地	12.0
住たく・工業用地など	5.1
そのほか	16.7

- (ア) 4分の3 (イ) 3分の2
(ウ) 2分の1 (エ) 3分の1

2014年/土地白書(平成28年版)

問2 文中の(Y)と(Z)に適する語句を、それぞれ答えなさい。

問3 下線部②について、人工林でおこなう作業であるA～Dの説明について適するものを、(ア)～(エ)から選び、それぞれ記号で答えなさい。

- A 植林 B 下草がり C えだ打ち D 間ばつ

- (ア) 林の木をところどころ切って、残りの木がりっぱに育つようにします。
(イ) これから育つ木が生長するのにじゃまになる雑草^{ざっそう}をかり取ります。
(ウ) 人工的に森林をつくりたい場所に、育てたなえ木を植えます。
(エ) 節^{ふし}のない木材になるように、よけいなえだを切り落とします。

3

日本国憲法について、あとの問いに答えなさい。

- 1 日本国民は、正義と秩序にたつ(①)を心から願って、戦争や武力を用いることは、国々の中の争いを解決する手段としては、(②)これを放棄する。
- 2 この目的を達するため、陸海空軍その他の(③)はもたない。国が戦争を行う権利は認めない。

問1 上の文は、日本国憲法のある条文を要約したものです。文中の(①)～(③)に適する語句を、(ア)～(カ)から選び、それぞれ記号で答えなさい。

- (ア) 国際平和 (イ) 二度と (ウ) 永久に
(エ) 社会 (オ) 兵器 (カ) 戦力

問2 この条文は、日本国憲法の第何条に書かれているものですか、答えなさい。

問3 この条文は、日本国憲法の三つの原則のうちどの原則と関係がありますか、漢字4字で答えなさい。

4

次のA~Eの文を読んで、あとの問いに答えなさい。

- A この時代は、①聖徳太子が豪族の(1)氏とともに天皇中心の国づくりを目ざして、政治の改革を進めました。国づくりのよりどころとして、仏教を重んじ、法隆寺などの寺を建てました。
- B この時代は、中国や朝鮮半島から移り住んだ人々によって、日本列島に米づくりの技術が伝えられました。秋に収穫した米は、(2)の倉庫にたくわえました。米づくりがさかんになると、②むらの人口が増えました。
- C この時代は、聖武天皇が全国に国分寺を建てることを命じ、都には国分寺の中心となる(3)を建て、大仏をつくることを決めました。大仏の完成を祝う開眼式は、1万人をこえる人々が参加して盛大に行われました。
- D この時代は、天皇中心の国のしくみが整い、朝廷は、日本の成り立ちを国内外に示すため、「古事記」や「(4)」という歴史の本を完成させました。この中には、ヤマトタケルの話のように、国が統一されていく物語も収められています。
- E この時代は、人々は(5)住居に住み、狩りや漁をしたり、木の実などを採集したりして暮らしていました。③三内丸山遺跡からは、人々が暮らしていたあとが見つかります。

問1 A~Eの文の空らん(1)~(5)に適する語句を答えなさい。

問2 A・C・Eの「この時代」とは、何時代のことですか、適するものを、次の(ア)~(オ)から1つずつ選び、それぞれ記号で答えなさい。

- (ア) 弥生時代 (イ) 古墳時代 (ウ) 奈良時代 (エ) 縄文時代
(オ) 飛鳥時代

問3 ①について、I・IIの正誤の組み合わせとして、適するものを、次の(ア)~(エ)から選び、記号で答えなさい。

- I 家がらにとらわれずに、能力のある者を役人に取り立てるしくみとして、冠位十二階をつくりました。
- II 当時大きな力をもっていた中国との国交を開き、進んだ政治のしくみや文化を取り入れようとして、小野妹子らを遣唐使として送りました。

- (ア) I = 正 II = 正 (イ) I = 正 II = 誤
(ウ) I = 誤 II = 正 (エ) I = 誤 II = 誤

問4 ②について、集落の周りにほりをめぐらした集落を何といいますか。

問5 ③について、この遺跡いせきがある現在の都道府県名を、次の(ア)～(エ)から選び、記号で答えなさい。

- (ア) 福岡県ふくおかけん (イ) 青森県あおもりけん (ウ) 奈良県ならけん (エ) 静岡県しずおかけん

5 次の年表を見て、あとの問いに答えなさい。

年	ことがら
1016	(1) が摂政 <small>せつしょう</small> になる . . . ①
1167	平清盛 <small>たいらのきよもり</small> が太政大臣 <small>たいじょうだいじん</small> になる . . . ②
1192	源頼朝 <small>みなもとのよりとも</small> が(2)に任命される . . . ③
1338	足利尊氏 <small>あしかが たかうじ</small> が室町幕府 <small>むろまちぼくふ</small> を開く . . . ④
1577	織田信長 <small>おだ のぶなが</small> が右大臣に任命される . . . ⑤
1585	豊臣秀吉 <small>とよとみひでよし</small> が関白に任命される . . . ⑥
1603	徳川家康 <small>とくがわいえやす</small> が江戸幕府 <small>えどぼくふ</small> を開く . . . ⑦

問1 ①について、(1)には、平安時代に天皇てんのうに代わって政治を動かすほどの権力けんりよくをもった人物の名前が入ります。この人物は、むすめが天皇のきさきになったことを喜び、貴族たちの前で次のうたをよみました。この人物の名前を答えなさい。

この世をば わが世とぞ思う もち月の 欠けたることも なしと思えば


問2 ②について、I・IIの正誤せいごの組み合わせとして、適するものを、次の(ア)～(エ)から選び、記号で答えなさい。

- I 平清盛たいらのきよもりは、平氏一族とともに航海の守り神とされた巖島神社いづくしまじんじやを厚く敬うやまいました。また瀬戸内海の航路や摂津の港を整え、中国とさかんに貿易を行いました。
- II 平清盛たいらのきよもりは、むすめを天皇てんのうのきさきにして、政治に大きな影響力えいぎょうりよくをもつようになりましたが、平氏の政治に対して、不満を持つ貴族や武士がしだいに増えていきました。

- (ア) I = 正 II = 正 (イ) I = 正 II = 誤
 (ウ) I = 誤 II = 正 (エ) I = 誤 II = 誤

問3 ③について、(2)には、源頼朝みなもとのよりともが任命されて以降いこう、全国の武士をしたが従える地位のよび名が入ります。このよび名を正式名称せいしきめいしようで答えなさい。

問4 ④について、この室町幕府むろまちぼくふがあった都道府県の場所を、次の地図中のあ～えから1つ選びなさい。



問5 ⑤について、このころ行われた南蛮貿易なんばんのおもな相手国の組み合わせとして正しいものを、次の(ア)～(エ)から1つ選びなさい。

- (ア) イギリス・オランダ (イ) イギリス・スペイン
(ウ) オランダ・ポルトガル (エ) スペイン・ポルトガル

問6 ⑥について、豊臣秀吉とよとみひでよしが行っていないことを、次の(ア)～(エ)から1つ選びなさい。

- (ア) 参勤交代さんきんこうたい (イ) 刀狩かたながり (ウ) 朝鮮出兵ちようせんしゆつべい (エ) 検地けんち

問7 ⑦について、次の文章は徳川家康とくがわいえやすについて説明したものです。この文章の空欄くうらんに適する語句を、答えなさい。

「徳川家康は、豊臣秀吉とよとみひでよしの死後、1600年の(あ)の戦いで、対立する豊臣方とよとみがたの大名たちを破り、全国に大名を従したがえました。さらに、(い)城じようをせめて豊臣氏とよとみしをほろぼし、江戸幕府えどぼくふの基礎きそを築きました。」

社会

<解答用紙>

令和6年度 函館白百合学園中学校
一般入学試験(前期日程)

1	問1	X		Y		Z			
	問2	A		B		C			
	問3	A		B		C		D	
	問4								点

2	問1								
	問2	X		Y					
問3	A		B		C		D		点

3	問1	①		②		③			
	問2								
問3									点

4	問1	(1)		(2)		(3)			
		(4)		(5)					
	問2	A		C		E			
	問3								
	問4								
問5									点

5	問1								
	問2								
問3									
問4									
問5									
問6									
問7	(あ)			(い)					点

受験番号		氏名	
------	--	----	--

/50点

社会

<解答用紙>

令和6年度 函館白百合学園中学校
一般入学試験(前期日程)

1	問1	X	南極大陸	Y	北アメリカ大陸	Z	太平洋		
	問2	A	(ウ)	B	(エ)	C	(イ)		
	問3	A	(イ)	B	(エ)	C	(ア)	D	(オ)
	問4							C	1点

11 点

2	問1	(イ)	問2	X	天然林	Y	原生林		
	問3	A	(ウ)	B	(イ)	C	(エ)	D	(ア)
									1点

7 点

3	問1	①	(ア)	②	(ウ)	③	(カ)		
	問2		第9条	問3		平和主義			
									問2, 3は2点 他は1点

7 点

4	問1	(1)	蘇我	(2)	高床	(3)	東大寺		
		(4)	日本書紀	(5)	竪穴				
	問2	A	(オ)	C	(ウ)	E	(エ)	問3	(イ)
	問4		環濠集落	問5		(イ)			
									問4, 5は2点 他は1点

13 点

5	問1		藤原道長	問2		(ア)	問3		征夷大將軍	問4		う		
	問5		(エ)	問6		(ア)	問7	(あ)	関ヶ原	(い)	大阪			
														問1, 3, 7は2点 他は1点

12 点

受験番号		氏名	
------	--	----	--

/50点

国語

受験番号

氏名

合計

一

- 問 1 ①
- 問 2 ①
- 問 3 ①
- 問 4 ①

- 問 5 ②
- 問 6 ①
- 問 7 ①
- 問 8 ①

小計 各1点

30

二

- 問 1 ①
- 問 2
- 問 3
- 問 4
- 問 5
- 問 6

- 問 7 ア

小計 各1点

40

三

- 問 1
- 問 2 ①
- 問 3
- 問 4
- 問 5 ①
- 問 6 5 7
- 問 7
- 問 8

小計 各1点

30