

令和4年度

函館白百合学園中学校

オープン模試

社 会

令和4年10月2日(日)実施

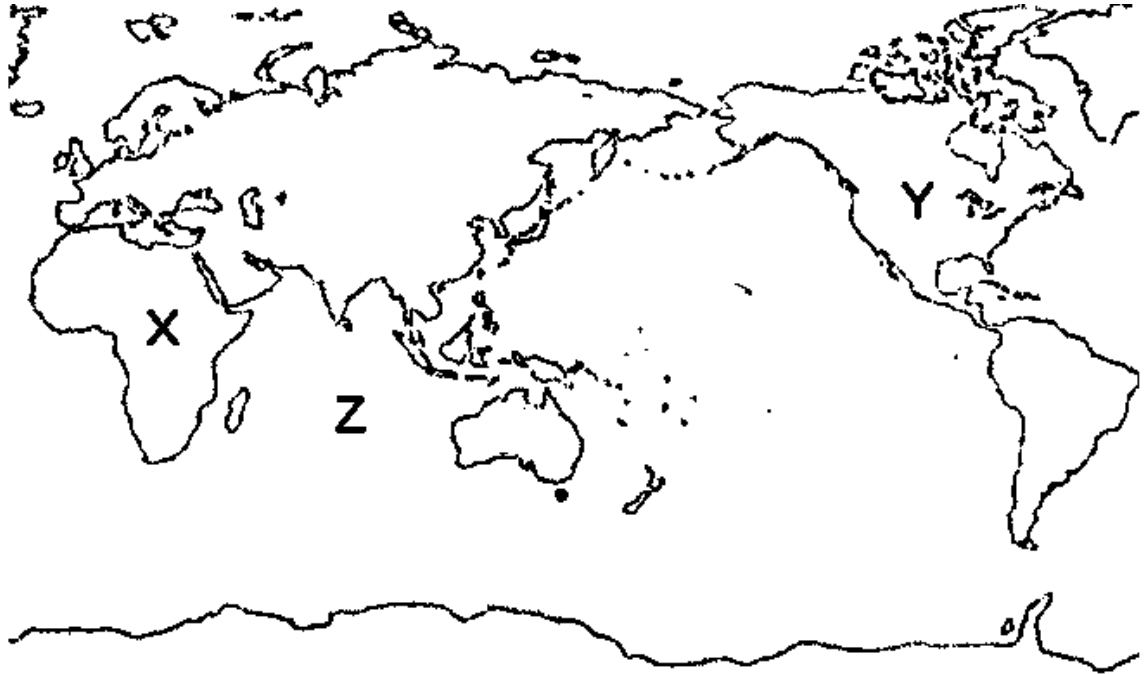
注意事項

1. 試験時間は30分です。
2. 問題は1から5まであり、11ページまであります。
3. 答えはすべて別紙の解答用紙に記入し、解答用紙だけ提出しなさい。

1

次の【略地図1】と【略地図2】を見て、あとの問いに答えなさい。

【略地図1】



【略地図2】



問1 【略地図1】中のX・Yの大陸名と、Zの大洋名を、それぞれ答えなさい。

問2 【略地図2】中のA～Dの国名を、それぞれ答えなさい。

問3 【略地図2】中のA国にある世界遺産を、次の中から1つ選びなさい。

(ア) 万里の長城 (イ) マチュピチュ (ウ) ベルサイユ宮殿 (エ) ピラミッド

問4 【略地図2】中のB国は、乳牛を飼育して、乳製品を生産する農業がさかんです。このような農業を何といいますか、漢字2字で答えなさい。

問5 【略地図2】中のC国にある山脈を、次の中から1つ選びなさい。

(ア) ヒマラヤ山脈 (イ) ロッキー山脈 (ウ) アンデス山脈 (エ) アルプス山脈

問6 【略地図2】中のD国について、下の文の( X )と( Y )にあてはまる語句の組みあわせとして適するものを、次の中から1つ選びなさい。

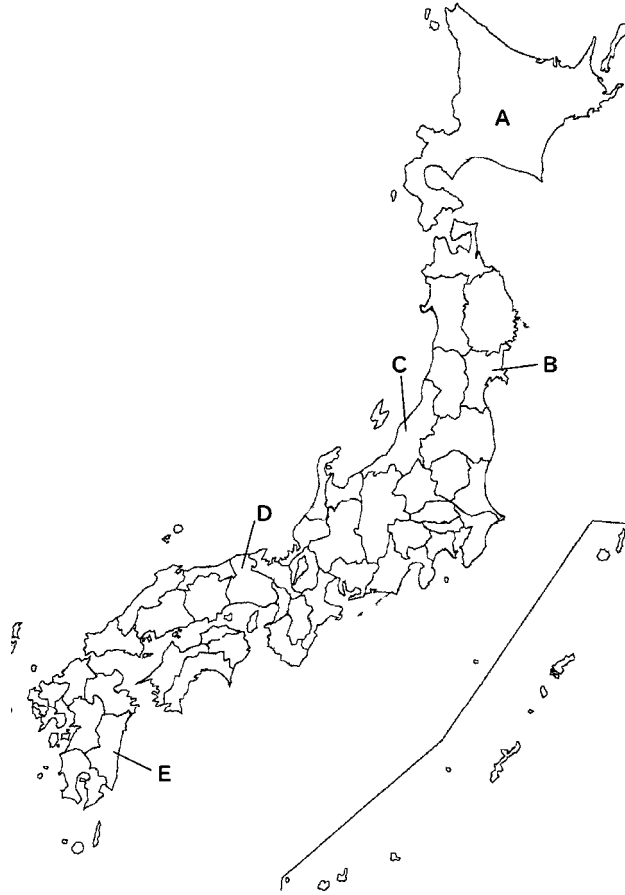
流域面積世界一の( X )が流れており、( Y )の生産量は世界一である。

- (ア) X = アマゾン川 Y = コーヒー豆  
(イ) X = ナイル川 Y = コーヒー豆  
(ウ) X = アマゾン川 Y = カカオ豆  
(エ) X = ナイル川 Y = カカオ豆

2

日本の米づくりについて、あとの問いに答えなさい。

問1 日本で米づくりがさかんな南魚沼市みなみうおぬましがある都道府県を、下の地図のA～Eから選びなさい。



問2 下の文は、米づくりに向いた自然条件についてまとめたものです。①～③から正しいものをそれぞれ選び、記号で答えなさい。

たくさんの稲いねを育てるためには平らな広い①〔ア 草原 イ 水田〕が必要です。また、日本で育てられている稲の多くは「水稲」といい、大量の水を必要とする品種です。そのため、水が豊富であることが求められます。そして、稲が実る夏の時期に、②〔ウ すずしい時間 エ 日照時間〕が長く、昼と夜の③〔オ 気温差 カ 湿度差しつどさ〕が大きいと、ねばり気やあまみのある米が育ちます。

問3 1年間の米づくりの仕事について、正しい順番にならべてあるものを、次の中から1つ選びなさい。

- (ア) 田植え→<sup>なえ</sup>苗作り→<sup>いね</sup>稲かり→しろかき
- (イ) 苗作り→しろかき→田植え→稲かり
- (ウ) 苗作り→田植え→稲かり→しろかき
- (エ) 田植え→苗作り→しろかき→稲かり

問4 日本の米づくりについて正しいものを、次の中から1つ選びなさい。

- (ア) 農業の機械化によって、これまでよりも作業が効率よく行われている。
- (イ) 農薬や化学肥料はたくさん使えば使うほど、米にも人にも安全である。
- (ウ) 米の品種改良によって味は良くなったが、健康に害がでる心配がある。
- (エ) 耕地整理によって田が小さく分けられ、管理がしやすくなっている。

問5 日本の米の消費量が減った1960年代後半から始まった、米が<sup>あま</sup>余らないようにするために行われた国の取り組みを何とといいますか、漢字4字で答えなさい。

3

次の文を読んで、あとの問いに答えなさい。

① 国会で決めた予算を使って、実際に国民の暮らしを支える仕事をしているのが内閣です。

内閣の最高責任者が、② 内閣総理大臣です。国会で指名された内閣総理大臣は、( 1 )を任命して内閣をつくります。内閣では、総理大臣と( 1 )たちが( 2 )を開き、政治の進め方を話し合います。

内閣のもとには、さまざまな府・省・庁ちようなどが置かれ、仕事を分担ぶんたんして進めます。ほとんどの( 1 )は各省庁しやうちようの責任者を務め、仕事の指示を出します。このようにして、内閣によって行われる仕事を( 3 )といいます。

問1 文中の、( 1 )～( 3 )にあてはまる語句を、それぞれ答えなさい。

問2 文中の下線部①について、国の予算の歳出さいしゆつ(2019年)で、一番多いのはどれですか、次の中から1つ選びなさい。

- (ア) 教育と文化・科学の振興しんこう      (イ) 公共事業の費用  
(ウ) 社会保障ほしやうの費用      (エ) 地方財政えんじよの援助

問3 文中の下線部②について、現在の日本の内閣総理大臣(2022年10月現在)は誰だれですか、次の中から1人選びなさい。

- (ア) 小泉純一郎こいずみじゆんいちろう      (イ) 安倍晋三あべしんぞう      (ウ) 福田康夫ふくだやすお      (エ) 岸田文雄きしだふみお

4

次のA～Eの文を読み、あとの問いに答えなさい。

- A この時代、大王や豪族は亡くなると、大きな墓にほうむられました。この墓の周りをかざっていた(1)は、円形のものや、人や動物などさまざまな種類があります。こうした出土品から、①当時の社会を知ることができます。
- B この時代、天皇を助ける地位について 聖徳太子は、朝廷で大きな力をもっていた豪族の②蘇我氏とともに、天皇中心の国づくりを目ざして、政治の改革を進めました。また、国づくりのよりどころとして、(2)を重んじ、法隆寺などの寺を建てました。
- C この時代は、国際的な交流の多い時代でした。東大寺には、聖武天皇が大切にしていた宝物が納められた(3)という蔵があります。この時代の唐に送られた③遣唐使が持ち帰った宝物などが納められています。
- D この時代、中国で日本は倭と呼ばれていました。中国の『(4)』の倭人伝には、邪馬台国という日本のくに出できます。④このくには女王が治めており、戦いが絶えなかったことや中国と交流をしていたことなどが書かれています。
- E ⑤この時代、人々は堅穴住居に住み、狩りや漁をしたり、木の実などを採集したりして暮らしていました。三内丸山遺跡を含む「北海道・北東北の縄文遺跡群」は、2021年7月ユネスコ(5)委員会で(5)登録が決定しました。

問1 A～Eの文の空らん(1)～(5)にあてはまる語句を答えなさい。

問2 A・C・Eの「この時代」とは、何時代のことですか、適するものを、1つずつ選  
びなさい。

- (ア) 弥生時代 (イ) 奈良時代 (ウ) 縄文時代  
(エ) 古墳時代 (オ) 飛鳥時代

問3 A～Eの文を古い年代順にならべなさい。

問4 ①について、I・IIの正誤の組み合わせとして、適するものを、次の中から1つ選  
びなさい。

I 千葉県と熊本県の古墳からは、5世紀の中ごろに大和朝廷の大王だったヤマトタケル  
の名前がぎざまれた剣が見つかっています。

II 設計や土木工事、金属加工などには、高度な技術を持った渡来人が、重要な役割を果  
たしました。

- (ア) I = 正 II = 正 (イ) I = 正 II = 誤  
(ウ) I = 誤 II = 正 (エ) I = 誤 II = 誤

問5 ②について、Ⅰ・Ⅱの正誤の組み合わせとして、適するものを、次の中から1つ選びなさい。

Ⅰ 聖徳太子しやうとくがなくなると、蘇我氏そがの力はますます大きくなり、天皇てんのうをしのぐほどになりました。

Ⅱ 大海人皇子おおあまのおうじと中臣鎌足なかとみのかまたりは、天皇中心てんのうの政治せいじを実現じつげんしようと、645年、蘇我氏そがをたおしました。

(ア) Ⅰ＝正 Ⅱ＝正 (イ) Ⅰ＝正 Ⅱ＝誤

(ウ) Ⅰ＝誤 Ⅱ＝正 (エ) Ⅰ＝誤 Ⅱ＝誤

問6 ③について、次の文の空らんにあてはまる人名を、次の中から1つ選びなさい。

「894年、遣唐大使けんとうしに任じられた(あ)の意見けんいで、遣唐使けんとうしが停止された。」

(ア) 菅原道真すがわらのみちざね (イ) 小野妹子おののいもこ (ウ) 鑑真かんじん (エ) 空海くうかい

問7 ④について、このくにの女王とはだれですか、漢字で答えなさい。

問8 ⑤について、この時代は約何年間続きましたか、次の中から1つ選びなさい。

(ア) 10,000年間 (イ) 5,000年間 (ウ) 1,000年間 (エ) 500年間



5 次の年表を見て、あとの問いに答えなさい。

年	できごと
794年	平安京(京都)に都を定める・・・①
1016年	藤原道長が摂政となる・・・②
1167年	平清盛が太政大臣となる・・・③
1185年	源頼朝が全国に守護・地頭を置く・・・④
1338年	足利氏が室町幕府を開く・・・⑤
1467年	応仁の乱が起こる・・・⑥
1582年	織田信長が本能寺で命を落とす・・・⑦
1592年	豊臣秀吉が朝鮮に軍を送る・・・⑧


問1 ①について、平安時代の文化の説明として、誤っているものを、次の中から1つ選  
びなさい。

- (ア) 寝殿造とよばれる広い屋しきに住み、囲碁やけまりなどの遊びを楽しんだり、和歌をよんだりしました。
- (イ) 貴族の屋しきの中は、日本の風景などをえがいたあざやかな大和絵でかざられました。
- (ウ) 紫式部の『枕草子』は、かな文字で書かれた作品で、貴族の暮らしや人々の細やかな感情を美しい文章でえがいています。
- (エ) 朝廷に仕えた女性の正装は十二単とよばれ、これらは唐風の服装を大幅に日本人向きにつくりかえた優美なものでした。

問2 ②について、これは藤原道長がむすめが天皇のきさきになったときに、よんだうたです。(あ)に適する語句を答えなさい。

この世をば わが世とぞ思う (あ)の 欠けたることも なしと思えば

問3 ③について、次の絵は1159年に平氏が政治の実権をにぎるきっかけとなった戦いをえがいています。この戦いとは何ですか、次の中から1つ選びなさい。



(ボストン美術館蔵)

- (ア) 承久の乱 (イ) 平治の乱 (ウ) 石橋山の戦い (エ) 壇ノ浦の戦い

問4 ④について、守護と地頭の説明について、I・IIの正誤の組み合わせとして、適するものを、次の中から1つ選びなさい。

I 守護は、軍事や警察の仕事にあたり、戦いときには武士団を率いて戦いました。

II 地頭は、村で年貢の取り立てや犯罪のとりしまりにあたりました。

- (ア) I = 正 II = 正 (イ) I = 正 II = 誤  
(ウ) I = 誤 II = 正 (エ) I = 誤 II = 誤

問5 ⑤について、次の文章は室町時代の文化について説明したものです。この文章の空欄に適する語句を、答えなさい。

「室町時代に、能は、観阿弥・(あ)の父子が、将軍の保護を受けて完成させました。

(い)は、能と同じ頃に生まれ、当時の日常の言葉を使い、こっけいな動作やせりふで人々を楽しませました。」

問6 ⑥について、この乱が起こったころの将軍はだれですか、次の中から1つ選びなさい。

- (ア) 足利尊氏 (イ) 足利義満 (ウ) 足利義政 (エ) 足利義昭

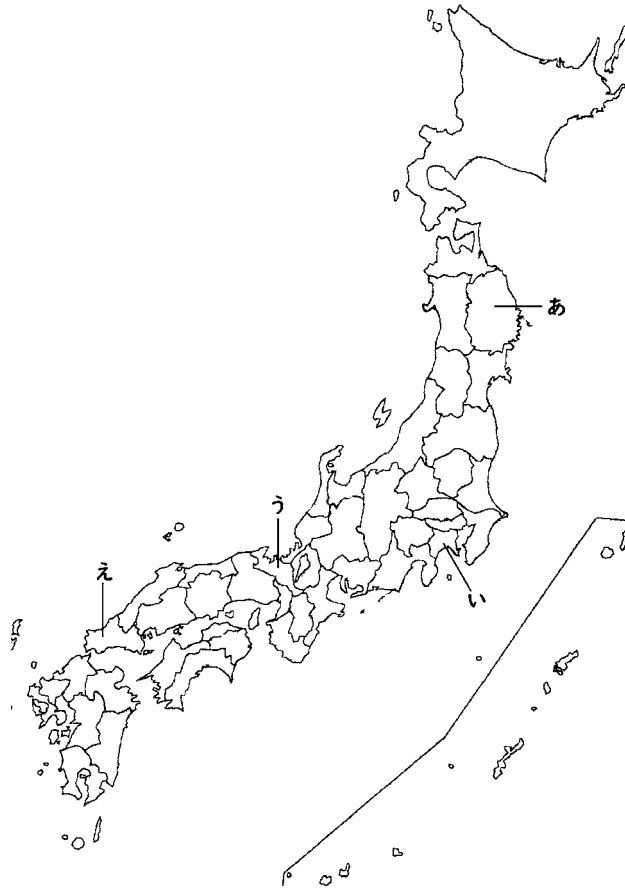
問7 ⑦について、(1) この事件をおこした織田信長<sup>おだ じけん</sup>の家臣はだれですか、次の中から1つ選びなさい。(2) また、本能寺<sup>ほんのうじ</sup>があった場所を次の地図中のあ～えから1つ選びなさい。

(ア) 今川義元<sup>よしもと</sup>

(イ) 明智光秀<sup>あけ ち みつひで</sup>

(ウ) 豊臣秀吉<sup>とよとみひでよし</sup>

(エ) 徳川家康<sup>とくがわ</sup>



問8 ⑧について、この目的は、豊臣秀吉<sup>とよとみひでよし</sup>が中国を征服<sup>せいふく</sup>しようと考えてのことでした。

このころの中国の王朝を、次の中から1つ選びなさい。

(ア) 宋<sup>そう</sup>

(イ) 元<sup>げん</sup>

(ウ) 明<sup>みん</sup>

(エ) 清<sup>しん</sup>

# 社 会

## <解答用紙>

令和4年度 オープン模試

函館白百合学園中学校

1	問1	X		Y		Z							
	問2	A		B		C		D					
	問3			問4		問5		問6			点		
2	問1			問2	Ⓐ		Ⓑ		Ⓒ		問3		
	問4			問5									点
3	問1	1		2		3							
	問2			問3								点	
4	問1			問2			問3						
	問4			問5			問6					点	
5	問1	A		B		C							
		D		E									
	問2			問3		問4		問5					
	問6		問7		問8		問9				点		

受験番号		氏名	
------	--	----	--

／50点
------

# 社 会

## <解答用紙>

令和4年度 オープン模試  
函館白百合学園中学校

**1** 問1 X アフリカ大陸 Y 北アメリカ大陸 Z インド洋

問2 A フランス B ニュージーランド C カナダ D ブラジル

問3 (ウ) 問4 酪農 問5 (イ) 問6 (ア)

問4は2点 他は1点 **12点**

**2** 問1 C 問2 ① イ ② エ ③ オ 問3 (イ)

問4 (ア) 問5 生産調整 問5は2点 他は1点 **8点**

**3** 問1 (1) 国務大臣 (2) 閣議 (3) 行政

問2 (ウ) 問3 (エ) 1点 **5**

**4** 問1 (1) はにわ(埴輪) (2) 仏教 (3) 正倉院

(4) 魏志 (5) 世界遺産

問2 A (エ) C (イ) E (ウ) 問3 E → D → A → B → C

問4 (ウ) 問5 (イ) 問6 (ア) 問7 卑弥呼

問8 (ア) 問3は2点、他は1点 **15点**

**5** 問1 (ウ) 問2 もち月 問3 (イ) 問4 (ア)

問5 (あ) 世阿弥 (い) 狂言 問6 (ウ)

問7 (1) (イ) (2) う 問8 (ウ) 1点 **10点**

受験番号		氏名	
------	--	----	--

**50点**

令和4年度

函館白百合学園中学校

オープン模試

社 会 解答・解説

令和4年10月2日(日)実施

1 世界の大陸と大洋名、世界の国の特徴についての出題です。

問1 【略地図1】中の大陸名Xはアフリカ大陸、Yは北アメリカ大陸となります。また、Zの大洋名は、インド洋です。地球には六大陸（ユーラシア大陸・アフリカ大陸・北アメリカ大陸・南アメリカ大陸・オーストラリア大陸・南極大陸）と三大洋（太平洋・大西洋・インド洋）があります。それぞれおぼえるようにしてください。

問2 【略地図2】中のA国はフランスです。ヨーロッパ州にあります。B国はニュージーランドです。オセアニア州にあります。C国はカナダです。北アメリカ州にあります。D国はブラジルです。南アメリカ州にあります。世界を、いくつかの地域ちいきに分けると、よく使われるのが、六つの州に分ける方法です。世界の国々はもちろん、六つの州名（ヨーロッパ州・アフリカ州・アジア州・北アメリカ州・南アメリカ州・オセアニア州）もおぼえるようにしてください。

問3 A国（フランス）にある世界遺産は、(ウ)のベルサイユ宮殿きゆうでんです。ベルサイユ宮殿は、1682年、フランス王ルイ14世が建てました。(ア)の「万里の長城」ばんりちやうじやうは中国、(イ)の「マチュピチュ」はペルー、(エ)の「ピラミッド」はエジプトにある世界遺産です。

問4 乳牛にゅうぎゆうを飼育して、乳製品にゅうせいひんを生産する農業を「酪農らくのう」といいます。乳牛は暑さに弱いため、この農業は、夏にすずしい気候の地域でおもに行われています。

問5 C国（カナダ）にある山脈は、(イ)のロッキー山脈です。この山脈は、北アメリカ大陸の西側をほぼ南北に走る大山脈です。

問6 D国（ブラジル）にある、流域面積りゅういき世界一の河川はアマゾン川（X）です。この川は、川幅かわはばが広く、世界で2番目に長い河川です。また、ブラジルで生産されるコーヒー豆（Y）は、気候や土が、コーヒー豆栽培さいばいに適しているブラジル高原でおもに栽培されます。

2 日本の米づくりについての出題です。

問1 米づくりがさかんな南魚沼市みなみうおぬましは、地図中Cの新潟県にあります。新潟県は、米の生産量では、毎年北海道と1位、2位を争っています。

問2 多くの稲いねを育てるには、平らで広い④〔イ 水田〕と大量の水が必要です。また夏の時期に、⑤〔エ 日照時間〕が長く、昼と夜の③〔オ 気温差〕が大きいとおいしい米が育ちます。

米をつくる農業は、どの都道府県でもおこなわれていますが、なかでも新潟県や北海道、東北地方には、大きな川の下流に広い平野があり、また、冬にたくさんの雪がふり、山の上につもった雪が春からとけて川に流れこむことで、水不足の心配がありません。そして夏の気温が30℃以上に上がる地域もあり、おいしい米づくりをする場所だといわれています。

問3 答えは(イ)です。米づくりには、春の<sup>なえ</sup>苗作りから、しろかき、田植え、秋の稲かりまで、1年を通じてさまざまな作業があります。

問4 答えは(ア)です。昔の米づくりは、田植えや稲かりもすべて手作業で行っていました。しかし、さまざまな農業機械が取り入れられたことで、作業にかかる時間も短くなり、農作業が効率よく行われるようになりました。(イ)の文ですが、農薬は使いすぎると人の健康に悪い<sup>えいきょう</sup>影響をおよぼす心配があり、また、化学肥料は、使いすぎると土が固くなったり、稲が成長しすぎてたおれたりする心配があるのであやまりです。(ウ)の文ですが、品種改良によって味はもちろん、病気に強い米がつくられるようになりました。健康に害がでるといのはあやまりです。(エ)の文ですが、耕地整理とは、小さかったり、入り組んだりしている田を、大きな田に整えることです。田が小さく分けられるといのはあやまりです。

問5 答えは「生産調整」です。米の消費量がへってきて、国は米が余らないようにするため、米を作っている農家にたいして、1960年代後半から稲の作付面積をへらし、他の作物を作ることをすすめました。

### 3 内閣についての出題です。

問1 内閣の最高責任者の内閣総理大臣は、「国务大臣」(1)を任命して内閣をつくります。また、仕事の方針をきめる会議である「閣議」(2)を開き、国の政治の進め方を話し合います。また、国会で決めた<sup>ほうりつ</sup>法律や予算にもとづいて、実際に国の政治をおこなうことを「行政」(3)と言います。

問2 1年間の財政の支出を<sup>さいしゅつ</sup>歳出といいます。2019年の歳出で一番多いのは、私たちの健康や生活を守るための費用である(ウ)の「<sup>ほしやう</sup>社会保障の費用」です。

問3 現在の日本の内閣総理大臣は、(エ)の<sup>きしだふみお</sup>岸田文雄です。岸田文雄は、日本歴代、100代目と101代目の内閣総理大臣です。



4 短文を読んで、問いに答える問題です。縄文時代から奈良時代まで出題しています。

問1 (1) は、はにわ(埴輪)、(2) は仏教、(3) は正倉院、(4) は魏志、(5) は世界遺産が答えです。(5) の世界遺産については、最近のできごとですが、日ごろからニュースには関心を持つようにしましょう。

問2 Aは(エ)、Cは(イ)、Eは(ウ)になります。問3の答えを参考にしてください。

問3 古い年代順にE(縄文時代)→D(弥生時代)→A(古墳時代)→B(飛鳥時代)→C(奈良時代)です。

問4 Iは誤り、IIは正しい文章なので、答えは(ウ)です。Iは、千葉県を埼玉県、ヤマトタケルをワカタケルに置き換えると正しい文章になります。埼玉県の稲荷山古墳から出土した鉄剣や熊本県の江田船山古墳から出土した鉄刀に「獲加多支鹵大王」と刻まれており、ワカタケルは雄略天皇だと考えられています。ヤマトタケルは、「古事記」や「日本書紀」の中に出てくる伝説上の英雄です。

問5 Iは正しい、IIは誤りの文章なので、答えは(イ)です。IIは、大化の改新について書いてある文章で、大海人皇子を中大兄皇子に置き換えると正しい文章になります。大海人皇子は、壬申の乱で天智天皇の子と戦った天智天皇の弟で、この戦いに勝利し、天武天皇となります。

問6 答えは(ア)の菅原道真です。菅原道真は平安時代の貴族・学者で、死後、天神様としてまつられ、学問の神様としてあがめられています。(イ)の小野妹子は、聖徳太子によって隋に派遣された外交使節です。(ウ)の鑑真は、唐から来日した僧侶で、日本の仏教を発展させ、唐招提寺を建てました。(エ)の空海(弘法大師)は、9世紀はじめ、遣唐使とともに唐で仏教を学び、帰国後、仏教の宗派である真言宗を広めました。

問7 答えは卑弥呼です。卑弥呼は、30ほどのくにを従えていたと考えられています。邪馬台国があった場所としては、九州地方とする説と近畿地方とする説があります。

問8 縄文時代は、今から1万2000年ほど前に始まり、1万年近く続きました。

5 年表を見て、問いに答える問題です。平安時代から安土桃山時代まで出題しています。

問1 誤っているものは(ウ)で、『枕草子』は、清少納言が書いた随筆集、『源氏物語』は、紫式部が書いた長編小説です。

問2 空欄に入る語句は「もち月」です。藤原道長は、むすめが天皇のきさきになったことを喜び、貴族たちの前で「この世は自分のもので、満月のように何も欠けているものはない」といううたをよみました。

問3 答えは、(イ)の平治の乱です。これは、平氏と源氏の対立、貴族間の対立で起こった内乱で、この絵は「平治物語絵巻」の一部です。

問4 I・IIともに正しい文章です。

問5 (あ)には世阿弥が入ります。父の観阿弥は、足利義満の保護を得て、能の基礎を築きました。観阿弥の子の世阿弥は能を芸術として大成し、能に関する理論書「風姿花伝」をあらわしました。(い)には狂言が入ります。能と能の合間に上演される演劇です。笑いを基本として、大名や山伏、僧侶らを、庶民の立場から皮肉ったり、あざ笑ったりしたものが多いたのが特徴です。

問6 答えは、(ウ)の足利義政です。室町幕府8代将軍義政の跡継ぎをめぐる応仁の乱がおき、政治の場から退いた後、東山に銀閣を建てました。(ア)の足利尊氏は、室町幕府を開いた初代将軍です。(イ)の足利義満は、室町幕府3代将軍で南北朝の合一を行い、室町時代の全盛期を築きました。また、明と国交を結び、勘合を用いた貿易を行いました。のち、京都の北山に金閣を建てました。(エ)の足利義昭は室町幕府15代将軍で、織田信長に助けられて将軍となりましたが、のちに信長と対立し京都を追われ、室町幕府はほろびました。

問7 (1)の答えは、(イ)の明智光秀です。光秀は、織田信長の家臣で、京都の本能寺で信長を襲い自害させましたが、豊臣秀吉によって倒されました。(ア)の今川義元は東海地方を支配した戦国大名で桶狭間の戦いで織田信長に敗れました。(ウ)の豊臣秀吉は、織田信長の家臣で、信長の死後、その後継者となり、大阪城を本拠地として天下統一を果たしました。(エ)の徳川家康は、戦国時代・安土桃山時代の大名で、信長と同盟関係にありましたが、信長の死後秀吉に従い、秀吉の死後は、江戸幕府初代将軍になりました。(2)の本能寺があった場所は、「う」(京都府)です。

問8 答えは(ウ)の明です。日本が室町時代のころ、中国は元から明の王朝に替わりました。