

令和5年度

函館白百合学園中学校

一般入学試験問題(後期日程)

社 会

令和5年2月5日(日)実施

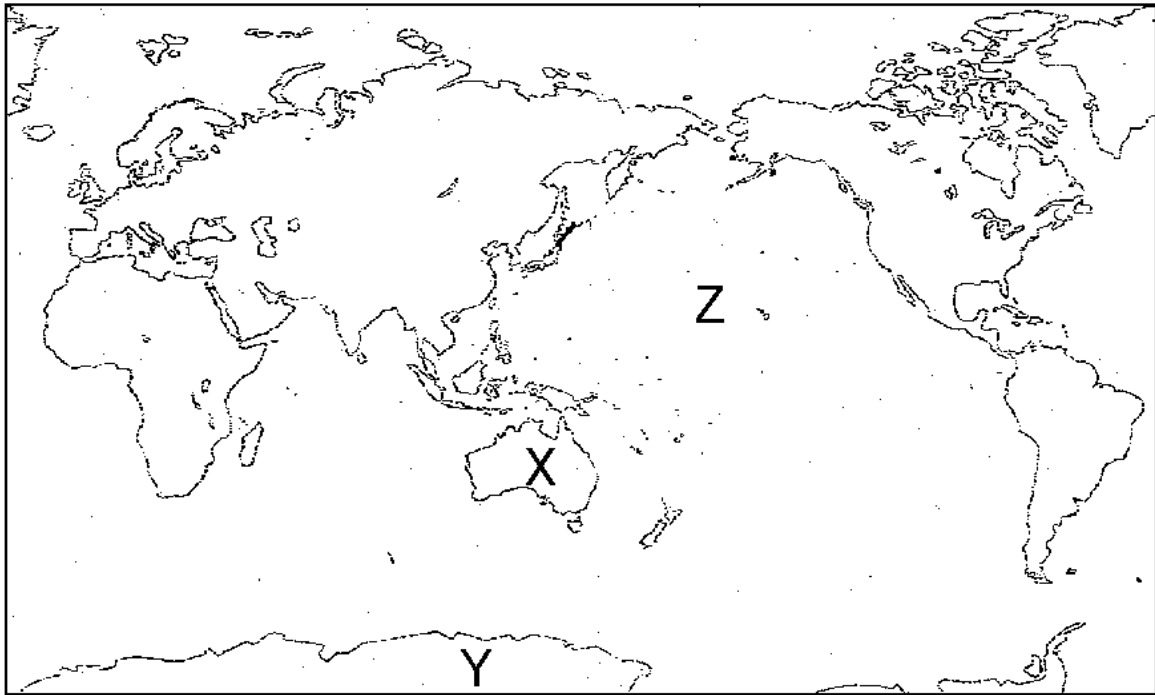
注意事項

1. 試験時間は30分です。
2. 問題は1から5まであり、9ページまであります。
3. 答えはすべて別紙の解答用紙に記入し、解答用紙だけ提出しなさい。

1

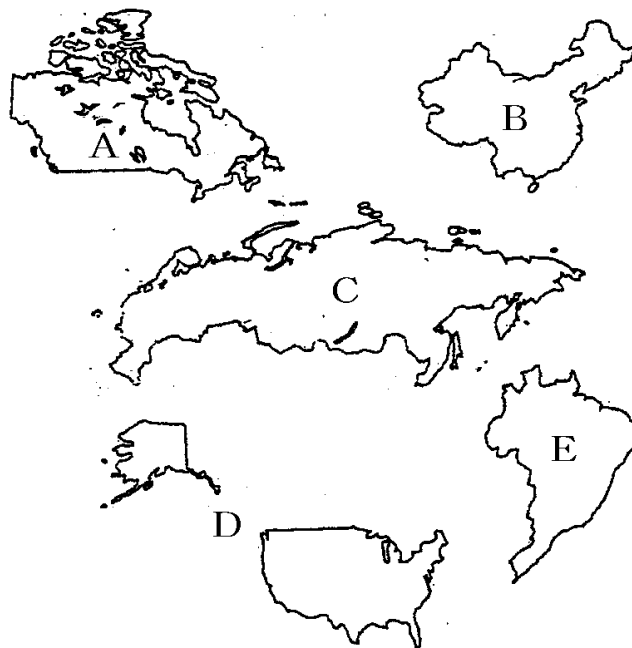
次の【略地図1】・【略地図2】・【図1】を見て、あとの問いに答えなさい。

【略地図1】



問1 【略地図1】中のX・Yの大陸名と、Zの大洋名を、それぞれ答えなさい。

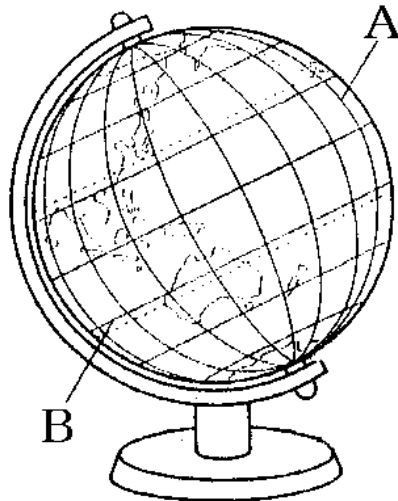
【略地図2】



問2 【略地図2】中のA～E国は、面積の大きさ1位～5位までの国を示しています。
A～Eの国名を、それぞれ答えなさい。

問3 【略地図2】中のA～E国で、世界人口第1位の国があります。その国を記号で答えなさい。

【図1】



問4 【図1】は、地球儀をえがいたものです。これについて、(1)～(3)の問いに答えなさい。

(1) 地球儀のたてに引かれたAの線を何といいますか、答えなさい。

(2) Aの線の基準となる0度の線が通っているヨーロッパの国を、次の中から1つ選びなさい。

(ア) ポルトガル (イ) ドイツ (ウ) イタリア (エ) イギリス

(3) Bの線は赤道を基準にして、南北にそれぞれ何度ずつありますか、次の中から1つ選びなさい。

(ア) 180度 (イ) 120度 (ウ) 90度 (エ) 60度

2

情報を伝える人々と、くらしと産業を変える情報通信技術について、次の問いに答えなさい。

問1 下のA～Dの文は、ニュース番組制作せいさくにかかわっている人々の、仕事の様子ようすについてまとめたものです。A～Dの文にあてはまる仕事をする人々を、次の中からそれぞれ選びなさい。

- A 事故じこや事件じけんの現場げんばに行き、インタビューや、映像をとったりして情報を集める。
- B どの情報が重要かを判断し、番組で伝えるニュースの内容や、順番などを決める。
- C 集めた情報や映像をもとにして、見る人にわかりやすく字幕や図とともにまとめる。
- D ニュースの内容をしっかりとらえて、本番で視聴者しちやうしやにわかりやすく正確せいさくに伝える。

(ア) 編集責任者へんしゅうせきにん (イ) アナウンサー (ウ) 取材記者 (エ) 映像編集者へんしゅう

問2 「くらしの中に広がる情報通信技術」に関する、下の文の(①)～(④)にあてはまる語句(同じ番号には同じ語句が入ります)を、それぞれ答えなさい。

わたしたちは、(①)を利用して情報を得たり、広く発信したりしています。このような情報のやりとりに使われる情報通信技術は、くらしのさまざまな場面で見られます。

買い物の支しはらいでは、現金げんきんのほかに(②)の利用が多くなっています。鉄道やバスの乗車にも、(③)を利用できる地域ちいきが増えています。この場合も、読み取り用の機械とカードとの間で、情報がいっしゅんでやりとりされています。

(①)を使って商品を注文すると、自宅まで商品がとどくサービスも増えています。このように情報通信技術の進歩によって、買い物のしかたも変わってきています。

また、多くの店のレジでは、商品についている(④)を機械で読み取り、「いつ、どの商品が、いくらで、いくつ売れたか」といった情報をいっしゅんで記録しています。POSポスシステムを通じて管理するこれらの情報を生かして、店では商品の仕入れ量を決めています。

3

次の文章を読み、あとの問いに答えなさい。

日本国憲法には、基本的人権の尊重、(あ)、平和主義の三つの原則があります。

基本的人権とは、だれもが生まれながらにしてもっている、人間らしく生きるための権利のことです。①憲法はさまざまな国民の権利を保障しています。

政治に参加する権利は(あ)にもとづいています。憲法では、国の政治を進める権利は国民にあると定められており、②国民は自分たちの代表を選ぶことによって、国の政治を動かしています。天皇は、日本の国や国民の(い)であり、政治については権限をもっていません。

憲法の前文には、二度と戦争をしないという決意が示され、憲法の条文では、外国との争いを武力で解決しない、そのための戦力をもたないことと定めています。③かつて原子爆弾を落とされた日本は、世界でただ一つの被爆国として、国際社会において平和の大切さをうたっています。

問1 (あ)・(い)にあてはまる語句を答えなさい(同じ記号には同じ語句が入ります)。

問2 下線部①について、健康で文化的な生活を営む権利を何といいますか、答えなさい。

問3 下線部②について、この行為を何といいますか、漢字2文字で答えなさい。

問4 下線部③について、1945年8月6日に原子爆弾が落とされた都市の名前を漢字で答えなさい。

4

次の年表を見て、問いに答えなさい。

年代	おもなできごと
1868年	(①) が政権 ^{せいけん} を朝廷に返す
1889年	大日本帝国憲法 ^{だいにほんていこくけんぽう} が發布される・・・②
1911年	不平等条約を完全に改める・・・③
1933年	国際連盟 ^{こくさいれんめい} を脱退する・・・④
1951年	日米安全保障条約 ^{にちべいあんぜんほしやうじやうやく} を結ぶ・・・⑤
↑ A ↓	
1972年	沖縄が日本に復帰 ^{ふっき} する

問1 (①) にあてはまる江戸幕府最後の将軍の名前を答えなさい。

問2 ②について、I・IIの文の正誤^{せいご}の組み合わせとして、適するものを次の中から1つ選びなさい。

I この憲法は、アメリカの憲法を参考につくられた。

II この憲法は、天皇が国民にあたえる形で発布^{はつぷ}された。

(ア) I = 正 II = 正 (イ) I = 正 II = 誤

(ウ) I = 誤 II = 正 (エ) I = 誤 II = 誤

問3 ③について、この時、外務大臣小村寿太郎^{こむらじゅたろう}が回復した権利は何ですか、答えなさい。

問4 ④について、日本が国際連盟^{こくさいれんめい}を脱退する背景となったできごとを次の中から1つ選びなさい。

(ア) 日清戦争^{にっしんせんそう} (イ) 満州事変^{まんしゅうじへん} (ウ) 第一次世界大戦 (エ) 日露戦争^{にちろせんそう}

問5 ⑤について、この条約と同じ日にある戦争の平和条約が結ばれました。この平和条約が結ばれた都市を次の中から1つ選びなさい。

(ア) サンフランシスコ (イ) ニューヨーク (ウ) パリ (エ) ジュネーブ

問 6 A の時期のできごととして、正しいものを次の中から 1 つ選びなさい。

- (ア) 関東大震災がおこる。
- (イ) 農地改革が始まる。
- (ウ) 日中平和友好条約を結ぶ。
- (エ) 東京オリンピックが開かれる。

5

次の A～E の文を読み、あとの問いに答えなさい。

- A この人物は、①室町時代に僧として修行しながらすみ絵を学んだ。山口に移り住んだ後、中国にわたり、帰国後、それまでの水墨画すいぼくがに独自の考えを加え、新しい画風を打ち立てた。
- B この人物は、②鎌倉幕府を開いた人物の弟で、平氏との戦いで活躍かつやくした。1185年、(1 a 壇ノ浦 b 桶狭間)の戦いで平氏をほろぼしたが、やがて兄と対立し、東北で敗死した。
- C この人物は、645年、のちに天智天皇てんじてんのうとなる中大兄皇子なかのおおえのおうじと手を結んで蘇我氏そがをたおした。その後、(2 a 唐 b 元)から帰国した留学生らとともに、天皇中心の国づくりを始めた。
- D この人物は、道路や橋をつくるなど土木工事を進め、民衆から尊敬そんけいを集めた。聖武天皇しょうむてんのうのもとにに応じ、(3 a 法隆寺 b 東大寺)の大仏づくりに協力した。大仏は彼の死後、752年に完成した。
- E この人物は、③江戸幕府のもと役人であった。彼は、幕府がききんで苦しむ人々を救わないことを批判し、大阪で反乱をおこした。この計画は失敗したが、幕府に衝撃しょうげきをあたえた。

問1 A～E の文章の「この人物」とはだれですか、それぞれ記号で答えなさい。

- (ア) 鑑真がんじん (イ) 行基ぎょうき (ウ) 雪舟せつしゅう (エ) 世阿弥ぜあみ (オ) 藤原鎌足ふじわらのかまたり (カ) 藤原道長ふじわらのみちなが
 (キ) 源義経みなものよしつね (ク) 源頼朝みなものよりとも (ケ) 天草四郎あまくさしろう (コ) 大塩平八郎おしおへいはちろう

問2 文中の空らん(1)～(3)に適する語句をそれぞれ選び、記号で答えなさい。

問3 下線部①について、この時代の文化の説明として、正しいものを次の中から1つ選びなさい。

- (ア) 人々の間で歌舞伎かぶきや浮世絵うきよえが人気を集めた。
 (イ) 南蛮貿易なんぼんの影響を受けて文明開化ぶんめいかいがおこった。
 (ウ) 能のうが大成され、狂言きょうげんが民衆みんしゅうの間に広まった。
 (エ) 寝殿造しんでんづくりが始まり、和風建築のもとになった。

問4 下線部②について、この幕府の時代の説明として、正しいものを次の中から1つ選びなさい。

- (ア) 武家諸法度により、参勤交代の制度が定められた。
- (イ) 農民たちは租・調・庸を納め、兵役をつとめた。
- (ウ) 刀狩令によって、農民たちから武器を取り上げた。
- (エ) 将軍と武士の間にご恩と奉公の関係が結ばれた。

問5 下線部③について、この時代のできごとを説明したⅠ・Ⅱの文の正誤の組み合わせとして、適するものを次の中から1つ選びなさい。

- Ⅰ 蝦夷地でシャクシャインにひきいられたアイヌの人々が幕府に抵抗した。
 - Ⅱ 幕府は、中国を征服しようと2度にわたって朝鮮半島に大軍を送った。
- (ア) Ⅰ = 正 Ⅱ = 正 (イ) Ⅰ = 正 Ⅱ = 誤
- (ウ) Ⅰ = 誤 Ⅱ = 正 (エ) Ⅰ = 誤 Ⅱ = 誤

社会

<解答用紙>

令和5年度 函館白百合学園中学校

一般入学試験(後期日程)

1 問1 X Y Z

問2 A B C

D E 問3

問4 (1) (2) (3)

点

2 問1 A B C D

問2 ① ②

③ ④

点

3 問1 あ い 問2

問3 問4

点

4 問1 問2 問3

問4 問5 問6

点

5 問1 A B C D E

問2 1 2 3 問3 問4

問5

点

受験番号	<input type="text"/>	氏名	<input type="text"/>
------	----------------------	----	----------------------

/50点

社会

<解答用紙>

令和5年度 函館白百合学園中学校

一般入学試験(後期日程)

1	問1	X	オーストラリア大陸	Y	南極大陸	Z	太平洋
---	----	---	-----------	---	------	---	-----

問2	A	カナダ	B	中華人民共和国	C	ロシア連邦
----	---	-----	---	---------	---	-------

D	アメリカ合衆国	E	ブラジル	問3	B
---	---------	---	------	----	---

問4	(1)	経線	(2)	(エ)	(3)	(ウ)	各1	点
----	-----	----	-----	-----	-----	-----	----	---

2	問1	A	(ウ)	B	(ア)	C	(エ)	D	(イ)
---	----	---	-----	---	-----	---	-----	---	-----

問2	①	インターネット	②	電子マネー
----	---	---------	---	-------

③	ICカード	④	バーコード	各1	点
---	-------	---	-------	----	---

3	問1	あ	国民主権	い	象徴	各1	問2	生存権、社会権	1
---	----	---	------	---	----	----	----	---------	---

問3	選挙(漢字)	2	問4	広島	2	点
----	--------	---	----	----	---	---

4	問1	徳川慶喜	2	問2	ウ	1	問3	関税自主権	1
---	----	------	---	----	---	---	----	-------	---

問4	イ	1	問5	ア	1	問6	エ	1	点
----	---	---	----	---	---	----	---	---	---

5	問1	A	ウ	B	キ	C	オ	D	イ	E	コ	各2
---	----	---	---	---	---	---	---	---	---	---	---	----

問2	1	a	2	a	3	b	各1	問3	ウ	1	問4	エ	1
----	---	---	---	---	---	---	----	----	---	---	----	---	---

問5	イ	1	点
----	---	---	---

受験番号		氏名	
------	--	----	--

/50点
