

令和3年度

函館白百合学園中学校

オープン模試

社 会

令和3年10月3日(日)実施

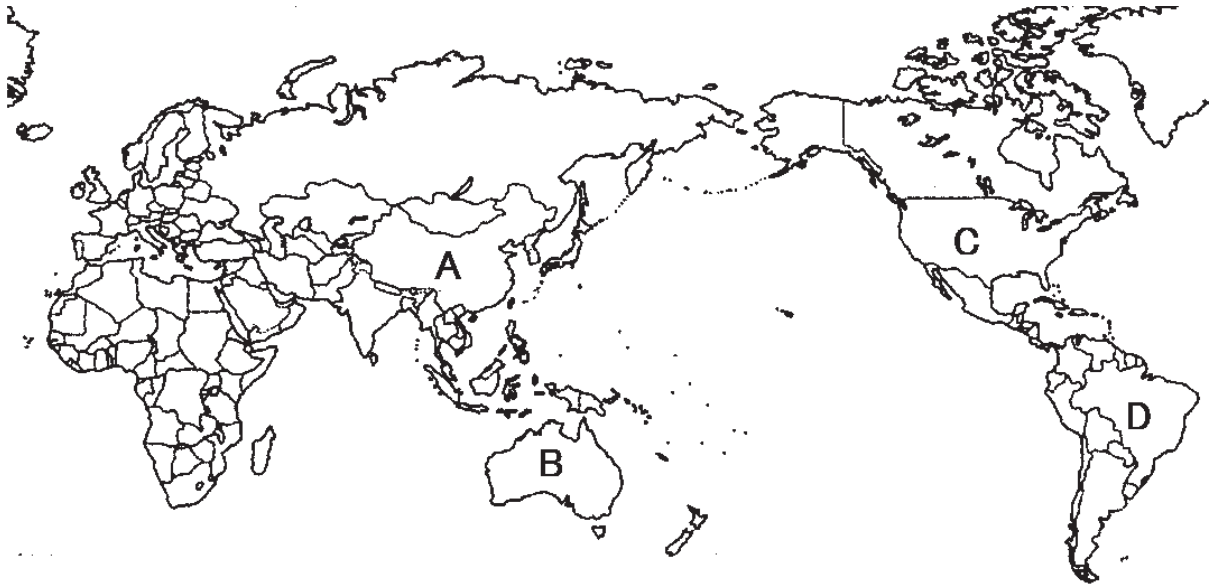
注意事項

1. 試験時間は30分です。
2. 問題は1から5まであり、8ページまであります。
3. 答えはすべて別紙の解答用紙に記入し、解答用紙だけ提出下さい。

1

次の【略地図1】～【略地図3】を見て、あとの問いに答えなさい。

【略地図1】



問1 【略地図1】中の、A～Dの国について説明した文として適するものを、それぞれ選びなさい。

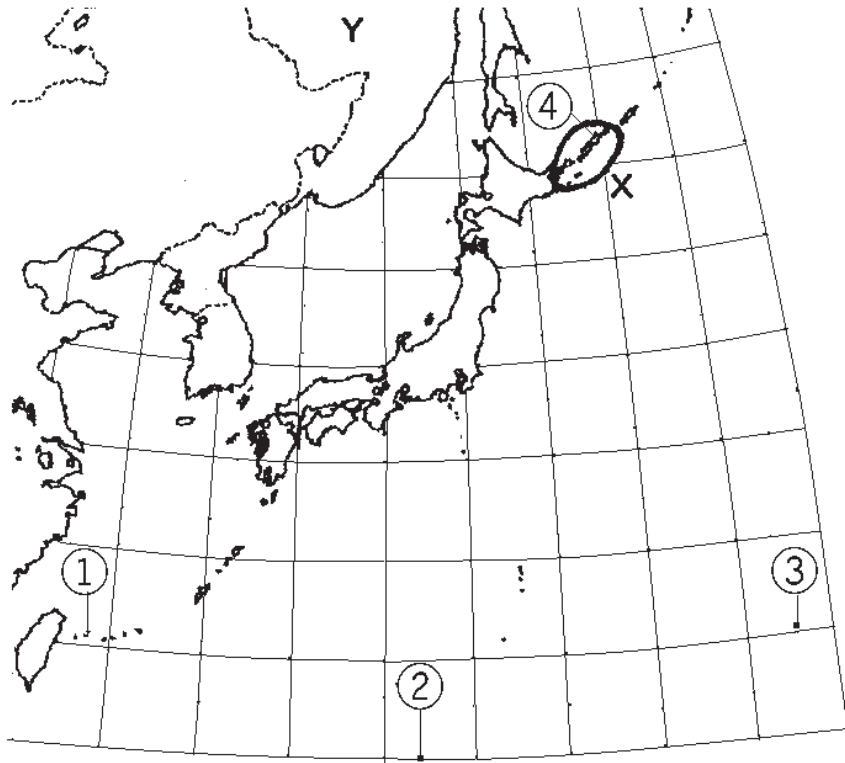
- (ア) 石炭・鉄鉱石などの鉱産資源が多く、牧羊もさかんである。
- (イ) コーヒー豆の生産量が多く、流域面積世界最大の河川がある。
- (ウ) 世界一の人口をもち、近年めざましい経済発展をとげている。
- (エ) コンピュータや航空宇宙産業など、先端技術産業が発達している。

【略地図2】



問2 【略地図2】中のア・イの大陸名と、ウの大洋名を、それぞれ答えなさい。

【略地図 3】



問 3 【略地図 3】中の①～④は、東西南北の日本のはん圀のはしの島です。日本の排他的経済水域を守るため、島が水没しないように、コンクリートでまわりを固めている島はどれですか。【略地図 3】中の①～④から選び、島名も答えなさい。

問 4 【略地図 3】中の X について、次の問いに答えなさい。

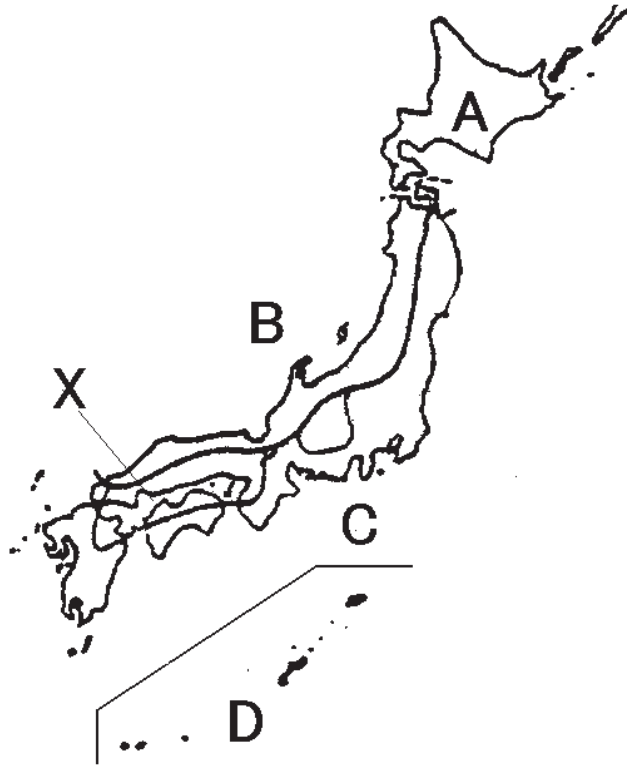
(1) ④をふくむ、X の島々をまとめて何といいますか、漢字 4 字で答えなさい。

(2) X の島々は、太平洋戦争が終ったあとソビエト連邦が占領し、その後もソビエト連邦をひきついだ【略地図 3】中の Y 国が不法に占領しています。この Y 国の国名を答えなさい。

2

日本の気候について、あとの問いに答えなさい。

【略地図】

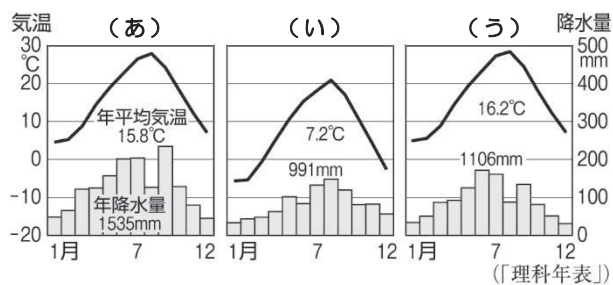


問1 【略地図】を見て、次の問いに答えなさい。

(1) 【略地図】中のA～Dの気候の特色について説明した文として適するものを、それぞれ選びなさい。

- (ア) 1年を通して雨が多く、冬もあたたかい。
- (イ) 夏は気温が高くてむし暑く、冬は晴れが多い。
- (ウ) 1年を通して雨が少なく、冬の寒さがきびしい。
- (エ) 季節風の^{えいききょう}影響で、冬に雨もしくは雪が多い。

(2) 【略地図】中のXの^{ちいき}地域に適する、^{こうすいりょう}気温と降水量のグラフを選びなさい。



問2 下の文の（ 1 ）～（ 3 ）に適する語句を、それぞれ答えなさい。

日本の気候の大きな特色は、（ 1 ）の変化が見られることです。福島県会津地方では、春には桜が咲き、夏には太陽がふりそそぎ、秋には木々が紅葉し、冬には雪景色が見られます。また、日本の大部分の地域では、6月から7月にかけて（ 2 ）が続き、多くの雨がふります。また、夏から秋にかけては、南から暴風雨をとともなう（ 3 ）が日本列島にやってきて、大きな被害をもたらすことも少なくありません。

3

日本で起きた四大公害病についてまとめた表を見て、あとの問いに答えなさい。

病 名	起こった地域	原 因
水俣病	熊本県・鹿児島県の水俣湾沿岸	（ A ）
新潟水俣病	新潟県阿賀野川下流域	（ A ）
（ 1 ）	富山県神通川下流域	（ B ）
（ 2 ）	三重県四日市市	（ C ）

問1 表中の（ 1 ）・（ 2 ）に適する語句を、それぞれ答えなさい。

問2 表中の（ A ）～（ C ）に適する原因を、それぞれ選びなさい。

- （ア） 鉱山会社から出たカドミウム
- （イ） 石油化学工場から出たけむり
- （ウ） 化学工場から出た有機水銀

4

次の年表を見て、問いに答えなさい。

世紀	できごと
3世紀	邪馬台国の卑弥呼が(①)に使いをおくる・・・②
5世紀	大仙古墳がつくられる・・・③
6世紀	大陸から(④)が伝わる
7世紀	聖徳太子が政治改革を進める・・・⑤
8世紀	奈良の(⑥)に都がうつされる

問1 (①)に適する中国の王朝を、次の中から選びなさい。

(ア) 魏 (イ) 隋 (ウ) 唐 (エ) 元 (オ) 明

問2 ②の時代(弥生時代)について、I・IIの正誤の組み合わせとして、適するものを次の中から1つ選びなさい。

I 函館市の大船遺跡は、この時代の代表的な遺跡である。

II 大陸から米づくりの技術や、青銅器や鉄器が伝わった。

(ア) I = 正 II = 正 (イ) I = 正 II = 誤

(ウ) I = 誤 II = 正 (エ) I = 誤 II = 誤

問3 ③について、大仙古墳のような形の古墳を何といいますか、答えなさい。

問4 (④)には、日本の文化に大きな影響をあたえた宗教が入ります。この宗教の名前を漢字で答えなさい。

問5 ⑤について、正しいものを次の中から1つ選びなさい。

(ア) 聖徳太子は、家来との間に「ご恩と奉公」の関係を結ばせた。

(イ) 聖徳太子は、能力のある豪族を取り立てる冠位十二階をつくった。

(ウ) 聖徳太子は、太政大臣に任じられ、一族で重要な役職を独占した。

(エ) 聖徳太子は、「古事記」や「日本書紀」などの歴史書をつくらせた。

問6 (⑥)に適する語句を答えなさい。

5

次の A～E の文章を読み、あとの問いに答えなさい。

- A この人物と中臣鎌足は、645年、蘇我氏をたおし、①天皇を中心とする政治の実現をはかる改革を進めた。この人物は、のちに(1)天皇となった。
- B この人物は、11世紀、むすめを天皇のきさきにして天皇家との関係を深め、天皇に代わって政治を行った。この人物の時代に②国風文化が栄えた。
- C この人物は、1185年、(2)の戦いにおいて平氏をほろぼし、1192年、征夷大將軍に任じられた。この人物が始めた武士の政権を③鎌倉幕府という。
- D この人物は、室町幕府の3代將軍であった。この人物は、④中国と貿易を始め、京都の北山に別荘として(3)を建てるなど、強い権力をふるった。
- E この人物は、豊臣秀吉のもとで関東地方を支配していた。1603年、征夷大將軍に任じられて江戸幕府を開き、1615年、(4)の豊臣氏をたおした。

問1 A～E の文章の「この人物」とはだれですか、それぞれ答えなさい。

問2 下線部①について、この改革を何といいますか、答えなさい。

問3 空らん(1)に適する語句を、次の中から選びなさい。

(ア) 聖武 (イ) 仁徳 (ウ) 推古 (エ) 天智

問4 下線部②について、この文化の説明として、正しいものを次の中から1つ選びなさい。

- (ア) 茶を飲む習慣が広まり、茶の湯の作法が定まっていた。
(イ) 朝鮮半島から焼き物の技術が伝わり、有田焼が生まれた。
(ウ) かな文字がつくられ、紫式部の「源氏物語」が書かれた。
(エ) 朝廷に保護された観阿弥・世阿弥父子が能を完成させた。

問5 空らん(2)に適する語句を、次の中から選びなさい。

(ア) 壇ノ浦 (イ) 桶狭間 (ウ) 関ヶ原 (エ) 長篠

問6 下線部③について、I・IIの正誤の組み合わせとして、適するものを次の中から1つ
選びなさい。

I 将軍家がとだえた後、北条氏が執権として政治を行った。

II 2回にわたってモンゴル人が襲来する応仁の乱がおこった。

(ア) I = 正 II = 正 (イ) I = 正 II = 誤

(ウ) I = 誤 II = 正 (エ) I = 誤 II = 誤

問7 下線部④について、この時の中国の王朝を、次の中から選びなさい。

(ア) 魏 (イ) 隋 (ウ) 唐 (エ) 元 (オ) 明

問8 空らん(3)に適する語句を答えなさい。

問9 空らん(4)に適する語句を、次の中から選びなさい。

(ア) 桃山城 (イ) 大阪城 (ウ) 姫路城 (エ) 安土城

社会

<解答用紙>

令和3年度 オープン模試
函館白百合学園中学校

1 問1 A (ウ) B (ア) C (エ) D (イ)

問2 ア アフリカ大陸 イ ユーラシア大陸 ウ 太平洋 11点

問3 番号 ② 島名 沖ノ鳥島 問4 (1) 北方領土 (2) ロシア連邦

1点

2 問1 (1) A (ウ) B (エ) C (イ) D (ア) (2) (う)

問2 1 四季(季節) 2 つゆ 3 台風 9点

問1(2)は2点 他は1点

3 問1 1 イタイタイ病 2 四日市ぜんそく

問2 A (ウ) B (ア) C (イ) 5点

1点

4 問1 ア 問2 ウ 問3 前方後円墳

問4 仏教 問5 イ 問6 平城京 9点

問3、問4、問6は2点 他は1点

5 問1 A 中大兄皇子 B 藤原道長 C 源頼朝

D 足利義満 E 徳川家康

問2 大化の改新 問3 エ 問4 ウ 問5 ア

問6 ウ 問7 オ 問8 金閣 問9 イ 16点

問2、問4、問8は2点 他は1点

受験番号		氏名	
------	--	----	--

/50点

令和3年度

函館白百合学園中学校

オープン模試

社 会 解答・解説

令和3年10月3日(日)実施

1 世界の国の特徴、世界の大陸名、日本のはん囲についての出題です。

問1 (ア)は【略地図1】中のB、オーストラリアです。オーストラリアは鉱産資源が豊富で、特に鉄鉱石は生産量世界第一位です(2019年)。また、日本と貿易での関係が深く、日本は、鉄鉱石、石炭、肉類などを特に多く輸入しています。

(イ)は【略地図1】中のD、ブラジルです。ブラジルは長い間、コーヒー豆の生産量が世界第1位です。それは、特に気候や土が、コーヒー栽培に適しているからです。また、アマゾン川は、世界で2番目に長い河川で、川幅が広く、流域面積は世界一です。川の流れがゆるやかで、海を航行する大きな船でも川をさかのぼることができ、外国からの船も数多くやってきます。

(ウ)は、【略地図1】中のA、中華人民共和国です。世界一の人口で14億人(2018年)の人がくらしています。また、1990年代から急速な経済成長が始まり、この国で製造された衣類や日用品・家電製品などは、世界で広く使われるようになり、「世界の工場」とよばれるまでになりました。

(エ)は、【略地図1】中のC、アメリカ合衆国です。アメリカ合衆国は20世紀後半から、航空機や人工衛星などを生産する航空宇宙産業やコンピュータ関連産業、IC(集積回路)などを生産するエレクトロニクス産業、バイオテクノロジーなど、高い収益をもたらす先端技術産業に力を注ぐようになり、現在はパソコンやスマートフォンなどで使うソフトウェアの開発やバイオテクノロジーなどで、世界をリードしています。

問2 地球は「水の惑星」とよばれるように海の部分が多く、海洋と陸地の面積の割合はおよそ7対3となります。陸地は六つの大陸と数多くの島々からなり、【略地図2】中のアは、アフリカ大陸、イは、ユーラシア大陸となります。また、ユーラシア大陸は世界最大の陸地です。【略地図2】中のウは、太平洋で、世界最大の面積をもつ海洋です。

問3 日本の国土は、北海道と本州、四国、九州の四つの大きな島と数千の小さな島々が、ユーラシア大陸の東に約3000kmにわたって弓のような形で細長くつらなっています。日本のはしの島は、西のはしが与那国島(【略地図3】中の①)。南のはしが沖ノ鳥島(【略地図3】中の②)。東のはしが南鳥島(【略地図3】中の③)。北のはしが択捉島(【略地図3】中の④)です。このうち、沖ノ鳥島は、満潮時に、北小島と東小島が海面上に出るだけで、もしこれらの島が波の侵食などにより水没すると領土と認められなくなり、日本は国土面積よりも広い、排他的経済水域を失うこととなります。そのため、島の周りをコンクリートブロックでかこみ保護しています。

問4 (1)北海道の北東に続く、【略地図3】中のXの島々(歯舞群島・色丹島・国後島・択捉島)は北方領土とよばれ、北海道根室市などに属する日本固有の領土です。

(2)北方領土は、1945年、日本との条約を無視して侵攻してきたソビエト連邦に占領され、現在もロシア連邦が不法に占拠した状態となっています。日本は、北方領土の返還に向けて、ロシアと平和条約を結ぶため、交渉を続けています。

2 日本の気候についての出題です。

問1 (1) 日本は、南北に細長いので、北と南では、気候がことなります。日本の気候は、北海道の気候、日本海側の気候、太平洋側の気候、中央高地の気候、瀬戸内海の気候、南西諸島の気候の6つにわけられます。

(ア)は【略地図】中Dで、南西諸島の気候の特色です。(イ)は【略地図】中Cで、太平洋側の気候の特色です。(ウ)は【略地図】中Aで、北海道の気候の特色です。(エ)は【略地図】中Bで、日本海側の気候の特色です。

(2)【略地図】中Xは、瀬戸内海の気候で、気温と降水量のグラフは(う)です。この気候は太平洋側の気候と似ていますが、一年間の降水量が少ないのが特徴です。その他の気温と降水量のグラフは、(あ)が太平洋側の気候。(い)が中央高地の気候です。

問2 日本各地の気候には、気温だけでなく、雨や雪のふる量を表す降水量にもちがいがあります。また、同じ地域でも月ごとに気温や降水量のちがいがあり、春夏秋冬という四季の変化が見られます。

6月から7月にかけては、大部分の地域でつゆがあり、夏から秋にかけては、南から暴風雨をとまなう台風が日本列島にやってきて、各地に被害をもたらすこともあります。

3 日本で起きた四大公害病についての出題です。

問1 日本の工業がさかんになっていく一方で、各地に公害が起き、多くの人が病気に苦しみました。特に、水俣病、新潟水俣病、(1)のイタイタイ病、(2)の四日市ぜんそくを四大公害といい、裁判所は、原因になった会社の責任をみとめ、ばいしょう金のしはらいを命じました。

問2 水俣病・新潟水俣病の原因(A)は、化学工場から出された有機水銀です。手足のしびれや目や耳が不自由になるなどの症状がみられました。イタイタイ病の原因(B)は、鉱山から出されたカドミウムです。骨がもろくなり、いたいいたいと言って苦しむので、この病名がつけられたと言われています。四日市ぜんそくの原因(C)は、石油化学工場から出されたけむりです。息苦しくなり、のどのいたみ、はげしいぜんそくの発作の症状がおこりました。

4 弥生時代から奈良時代まで、年表を使った問題です。

問1 卑弥呼が使いを送った中国の王朝は(ア)の魏です。邪馬台国については、中国の歴史の本「魏志」倭人伝に記されています。中国を支配した王朝は、多くが漢字1文字なので混同しやすいです。日本史との関連をおさえながら、きちんと区別できるようにしてください。

問2 弥生時代の説明として、I・IIの文の正誤を問う問題です。Iについて、函館市の大船遺跡は縄文時代の遺跡なので、誤った文です。IIについて、稲作(米づくり)と金属器(青銅器・鉄器)の伝来は弥生時代の特色なので、正しい文です。

問3 4～5世紀に造られた豪族の墓を古墳といいます。大阪府堺市にある大仙古墳は、日本で最大の前方後円墳です。このような巨大な前方後円墳は、近畿地方に多く見られます。

問4 6世紀に渡来人を通じて伝わり、日本の文化に大きな影響を与えた宗教は仏教です。飛鳥時代には法隆寺が、奈良時代には東大寺や唐招提寺が建てられました。平安時代・鎌倉時代には新しい仏教が生まれました。

問5 飛鳥時代の聖徳太子の政治改革について、正誤を問う問題です。正解は、聖徳太子が有能な人材の登用をはかるために定めた(イ)です。

(ア)・(ウ)・(エ)は、いずれも聖徳太子の時代の事ではなく、誤った文です。(ア)は、鎌倉時代の将軍と御家人の主従関係(封建制度)の説明です。(ウ)は、平安時代末期の平清盛による平氏政権の説明です。(エ)の「古事記」と「日本書紀」は、奈良時代につくられた歴史書です。

問6 8世紀に奈良につくられた都は平城京です。平城京への遷都(都を移すこと)が行われた710年から奈良時代が始まりました。一方、平安京は京都につくられた都で、794年に遷都が行われました。

5 飛鳥時代から江戸時代までの歴史上の人物についての問題です。

問1

A 645年、中臣鎌足(藤原鎌足)と結んで蘇我氏をたおし、天皇を中心とする政治改革を進めた人物は、中大兄皇子です。

B 11世紀にむすめを天皇のきさきにして天皇家と親せきとなり、摂政として政治を行った人物は、藤原道長です。

C 1185年に平氏をほろぼし、1192年、征夷大將軍に任命されて鎌倉幕府を開いた人物は、源頼朝です。

D 室町幕府の3代将軍で、中国と貿易を始め、京都の北山に別荘を建てた人物は、足利義満です。この別荘は、現在は寺院となっています。

E 江戸に幕府を開いた人物は、徳川家康です。彼は、1600年、関ヶ原の戦いで豊臣方を破り、1603年、征夷大将軍に任命されました。

問2 この政治改革を大化の改新といいます。大化は日本で最初の元号といわれています。

問3 正解は(エ)です。中大兄皇子は、後に即位して天智天皇となりました。

(ア)は、奈良時代に国分寺と東大寺の建立を命じ、大仏を造った天皇です。(イ)は、その墓が大仙古墳とされている天皇です。(ウ)は、聖徳太子が活躍した時代の日本最初の女性の天皇です。

問4 平安時代の国風文化について、正誤を問う問題です。正解は(ウ)です。平安時代には、遣唐使の中止後、中国文化の影響がうすれ、日本独自の文化が生まれました。これを国風文化と呼びます。清少納言の「枕草子」もかな文学による代表的な作品です。

(ア)・(イ)・(エ)は、いずれも平安時代ではなく、誤った文です。(ア)の茶の湯が広まるのは室町時代で、安土・桃山時代に千利休がこれを完成しました。(イ)の焼き物の技術は、豊臣秀吉の朝鮮侵略をきっかけに日本に伝わり、江戸時代に有田焼などの生産が始まりました。(エ)の観阿弥・世阿弥が能を完成したのは室町時代です。

問5 正解は(ア)です。源頼朝の弟義経が(ア)で平氏を破り、平氏は滅びました。(イ)は、1560年、織田信長が今川義元を破った戦い、(ウ)は、1600年、徳川家康が豊臣方の大名たちを破った戦い、(エ)は、1575年、織田信長が鉄砲を用いて武田氏を破った戦いです。

問6 鎌倉時代の説明として、I・IIの文の正誤を問う問題です。Iは正しい文です。北条氏は、源頼朝の妻北条政子の一族で、将軍を補佐する執権という役職につきました。IIは誤った文です。モンゴル人の襲来は鎌倉時代ですが、応仁の乱は、室町時代に将軍の後つぎをめぐっておこった戦乱です。

問7 足利義満が貿易を始めた中国の王朝は(エ)の明です。遣唐使の中止以来とだえていた日本と中国の国交が復活しました。

問8 足利義満が北山に造った別荘は金閣です。建物に金箔がはられていたので、この名前があります。一方、8代将軍の足利義政は、京都東山に銀閣を建てました。銀閣は、和風建築のもとになった書院造で有名です。

問9 豊臣秀吉が建て、その死後も豊臣氏が拠点としていた城は(イ)の大阪城です。(ア)は豊臣秀吉が京都に築いた伏見城の別名です。(ウ)は、江戸時代初期に播磨(今の兵庫県)に築かれたももやま文化を代表する城です。(エ)は、織田信長が近江(今の滋賀県)に築いた城で、信長の天下統一の拠点となりました。