

令和3年度

函館白百合学園中学校

一般入学試験問題(前期日程)

社 会

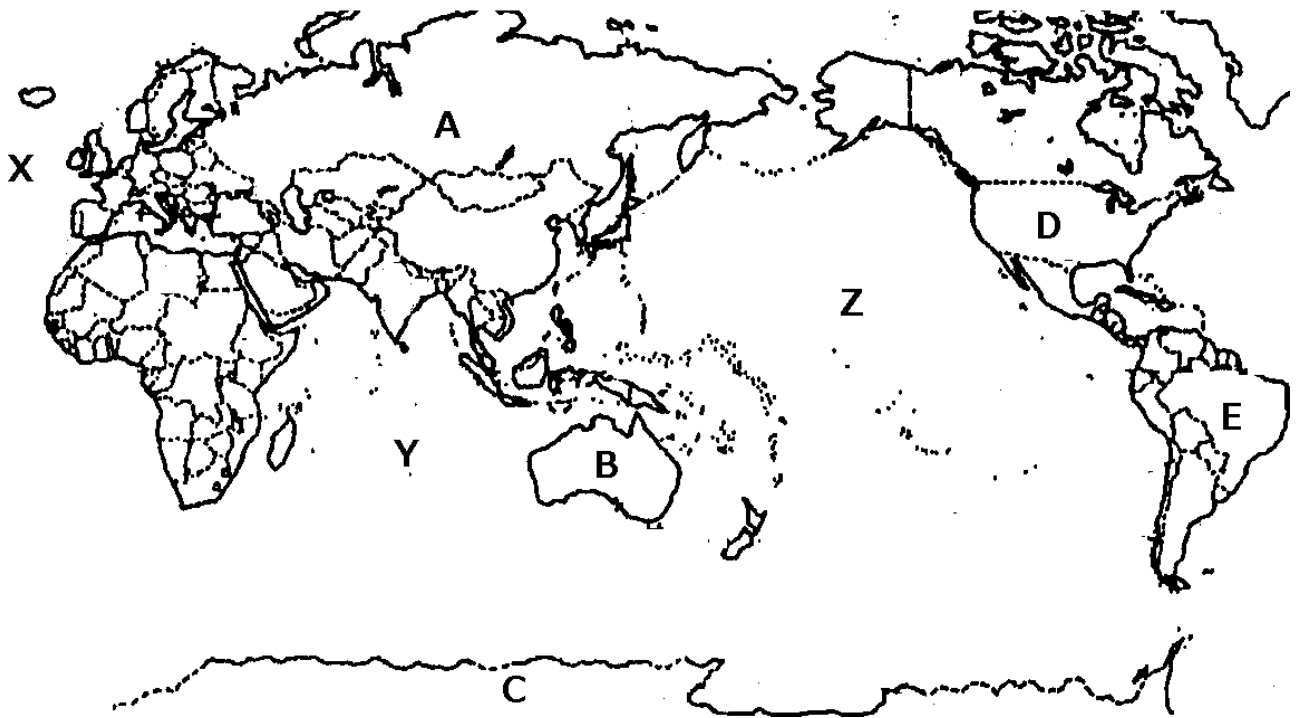
令和2年12月6日(日)実施

注意事項

1. 試験時間は30分です。
2. 問題は①から⑤まであり、8ページまであります。
3. 答えはすべて別紙の解答用紙に記入し、解答用紙だけ提出しなさい。

1

次の略地図を見て、あとの問いに答えなさい。



問1 地図中A国にある山脈を、次の中から1つ選びなさい。

- (ア) アンデス山脈 (イ) ヒマラヤ山脈 (ウ) アルプス山脈 (エ) ウラル山脈

問2 地図中B国が属する州名を答えなさい。

問3 地図中Cの大陸名を答えなさい。

問4 地図中D国について説明した文として、あやまっているものを、次の中から1つ選びなさい。

- (ア) ウォール街は、株式の取引場や銀行などが集まり、世界の経済の中心地である。
(イ) 人気スポーツに、野球やバスケットボールがあり、日本人選手も活躍している。
(ウ) 税金や貿易などで優遇されている経済特区があり、外国の企業が進出している。
(エ) さまざまな人種の人たちが住んでおり、人種のサラダボールといわれる。

問5 地図中E国で、生産量世界第1位の農産物(2018年統計)を、次の中から1つ選びなさい。

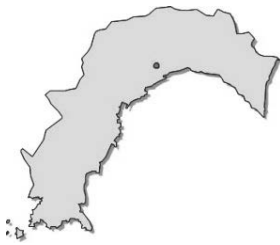
- (ア) さとうきび (イ) とうもろこし (ウ) カカオ (エ) 大豆

問 6 地図中 X～Z の海洋名の組み合わせで正しいものを、次の中から 1 つ選びなさい。

- | | | | |
|-----|----------|----------|----------|
| (ア) | X = 太平洋 | Y = インド洋 | Z = 大西洋 |
| (イ) | X = 太平洋 | Y = 大西洋 | Z = インド洋 |
| (ウ) | X = インド洋 | Y = 太平洋 | Z = 大西洋 |
| (エ) | X = インド洋 | Y = 大西洋 | Z = 太平洋 |
| (オ) | X = 大西洋 | Y = 太平洋 | Z = インド洋 |
| (カ) | X = 大西洋 | Y = インド洋 | Z = 太平洋 |

2

次の図は、日本の4つの都道府県のかたちを表しています。これを見て、あとの問いに答えなさい。(地図の縮尺と方位はすべて同じではありません)



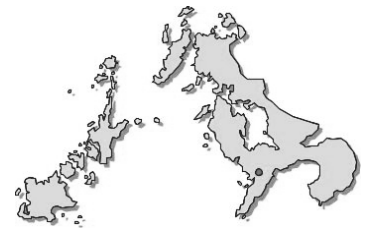
①



②



③



④

問1 次の各文は、①～④の図のどの都道府県のものでしょうか、その記号と都道府県名をそれぞれ答えなさい。(都道府県名は漢字で答えること)

- (ア) 夏の降水量が多く、山間部は日本有数の多雨地域である。農業は、冬でもあたたかい気候をいかし、施設を使ったなすの()が有名である。
- (イ) 本州最北端に位置し、岩木山麓ではりんごのさいばいがさかんである。縄文時代の遺跡であり、夏はねぶた祭りである。
- (ウ) リアス海岸が多く、島原半島では()のさいばいがさかんである。県庁所在地にある稲佐山は、日本三大夜景の一つとして有名である。
- (エ) 日本海側の気候で、越前地方には豪雪地帯が多い。工業製品では日本の生産量のほとんどをしめる()が有名である。

問2 ①～④の都道府県を南から順番に並べかえなさい。(番号で答えること)

問3 (ア)の文の()に適するさいばい方法は何ですか、答えなさい。

問4 (イ)の文の()に適する遺跡は何ですか、次の中から1つ選びなさい。

- (あ) 吉野ケ里遺跡 (い) 三内丸山遺跡 (う) 岩宿遺跡 (え) 登呂遺跡

問5 (ウ)の文の()に適する農作物は何ですか、次の中から1つ選びなさい。

- (あ) ジャガイモ (い) きゃべつ (う) たまねぎ (え) ほうれんそう

問6 (エ)の文の()に適する工業製品は何ですか、次の中から1つ選びなさい。

- (あ) アルミ製サッシ (い) 合わせガラス
(う) めがねフレーム (え) 石油ストーブ

3

日本の運輸と貿易について、あとの問いに答えなさい。

問1 次の(ア)～(エ)の文は、輸送手段しゅだんの特ちょうについてのべた文です。それぞれの文に適する輸送手段しゅだんを下から選び、それぞれ答えなさい。

- (ア) 重い物や大型の物を運ぶことができるが、時間がかかる。
- (イ) 一度に大量の物や人を運ぶことができ、時間も正確である。
- (ウ) 戸口から戸口へ、つみかえをせずに運ぶことができる。
- (エ) 遠い場所へも速く運ぶことができる。

輸送手段しゅだん

航空機、自動車、鉄道、船

問2 下の資料のA国に適する国名を、次の中から1つ選びなさい。

- (あ) オーストラリア (い) サウジアラビア (う) イラン (え) インド

日本が石油を輸入している国（輸入額のうちわけ）

国名	(%)
A国	33%
アラブ首長国連邦 <small>れんぽう</small>	25%
ロシア	9%
カタール	8%
クウェート	8%
そのほか	17%

(2015年 日本国勢図絵)

4

次の年表を見て、問いに答えなさい。

年代	おもなできごと
645年	中大兄皇子と中臣鎌足が蘇我氏をたおす・・・①
752年	東大寺の大仏の開眼式が行われる・・・②
794年	平安京に都が定められる・・・③
894年	遣唐使が停止される・・・④
1549年	キリスト教が日本に伝わる・・・⑤
1635年	日本人の海外への渡航と海外からの帰国が禁止される・・・⑥
↑ A ↓	
1853年	ペリーが(⑦)沖に来る

問1 ①について、中大兄皇子と中臣鎌足が行ったこととして、正しいものを次の中から1つ選びなさい。

- (ア) 中国の魏に小野妹子などを派遣した。
 (イ) 冠位十二階を定めて役人を登用した。
 (ウ) 仏教を重視し、全国に国分寺をおいた。
 (エ) 大化の改新と呼ばれる改革を進めた。

問2 ②について、東大寺の大仏を造ることを命じた天皇を次の中から選びなさい。

- (ア) 天智天皇 (イ) 聖武天皇 (ウ) 推古天皇 (エ) 桓武天皇

問3 ③について、この時代の文学作品として、正しいものを次の中から2つ選びなさい。

- (ア) 万葉集 (イ) 解体新書 (ウ) 枕草子 (エ) 古事記
 (オ) 源氏物語

問4 ④について、遣唐使を停止するよう意見した人物を次の中から選びなさい。

- (ア) 菅原道真 (イ) 行基 (ウ) 藤原道長 (エ) 鑑真

問5 ⑤について、日本にキリスト教を伝えたスペイン人の名前を答えなさい。

問6 ⑥について、I・IIの正誤の組み合わせとして、適するものを次の中から1つ選びなさい。

I 貿易相手国をポルトガルと中国に限り、貿易港を長崎だけとした。

II 松前藩が朝鮮貿易を独占し、朝鮮通信使が定期的に来日した。

(ア) I = 正 II = 正 (イ) I = 正 II = 誤

(ウ) I = 誤 II = 正 (エ) I = 誤 II = 誤

問7 Aの時期のできごととして、あやまっているものを次の中から1つ選びなさい。

(ア) 寺子屋や藩校が多くつくられた。

(イ) 各地で一向一揆がおこった。

(ウ) 蘭学や国学などがおこった。

(エ) 各地で新田開発が行われた。

問8 (⑦)に適する地名を次の中から選びなさい。

(ア) 函館 (イ) 下田 (ウ) 浦賀 (エ) 下関

5 次のA～Dの文章を読み、あとの問いに答えなさい。

A この人物が①鎌倉幕府の執権をつとめているときに、モンゴル人が支配する中国の(1)が襲来した。彼は御家人たちを九州に集めてこれと戦い、退けることに成功した。

B この人物は、②室町幕府の8代将軍であった。1467年、彼のあとつぎ問題などをめぐって、京都で(2)の乱がおこり、戦いは全国に広がって戦国時代が始まった。

C この人物は、主君の織田信長を(3)でたおした明智光秀に勝利し、信長の政治を引きついだ。彼は大阪城を本拠地とし、③日本全国の統一をなしとげた。

D この人物は、江戸幕府の15代将軍であった。彼は、薩摩藩や(4)藩などの倒幕運動が高まる中、④1867年、政権を天皇に返還し、江戸幕府はほろんだ。

問1 A～Dの文章の「この人物」とはだれですか、それぞれ記号で答えなさい。

(ア) 徳川慶喜 (イ) 徳川家康 (ウ) 北条時宗 (エ) 北条義時

(オ) 豊臣秀頼 (カ) 豊臣秀吉 (キ) 足利義満 (ク) 足利義政

問2 文中の空らん(1)～(4)に適する語句を答えなさい。

問3 下線部①について、この幕府を開いた人物の説明として、正しいものを次の中から1つ選びなさい。

- (ア) 全国各地に守護と地頭をおいた。
- (イ) 桶狭間の戦いで平氏をほろぼした。
- (ウ) 朝廷から太政大臣に任命された。
- (エ) 武家諸法度を定め、武士を支配した。

問4 下線部②について、この幕府の時代の文化の説明として、正しいものを次の中から1つ選びなさい。

- (ア) 武士や貴族の住居として、寝殿造と呼ばれる様式が生まれた。
- (イ) 木版の技術が発達し、色あざやかな浮世絵が大量につくられた。
- (ウ) 石や砂で風景を表す枯山水と呼ばれる様式の庭園がつくられた。
- (エ) 唐招提寺が建てられ、日本の仏教の発展に大きな役割を果たした。

問5 下線部③について、I・IIの正誤の組み合わせとして、適するものを次の中から1つ選びなさい。

- I 彼は、刀狩令を出して、農民から刀や鉄砲などの武器を取り上げた。
 - II 彼は、中国の清を征服しようと考え、2度にわたって朝鮮に出兵した。
- (ア) I = 正 II = 正 (イ) I = 正 II = 誤
(ウ) I = 誤 II = 正 (エ) I = 誤 II = 誤

問6 下線部④について、これを何というか答えなさい。

社会

<解答用紙>

令和3年度 函館白百合学園中学校
一般入学試験(前期日程)

1 問1 問2 問3
問4 問5 問6 点

2 問1 ①

記号	<input type="text"/>	都道府県名	<input type="text"/>
----	----------------------	-------	----------------------

 ②

記号	<input type="text"/>	都道府県名	<input type="text"/>
----	----------------------	-------	----------------------

③

記号	<input type="text"/>	都道府県名	<input type="text"/>
----	----------------------	-------	----------------------

 ④

記号	<input type="text"/>	都道府県名	<input type="text"/>
----	----------------------	-------	----------------------

問2 → → → 問3 問4
問5 問6 点

3 問1 (ア) (イ) (ウ) (エ)
問2 点

4 問1 問2 問3 ・
問4 問5 問6
問7 問8 点

5 問1 A B C D
問2 (1) (2) (3)
(4) 問3 問4
問5 問6 点

受験番号	<input type="text"/>	氏名	<input type="text"/>
------	----------------------	----	----------------------

<input type="text"/> / 50点

社会

<解答用紙>

令和3年度 函館白百合学園中学校
一般入学試験(前期日程)

1 問1 (エ) 1点 問2 オセアニア州 1点 問3 南極大陸 1点
問4 (ウ) 1点 問5 (ア) 1点 問6 (カ) 1点 6 点

2 問1 ① 記号 (ア) 都道府県名 高知県 ② 記号 (エ) 都道府県名 福井県
③ 記号 (イ) 都道府県名 青森県 ④ 記号 (ウ) 都道府県名 長崎県
問2 ④ → ① → ② → ③ 1点 問3 促成栽培 2点 問4 (い) 1点
問5 (あ) 1点 問6 (う) 1点 14 点
問1は、記号1点 都道府県名1点
都道府県名は漢字指定

3 問1 (ア) 船 (イ) 鉄道 (ウ) 自動車 (エ) 航空機 各1点
問2 (い) 1点 5 点

4 問1 エ 1点 問2 イ 1点 問3 ウ ・ オ 完全解答で1点
問4 ア 1点 問5 (フランシスコ=)ザビエル 2点 問6 エ 1点 9 点
問7 イ 1点 問8 ウ 1点

5 問1 A ウ B ク C カ D ア 各1点
問2 (1) 元 (2) 応仁 (3) 本能寺
(4) 長州 各2点 問3 ア 1点 問4 ウ 1点
問5 イ 1点 問6 大政奉還 1点 16 点
*漢字指定なし

受験番号		氏名	
------	--	----	--

/50点
