

令和 3 年度

函館白百合学園中学校

一般入学試験問題(後期日程)

社 会

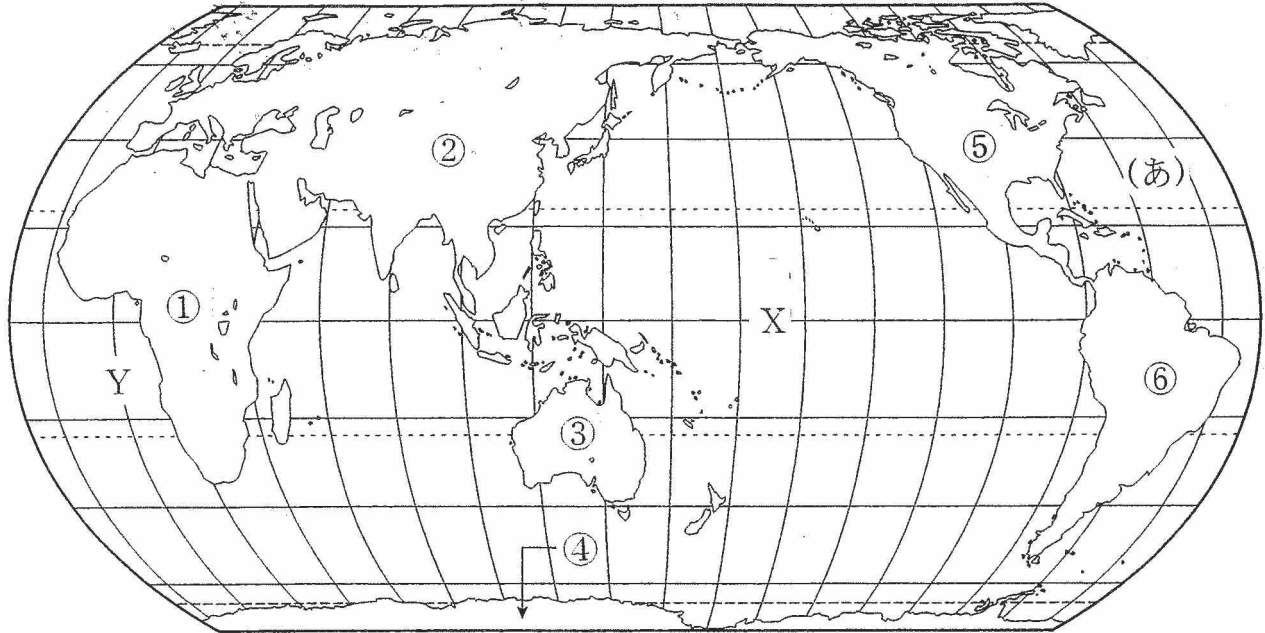
令和 3 年 2 月 7 日(日)実施

注意事項

1. 試験時間は 30 分です。
2. 問題は□1から□5まであり、9 ページまであります。
3. 答えはすべて別紙の解答用紙に記入し、解答用紙だけ提出しなさい。

1

次の地図を見て、下の問いに答えなさい。



問1 地図中(あ)の大洋名を、漢字で答えなさい。

問2 地図中X・Yの線について、(1)・(2)の設問に答えなさい。

(1) Xの線は赤道を表しています。赤道が通らない国を、次の中から1つ選びなさい。

ア ケニア イ ブラジル ウ インドネシア エ エジプト

(2) Yの線は、北極からイギリスのロンドンを通り、南極まで結んだ線を0度として、そこから東西に180度まで分けたものです。この線の名称を漢字2字で答えなさい。

問3 地図中①～⑥の大陸について、(1)～(7)の設問に答えなさい。

(1) ①～⑥の大陸のうち、平均高度が最も高い大陸を1つ選び、番号で答えなさい。

(2) ①の大陸を南北に流れる、世界最長の河川を、次の中から1つ選びなさい。

ア ライン川 イ ナイル川 ウ ミシシッピ川 エ アマゾン川

(3) ②の大陸で最も大きい面積割合をしめている気候を、次の中から1つ選びなさい。

ア 熱帯 イ 乾燥帯 ウ 温帯 エ 冷帯(亜寒帯) オ 寒帯

(4) ③の大陸にある国の説明として、あやまっているものを、次の中から1つ選びなさい。

ア 日本の季節が冬となっている時、この国の季節は夏である。

イ 国旗の一部に、アメリカ合衆国の国旗がえがかれている。

ウ 鉱産資源に恵まれ、海外に鉄鉱石や石炭などを輸出している。

エ コアラなど、この国にしか生息していない動物が多数存在する。

(5) ④の大陸にある、日本の観測基地の名称を答えなさい。

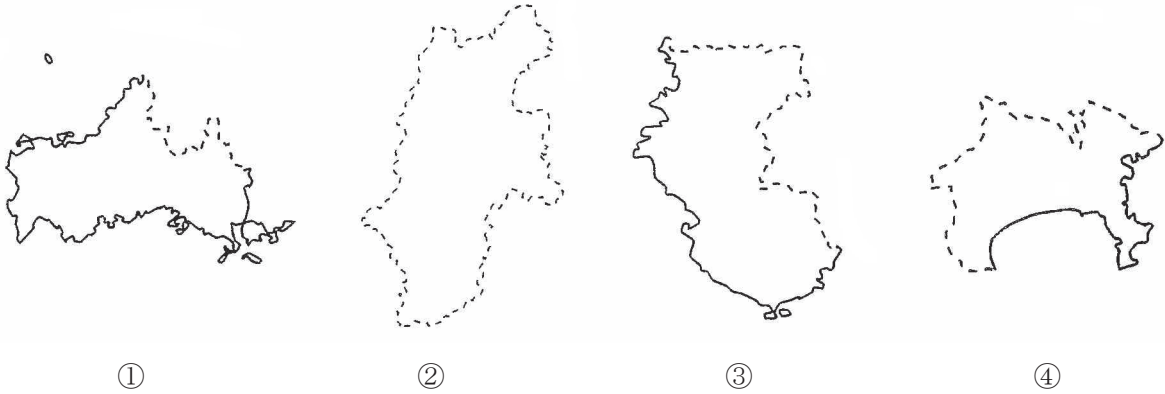
(6) ⑤の大陸にあるアメリカ合衆国では、昨年(2020年)11月、国の最高権力者を決める選挙が行われました。この最高権力者の役職とは何か答えなさい。

(7) ⑥の大陸で最も多くの人が信仰している宗教を、次の中から1つ選びなさい。

ア イスラム教 イ 仏教 ウ キリスト教 エ ヒンドゥー教

2

次の図は日本の4つの都道府県のかたちを表しています。これを見て、下の問いに答えなさい。(地図の縮尺と方位はすべて同じとはかぎりません)



問1 次の各文は、①～④の図のどの都道府県のものでしょうか。その記号と都道府県名をそれぞれ答えなさい。

(ア) 首都圏を構成している県のひとつであり、人口規模が日本有数である。県内には政令指定都市が3つあり、県庁所在地は明治以降、港町としてさかえている。

(イ) 本州の最も西に位置している県であり、瀬戸内海の沿岸域では、石油化学工業やセメント工業が発達している。となりの県とは、関門トンネルで結ばれている。

(ウ) 本州最南端の岬があり、年間降水量が非常に多い。県の面積のうち約4分の3が森林で、古くから林業が発達しているほか、果樹栽培がたいへんさかんである。

(エ) 日本で最も長い河川の上流に位置している県で、最も多くの県と接している。県内で行われている農業は、気候をいかして野菜や果樹栽培が中心である。

問2 ①～④の都道府県を、北から順番に並べ替えなさい。

問3 (ア)の説明文に関して、この県が含まれる工業地帯を、次の中から1つ選びなさい。

- (あ) 中京工業地帯 (い) 京浜工業地帯 (う) 阪神工業地帯
(え) 北九州工業地帯

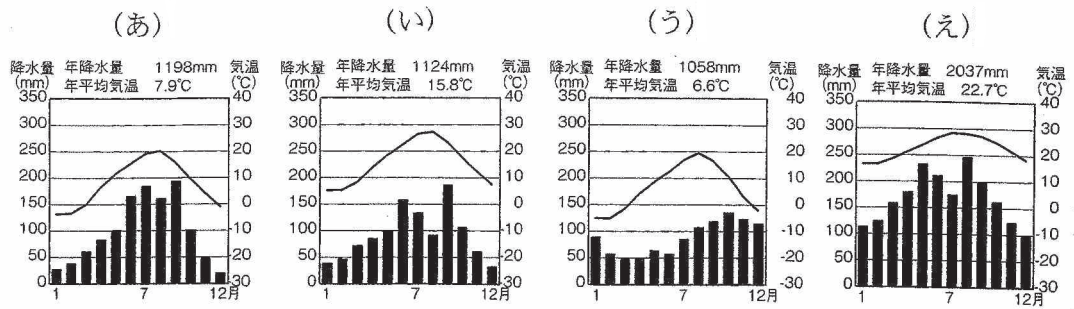
問4 (イ)の説明文に関して、この県の前身は江戸幕府を倒した藩の1つです。藩の名称を、次の中から1つ選びなさい。

- (あ) 土佐藩 (い) 会津藩 (う) 薩摩藩 (え) 長州藩

問5 (ウ)の説明文に関して、この県の生産量(2017年)が全国一の果樹作物を、次の中から1つ選びなさい。

- (あ) りんご (い) みかん (う) ぶどう (え) さくらんぼ

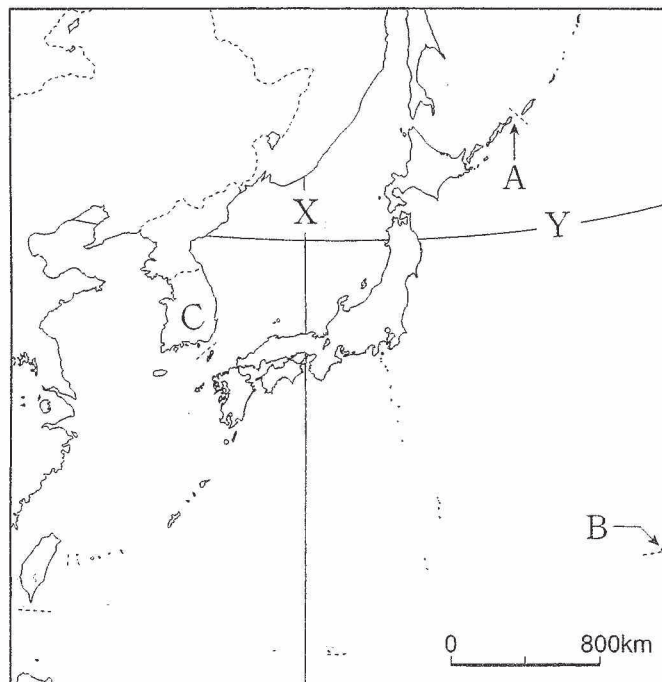
問6 (エ)の説明文に関して、この県内の都市の気温と降水量を示すグラフを、次の中から1つ選びなさい。



(理科年表 2014)

3

次の地図を見て、下の問いに答えなさい。



問1 地図中のAの島々は、日本の固有の領土です。この島々の名称を漢字で答えなさい。

問2 地図中のBの島は、日本の東のはしにあります。この島の名称を、次の中から1つ選びなさい。

ア 南鳥島 イ 択捉島 ウ 沖ノ鳥島 エ 与那国島

問3 地図中のCの国の説明文として、あやまっているものを、次の中から1つ選びなさい。

ア 第二次世界大戦終結後、国境を接すると隣の国と分かれて独立した。

イ 床下に煙や温水を通して部屋を暖める、伝統的な暖房のしくみがある。

ウ 1970年代以降、急速な経済成長をとげ、アジアNIEsの1つとなっている。

エ 日本との関係は良好で、2019年にラグビーのワールドカップを共同開催した。

問4 地図中Xの線は、日本の標準時刻の基準となっています。この線が通る都市名を、漢字で答えなさい。

問5 地図中Yの線は、北緯40度の緯線をあらわしています。この線は、日本の何という県を通りますか、次の中からすべて選びなさい。

ア 福島県 イ 青森県 ウ 秋田県 エ 宮城県 オ 岩手県
カ 山形県

4

次のA～Dの文章を読み、あとの問いに答えなさい。

- A この人物は、蘇我氏とともに、天皇中心の国づくりを目ざした。彼は、冠位十二階や十七条の憲法を定めるなど政治改革を進める一方、①中国に遣隋使を送り、中国の制度や文化を取り入れた。彼の時代には、(1) が建てられるなど仏教文化が栄えた。
- B この人物は、②平安時代末期の朝廷や貴族の勢力争いに関わって力をのぼした。その後、武士で初めて太政大臣になり、むすめを天皇のきさきにした。彼の一族も朝廷の重要な役職を独占して栄えたが、源氏によって(2)の戦いでほろぼされた。
- C この人物は、駿河の今川義元を桶狭間の戦いで破り、勢力を広げた。その後、足利氏の将軍を追放して、③室町幕府をほろぼした。近江の(3)に城を築いて、全国統一の拠点としたが、家臣の明智光秀にそむかれ、京都の本能寺で自害した。
- D この人物は、④江戸幕府の3代将軍であった。彼は、武家諸法度を改め、大名が藩と江戸を1年おきに行き来する(4)の制度を定めた。さらに、大名の妻子を人質として江戸に住ませた。また、日本人が海外に行くこと、海外から帰ることを禁じた。

問1 A～Dの文章の「この人物(彼)」とはだれですか、答えなさい。

問2 文中の空らん(1)～(4)に適する語句を答えなさい。なお、(1)には寺院の名前が入ります。

問3 下線部①について、遣隋使として中国に送られた人物の名前を漢字で答えなさい。

問4 下線部②について、I・IIの正誤の組み合わせとして、適するものを次の中から1つ選びなさい。

I この時代に、東大寺の大仏の完成を祝う開眼式が行われた。

II この時代に、藤原道長が天皇に代わって政治を動かした。

ア I = 正 II = 正 イ I = 正 II = 誤

ウ I = 誤 II = 正 エ I = 誤 II = 誤

問5 下線部③について、この幕府の3代将軍の行ったこととして、正しいものを次の中から1つ選びなさい。

- ア 中国から鑑真がんじんをまねいた。
- イ 京都の北山に金閣きんかくを建てた。
- ウ 日本全国で検地けんちを行った。
- エ 北条氏ほうじょうを執権しつけんに任命にんめいした。

問6 下線部④について、この幕府の時代の文化の説明として、あやまっているものを次の中から1つ選びなさい。

- ア 本居宣長もとおりのりながは、日本の古典を研究し、国学こくがくを発展させた。
- イ 伊能忠敬いのうただたかは、全国を測量し、正確な日本地図をつくった。
- ウ 松尾芭蕉まつおばしやうは、自然をよみこんだ俳句はいくを数多くつくった。
- エ 観阿弥かんあみ・世阿弥ぜあみは、幕府の保護ほごを受け、能を完成した。

5

次の年表を見て、問いに答えなさい。

年代	おもなできごと
1858年	日米修好通商条約 <small>しゅうこうつうしょうじょうやく</small> が結ばれる・・・①
1868年	明治政府が成立する・・・②
1889年	大日本帝国憲法 <small>だいにっぽんていこくけんぽう</small> が発布される・・・③
1904年	日露戦争が始まる・・・④
1925年	治安維持法が定められる・・・⑤
1941年	太平洋戦争が始まる・・・⑥
1951年	サンフランシスコ平和条約が結ばれる・・・⑦
1972年	日本と(⑧)との国交が正常化する

問1 ①について、あやまっているものを次の中から1つ選びなさい。

- ア 日本にいる外国人を日本の法律ほうりつで裁さばけない。
- イ 輸入品に自由に税をかける権利が日本にない。
- ウ 下田しもだと函館はこだての2つの港を開き、貿易みとを認める。
- エ ヨーロッパの国々と同様の条約が結ばれた。

問2 ②について、明治政府の指導者のうち、西南戦争と呼ばれる士族の反乱をおこして敗れた人物を、次の中から選びなさい。

ア 西郷隆盛 イ 板垣退助 ウ 木戸孝允 エ 大久保利通

問3 ③について、正しいものを次の中から1つ選びなさい。

ア 佐賀出身の大隈重信を中心につくられた。
イ 皇帝の権限が強いドイツの憲法を参考にした。
ウ 主権は国民にあり、その権利は無制限であった。
エ 帝国議会は、参議院と衆議院の二院制であった。

問4 ④について、I・IIの正誤の組み合わせとして、適するものを次の中から1つ選びなさい。

I 平塚らいてうは、この戦争への疑問を歌にした。
II この戦争後、日本は遼東半島を中国に返した。
ア I = 正 II = 正 イ I = 正 II = 誤
ウ I = 誤 II = 正 エ I = 誤 II = 誤

問5 ⑤について、同じ年、普通選挙制度が定められました。これによって選挙権を認められたのはどういう人々ですか、次の中から選びなさい。

ア 25歳以上の男性と女性 イ 25歳以上の男性
ウ 20歳以上の男性と女性 エ 20歳以上の男性

問6 ⑥について、この戦争は、日本軍がハワイのアメリカ軍基地を攻撃したことから始まりました。この基地があった場所はどこですか、答えなさい。

問7 ⑦について、同じ年、その後もアメリカ軍が日本各地にとどまることを定めた条約が結ばれました。現在、アメリカ軍基地の面積の約4分の3が集中する都道府県名を答えなさい。

問8 (⑧)にあてはまる国名を答えなさい。

社会

<解答用紙>

令和3年度 函館白百合学園中学校

一般入学試験(後期日程)

1 問1 問2 (1) (2) 問3 (1) (2) (3)
問3 (4) (5) (6) (7) 点

2 問1 ① 記号 都道府県名 ② 記号 都道府県名
③ 記号 都道府県名 ④ 記号 都道府県名
問2 → → → 問3 問4 問5
問6 点

3 問1 問2 問3 問4
問5 点

4 問1 A B C
D
問2 (1) (2) (3)
(4)
問3 問4 問5 問6 点

5 問1 問2 問3 問4
問5 問6 問7
問8 点

受験番号	<input type="text"/>	氏名	<input type="text"/>
------	----------------------	----	----------------------

<input type="text"/> / 50点

社 会

<解答用紙>

令和3年度 函館白百合学園中学校
一般入学試験(後期日程)

1 問1 大西洋(漢字) 問2 (1) エ (2) 経線(漢字) 問3 (1) ④ (2) イ (3) エ
問3 (4) イ (5) 昭和基地 (6) 大統領 (7) ウ
問3の(6)以外1点 2点

11 点

2 問1 ① 記号 (イ) 都道府県名 山口県 ② 記号 (エ) 都道府県名 長野県
全1点 (完) ③ 記号 (ウ) 都道府県名 和歌山県 ④ 記号 (ア) 都道府県名 神奈川県
問2 ④ → ② → ① → ③ 問3 (い) 問4 (え) 問5 (い)
問6 (あ)

9 点

3 問1 北方領土 問2 ア 問3 エ 問4 明石市
全1点 問5 ウ、オ

5 点

4 問1 A 聖徳太子 B 平清盛 C 織田信長
D 徳川家光 各2点
問2 (1) 法隆寺 (2) 壇ノ浦 (3) 安土
(4) 参勤交代 各1点
問3 小野妹子(漢字) 2点 問4 ウ 1点 問5 イ 1点 問6 エ 1点

17 点

5 問1 ウ 問2 ア 問3 イ 問4 エ
全1点 問5 イ 問6 真珠湾(パールハーバー) 問7 沖縄県
問8 中国(中華人民共和国)

8 点

受験番号		氏名	
------	--	----	--

／50点