

令和5年度

函館白百合学園高等学校

一般入学試験問題

社 会

特進(LB)

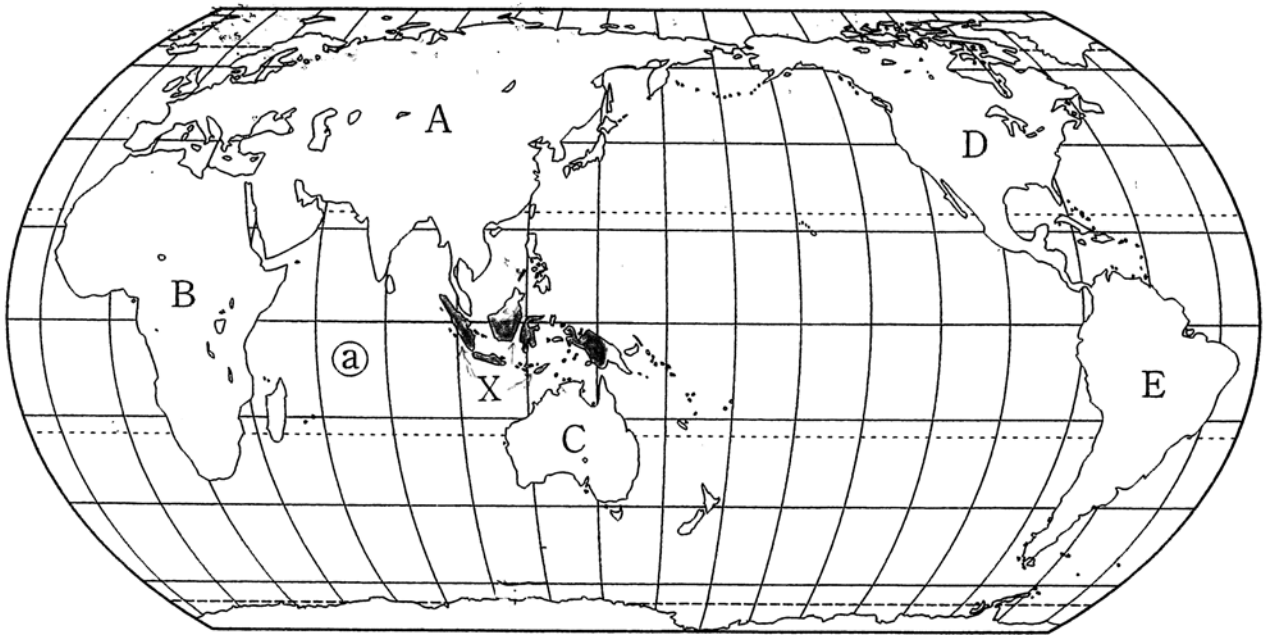
令和5年2月14日(火)実施

注意事項

1. 試験時間は50分です。
2. 問題は1から6まであり、15ページまであります。
3. 答えはすべて別紙の解答用紙に記入し、解答用紙だけ提出しなさい。

1

次の略地図を見て，問いに答えなさい。



問1 略地図のA～Eの大陸に関して，(1)～(4)の設問に答えなさい。

- (1) A～Eの大陸の中で，平均高度が最も低い大陸はどれですか，その記号を答えなさい。
- (2) A～Eの大陸の中で，熱帯の割合が最も大きい大陸はどれですか，その記号を答えなさい。
- (3) A～Eの大陸の中で，2つの州で構成されている大陸はどれですか，その記号を答えなさい。
- (4) 次の説明文は，A～Eの大陸のうち，いずれかの大陸のものであります。あてはまる大陸の記号と，その大陸の名称を答えなさい。

さまざまな自然環境が見られる大陸である。その中でも，西側を南北に走る高く険しい山脈は，たくさんの国立公園が設置されている。大陸の北部には氷河の影響を受けた地形が各地にみられる。気候は，東西で大きく異なり，東側には湿潤地域，西側には乾燥地域が広がる。17世紀以降，他大陸からの移民が植民地を建設し，現在では多くの独立国で構成されている。

- (5) (4)で答えた大陸にある3国が自由貿易圏を形成するために結んだ協定を何といいますか答えなさい。

問2 略地図のⒶの大洋名を答えなさい。

問3 略地図に描かれていない大陸が1つあります。その大陸の名称を答えなさい。

問4 日本が2月14日午後2時のとき、カタールの首都ドーハは何月何日の何時ですか、ア～エから1つ選びなさい。(ただし、ドーハの標準時は、東経45度とします)

- ア 2月14日午前5時 イ 2月14日午前6時
ウ 2月14日午前8時 エ 2月15日午前2時

問5 略地図のX国に関して、(1)～(4)の設問に答えなさい。

(1) X国の大多数の国民が信仰している宗教を、ア～エから選びなさい。

- ア 仏教 イ キリスト教 ウ イスラム教 エ ヒンドゥー教

(2) X国よりも人口が多い国に該当しないものを、ア～エから選びなさい。

- ア インド イ アメリカ合衆国 ウ ブラジル エ 中国

(3) X国についての説明文として誤っているものを、ア～エから1つ選びなさい。

- ア 国土のほとんどが熱帯気候に属しており、年平均気温は18℃を上回る。
イ 日本と同様、地震・火山活動により、しばしば大きな被害にみまわれる。
ウ 10か国が加盟する東南アジア諸国連合(ASEAN)の原加盟国である。
エ 近年、油やしから天然ゴムに、プランテーション作物を転換している。

(4) 次の表は、X国の輸出相手国(金額割合－2019年)を表したものです。空欄(あ)にあてはまる国を、ア～エから選びなさい。

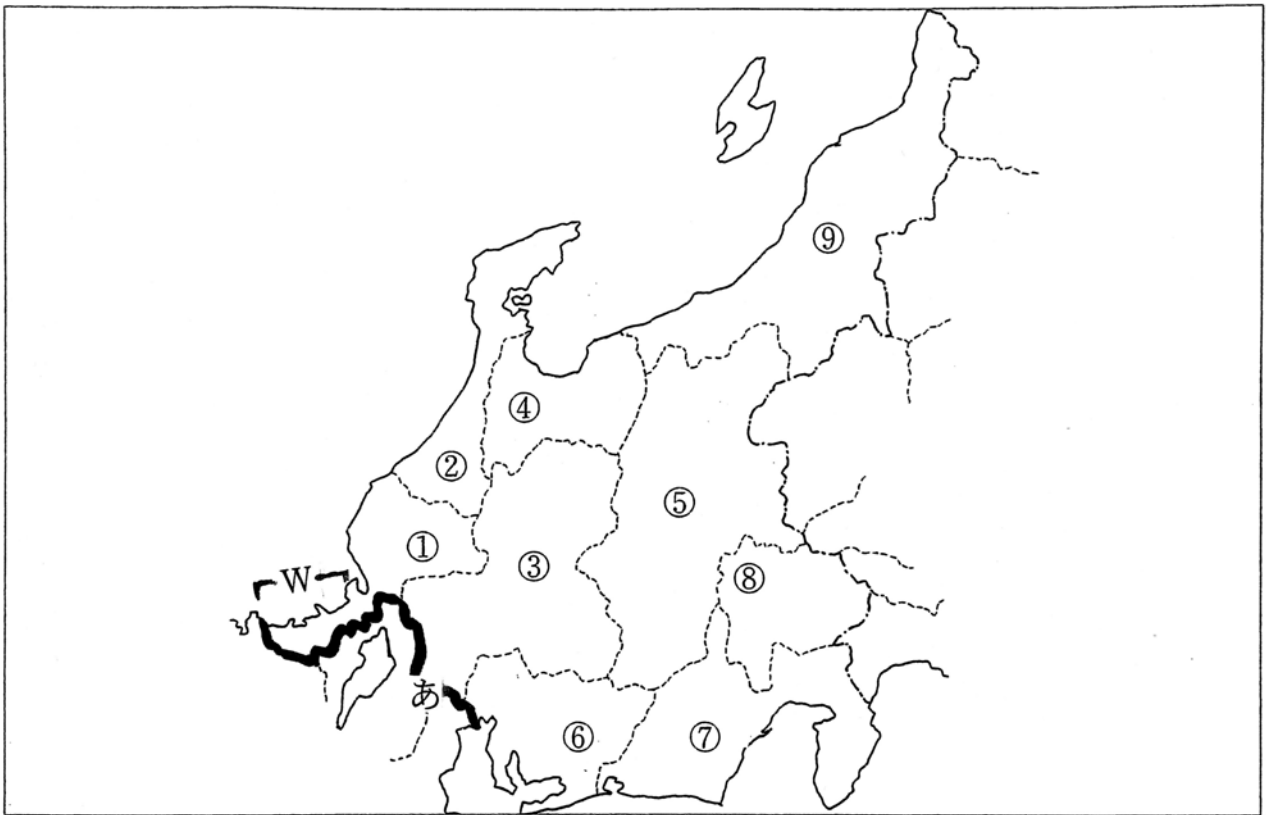
(あ)	16.7%
アメリカ	10.6%
日本	9.5%
シンガポール	7.7%
インド	7.1%

(国連国際貿易統計 2019)

- ア タイ イ マレーシア ウ ベトナム エ 中国

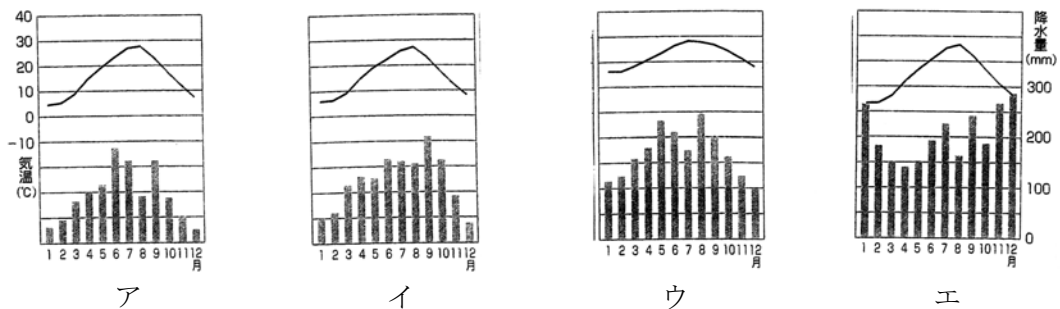
2

次の略地図を見て、問いに答えなさい。



- 問1 略地図中、あ——線で、この地方と接している地方の名称を答えなさい。
- 問2 略地図で描かれた地方は3つの地域に区分されます。このうち「東海地方」と呼ばれる地域に属する県の番号をすべて答えなさい。
- 問3 略地図中Wの海岸の成因として適当なものを、ア～エから1つ選びなさい。
- ア 起伏の大きな山地が海面下に沈んでできる。
 - イ 河川によって運搬された土砂が堆積されてできる。
 - ウ 平野を流れる河川の河口部が海面下に沈んでできる。
 - エ 浅い海の堆積面が海面上に現れてできる。
- 問4 略地図中②の県庁所在地の雨温図を、ア～エから1つ選びなさい。

(理科年表 2016)



問5 略地図中⑤の県では、夏でも冷涼な気候を利用して野菜を栽培し、国内の他の産地からの出荷が少なくなる夏の時期に大都市圏に出荷します。これを何といいますか答えなさい。

問6 略地図中⑥の県の記述について、誤っているものを、ア～エから1つ選びなさい。

ア 江戸時代から城下町として発展した、この地方で最多（2016年）の人口の都市がある。

イ 自動車工業を中心に発展をとげた、製造出荷額日本一（2016年）の工業地帯がある。

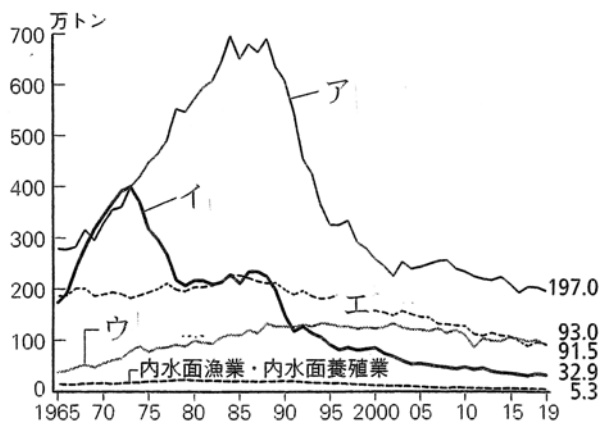
ウ 農業の生産性が高く、先進的な農業経営を行っており、茶の生産が日本一（2016年）である。

エ 県内の貿易港からたくさんの製造品を輸出しており、その輸出額は日本一（2020年）である。

問7 略地図中⑦の県には、日本でも有数の漁港があります。これに関して、(1)・(2)の設問に答えなさい。

(1) ⑦の県の沖合を流れる暖流の名称を答えなさい。

(2) 次のグラフは、日本の漁業部門別生産量の推移を表しており、ア～エは沿岸漁業、沖合漁業、遠洋漁業、海面養殖業のいずれかです。このうち⑦の県にある漁港でさかんな遠洋漁業に該当するものを、ア～エから選びなさい。



問8 略地図中⑨の県でさかんな伝統的工芸品を、ア～エから1つ選びなさい。

ア 小千谷縮 イ 輪島塗 ウ 越前和紙 エ 九谷焼

3 次の略年表を見て、問いに答えなさい。

略年表

	できごと
527年	磐井の反乱が起こる
↑ A ↓	
939年	藤原純友の乱が起こる・・・①
↑ B ↓	
1221年	承久の乱が起こる・・・②
↑ C ↓	
1457年	(③) の戦いが起こる
1488年	加賀の一向一揆が起こる・・・④
↑ D ↓	
1637年	島原・天草一揆が起こる・・・⑤
↑ E ↓	
1837年	大塩平八郎の乱が起こる・・・⑥
↑ F ↓	
1877年	西南戦争が起こる

問1 Aの時期の出来事として正しいものをア～オから3つ選び、年代の古い順に並べなさい。

- ア 聖武天皇が国ごとに国分寺を建てさせた。
- イ 白河天皇が上皇となり、院政を始めた。
- ウ 倭寇が北九州を根拠地として活動した。
- エ 坂上田村麻呂が征夷大將軍に任命された。
- オ 聖徳太子が隋に小野妹子を派遣した。

問 2 ①と同じ頃，関東地方で反乱を起こした人物を，ア～エから 1 つ選びなさい。

ア 源義朝 イ 源義経 ウ 平清盛 エ 平将門

問 3 次の図版は，B の時期に建てられた建物の写真です。この建物の名前を，ア～エから 1 つ選びなさい。



ア 東大寺南大門 イ 平等院鳳凰堂 ウ 銀閣 エ 飛鳥寺

問 4 ②に関して，この時，北条氏が鎌倉幕府の実権をにぎっていました。北条氏がついていた役職名を漢字で答えなさい。

問 5 C の時期に始まった貿易の名称として正しいものを，ア～エから 1 つ選びなさい。

ア 朱印船貿易 イ 南蛮貿易 ウ 勘合貿易 エ 日宋貿易

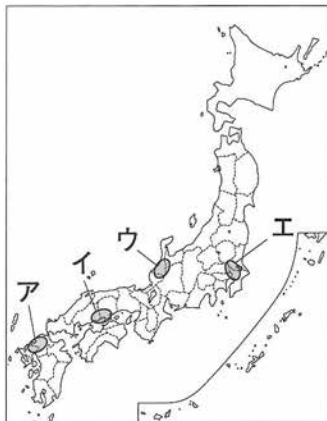
問 6 ③には，蝦夷地南部のアイヌの指導者の名前があてはまります。この人物の名前を答えなさい。

問 7 ④に関して，(1)・(2) の設問に答えなさい。

(1) 一向宗を始めた人物の名前を，ア～エから 1 つ選びなさい。

ア 鑑真 イ 最澄 ウ 一遍 エ 親鸞

(2) この一揆がおこった地域として最も適当なものを，次の略地図ア～エから 1 つ選びなさい。



問 8 D の時期の出来事として正しいものを，ア～エから 1 つ選びなさい。

- ア 交通が発達し，陸上では物資を運ぶ馬借が活躍した。
- イ 墾田永年私財法が出され，開墾地の私有が認められた。
- ウ 米の安売りなどを求める農民たちが米騒動をおこした。
- エ 御成敗式目に裁判の基準や守護の役割などを定めた。

問 9 ⑤に関して，この一揆の後，「鎖国」が行われました。「鎖国」に関する次の文 X・Y について，その正誤の組合せとして正しいものを，ア～エから 1 つ選びなさい。

X オランダの商館が長崎の出島に移された。

Y 対馬藩の尚氏が朝鮮との貿易を独占した。

- ア X 正 Y 正 イ X 正 Y 誤 ウ X 誤 Y 正 エ X 誤 Y 誤

問 10 次の表 1 は，E の時期の学問についてまとめたものです。(I)・(II)・(III) にあてはまる語句の組み合わせを，ア～カから 1 つ選びなさい。

表 1

儒学（朱子学）	国学	蘭学
<ul style="list-style-type: none"> ・「仁」や道徳を重視し，身分の上下を説く ・中国の孔子が完成した ・松平定信による (I) の改革で，幕府の正式な学問とされた 	<ul style="list-style-type: none"> ・儒教や仏教が伝わる前の日本人の精神の研究 ・本居宣長が (II) を研究した ・幕末の尊王攘夷運動に影響をあたえた 	<ul style="list-style-type: none"> ・西洋の学問の研究 ・徳川吉宗がヨーロッパの書物の輸入禁止をゆるめたことをきっかけにおこった ・(III) らが「解体新書」を翻訳した

- ア (I) 天保・(II)・枕草子・(III) 杉田玄白
- イ (I) 天保・(II)・古事記・(III) 伊能忠敬
- ウ (I) 天保・(II)・枕草子・(III) 伊能忠敬
- エ (I) 寛政・(II)・枕草子・(III) 杉田玄白
- オ (I) 寛政・(II)・古事記・(III) 伊能忠敬
- カ (I) 寛政・(II)・古事記・(III) 杉田玄白

問 11 ⑥の事件と一番近い時期におこった出来事を，ア～エから 1 つ選びなさい。

- ア アヘン戦争 イ ワイマール憲法の制定 ウ モンゴル帝国の成立
- エ マゼランの船隊の世界一周

問 12 次の表 2 は，F の時期に活動した人物の業績についてまとめたものです。
(a)・(b)・(c) にあてはまる文を，ア～ウからそれぞれ選びなさい。

表 2

人物名	吉田松陰	板垣退助	岩倉具視
業績	(a)	(b)	(c)

- ア 倒幕に活躍し，欧米諸国に派遣される使節団の団長となった。
- イ 民撰議院設立建白書を政府に提出し，国会の開設を要求した。
- ウ 松下村塾で多くの人材を育てたが，安政の大獄で処刑された。

問 13 次のア・イの出来事は，略年表中 A～F のどの時期のことですか，A～F からそれぞれ選びなさい。

- ア ローマ教皇が聖地エルサレムの回復のため十字軍の派遣を呼びかけた。
- イ ナポレオンがフランスの皇帝になり，ヨーロッパの大部分を征服した。

4 次の表は、日本のいくつかの内閣についてまとめたものです。これを見て、問いに答えなさい。

表

内閣総理大臣	所属・出身	年代	事項
(あ)	長州	1885~88	内閣制度発足
		1892~96	条約改正，日清戦争，下関条約，① <u>三国干渉</u>
大隈重信	憲政党	1898	最初の政党内閣
	立憲同志会	1914~16	② <u>第一次世界大戦</u>
桂太郎	長州	1901~06	日英同盟，③ <u>日露戦争</u> ，ポーツマス条約
		1908~11	韓国併合，条約改正
		1912	④ <u>第一次護憲運動</u>
(い)	立憲政友会	1918~21	最初の本格的な政党内閣，三・一独立運動，五・四運動，ベルサイユ条約
加藤高明	護憲三派	1924~26	⑤ <u>選挙法改正</u> ，治安維持法
近衛文麿	華族	1937~39	⑥ <u>日中戦争</u> ，国家総動員法
		1940~41	日独伊三国同盟，日ソ中立条約，大政翼賛会
東条英機	陸軍	1941~44	⑦ <u>太平洋戦争</u>
吉田茂	日本自由党	1946~47	農地改革，日本国憲法，教育基本法
	民主自由党 自由党	1948~54	朝鮮戦争，⑧ <u>日米安全保障条約</u> ，自衛隊
鳩山一郎	日本民主党 (う)	1954~56	日ソ共同宣言，国際連合加盟

問1 (あ)・(い) にあてはまる人名を答えなさい。

問2 下線部①に関して、この干渉を行った国にあてはまらないものを、ア～オからすべて選びなさい。

ア アメリカ イ ドイツ ウ フランス エ ロシア オ イギリス

問3 下線部②に関して、この戦争中の出来事として正しいものを、ア～エから1つ選びなさい。

ア 南北戦争 イ インド大反乱 ウ 義和団事件 エ ロシア革命

問 4 下線部③に関して、次の史料は、この戦争に出兵した肉親の身を案じてよまれた詩の最初の部分です。この詩をよんだ人物を、ア～エから1つ選びなさい。

あゝをとうとよ 君を泣く
君死にたまふことなけれ

ア 芥川龍之介 イ 与謝野晶子 ウ 夏目漱石 エ 樋口一葉

問 5 下線部④に関して、この運動の背景となった大正デモクラシーの風潮について誤っているものを、ア～エから1つ選びなさい。

ア 吉野作造が民本主義を唱え、言論界に支持された。
イ 北里柴三郎が足尾銅山の公害問題の解決に努めた。
ウ 市川房枝などが女性の参政権の獲得を目ざした。
エ 小作争議が盛んになり、日本農民組合が生まれた。

問 6 下線部⑤に関して、この改正で選挙権を得た人々を、ア～エから1つ選びなさい。

ア 直接国税を15円以上納める満25歳以上の男子
イ 直接国税を3円以上納める満25歳以上の男子
ウ 満25歳以上のすべての男子
エ 満20歳以上のすべての男女

問 7 下線部⑥に関する次の文 X・Y について、その正誤の組合せとして正しいものを、ア～エから1つ選びなさい。

X この戦争は、柳条湖でおこったシベリア鉄道の爆破事件をきっかけにおこった。
Y 日本政府は、この戦争中、中国政府に対して二十一か条の要求を提出した。

ア X 正 Y 正 イ X 正 Y 誤 ウ X 誤 Y 正 エ X 誤 Y 誤

問 8 下線部⑦に関して、次のア～ウの出来事を、年代の古い順に並べなさい。

ア 沖縄戦 イ 真珠湾攻撃 ウ ミッドウエー海戦

問 9 下線部⑧に関して、次の史料は、この条約と同じ日に結ばれた太平洋戦争の平和条約の部分要約です。この条約が結ばれた都市名を答えなさい。

第1条 日本国と各連合国との間の戦争状態は、この条約が日本国と当該連合国との間に効力を生ずる日に終了する。
第2条 日本国は、朝鮮の独立を承認し、朝鮮に対するすべての権利と請求権を放棄する。

問 10 (う) には、1955年の「保守合同」によって成立した政党があてはまります。この政党の正式名を答えなさい。

5

次の文章を読んで、問いに答えなさい。

17世紀から18世紀にかけての市民革命は、①基本的人権の保障に関する重要な契機であったといわれている。その時代の人権の中心は、②自由権と平等権であった。その後、19世紀に入ると、政治への参加を求める要求が強まり、それに伴い、(1)が拡大していった。さらに、20世紀になると、全ての人が人間らしく豊かに生きるための権利として③社会権が認められるようになった。

現在では、社会の変化にともない、④国や地方公共団体に対して新しい人権も主張されるようになってきている。

また、⑤国際連合などにおいて、人権を国際的に保障しようとする動きがますます強くなってきている。例えば、紛争や災害、飢餓、貧困などさまざまな問題の影響を最も受ける子どもたちが人間らしく生きるための権利を保障する、(2)が1989年に採択されている。

問1 文中の空欄(1)・(2)に適切な語句を答えなさい。

問2 下線部①に関して、人権思想について明文化した、ア～エの歴史的文書を時代順に並べ替えなさい。

- ア フランス人権宣言 イ マグナ・カルタ ウ アメリカ独立宣言
エ 権利章典

問3 下線部②に関して、日本国憲法に規定された自由権と平等権についての記述として誤っているものを、ア～エから1つ選びなさい。

- ア 信教の自由を保障するために、公権力の宗教的活動を禁止する政教分離の原則がある。
イ 現行犯で逮捕される場合を除き、検察官が発する令状によらなければ逮捕されない。
ウ 経済活動の自由については、公共の福祉に基づく制約を受けることがある。
エ 両性の本質的平等を規定し、それに対応して、民法の「家族」の規定が改正された。

問4 下線部③に関して、次の文は日本国憲法第25条1項(生存権規定)です。空欄(あ)・(い)に適切な語句を漢字で答えなさい。

すべて国民は、(あ)で文化的な(い)の生活を営む権利をする。

問5 下線部④に関して、(1)・(2)の設問に答えなさい。

(1) 国に権力が集まる状態を「中央集権」というのに対して、国から地方に権力を分けていくことを何といいますか、漢字4字で答えなさい。

(2) 地方公共団体についての記述として適当でないものを、ア～エから1つ選びなさい。

ア 地方議会は、首長に対する不信任決議権をもつ。

イ 首長は、地方議会に議案を提出する権限をもつ。

ウ 住民は、条例の改正を、必要な数の署名をもって議会に直接請求できる。

エ 首長は、地方議会が可決した条例や予算を拒否することができる。

問6 下線部⑤に関して、国際連合の記述として適当でないものを、ア～エから1つ選びなさい。

ア 全加盟国で構成される総会の議決方式は、多数決制が採用されている。

イ 総会は、安全保障理事会の勧告に基づいて事務総長を任命する。

ウ 安全保障理事会の重要事項の議決は、五大国一致の原則がとられている。

エ 安全保障理事会の非常任理事国は、任期4年の10か国で構成される。

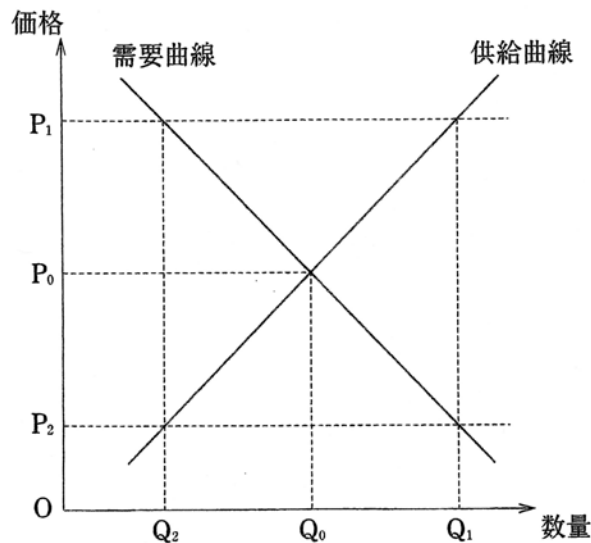
6 次の文章を読んで、問いに答えなさい。

一国の経済には、経済の主体として家計・企業・政府の三つがあり、これらが関連しあっている。家計が購入する財やサービスの多くは企業により生産され販売されており、一般に、その財やサービスの価格は①需要と供給の関係によって変化する。しかし、少数の企業が市場を(1)するようになると、需要と供給の関係だけでは価格が決まらないことがある。世界の多くの国々が採用している(2)経済では、経済活動が活発になったり停滞したりすることがあり、②景気の変動する。この景気の変動を調整したり、国民生活の向上を図るために、③財政や金融などの政策が行われている。この結果、経済の規模は拡大し、利潤の獲得に成功し多くの富を得る者も現れるようになった。

しかし、人々が便利で豊かな生活を追い求めた結果、解決の必要な新たな問題が発生するようになった。④環境問題や経済格差の拡大はその典型例といえよう。これらの問題にどのように取り組んでいくかを考え、決めるのは他ならぬ私たちである。⑤私たちの将来は、私たち自身にかかっているのである。

問1 文中の空欄(1)・(2)に適切な語句を答えなさい。

問2 下線部①に関して、次の図は、ある財についての需要曲線と供給曲線を表しています。この図について適当でないものを、ア～エから1つ選びなさい。



- ア この財の均衡価格は P_0 で表され、このとき需要量と供給量が一致する。
- イ 価格が P_2 のとき、 $Q_1 - Q_2$ 分の超過需要が生じて品不足となる。
- ウ 価格が P_1 のとき、 $Q_1 - Q_2$ 分の超過供給が生じて売れ残りが出る。
- エ 超過供給が生じている価格では、価格が上昇して超過供給が解消される。

問3 下線部②に関して、景気後退（不況）時の一般的な経済状況の説明として、最も適当なものを、ア～エから1つ選びなさい。

- ア 生産の増加、失業者の増加、企業の投資減少。
- イ 生産の増加、失業者の減少、企業の投資増加。
- ウ 生産の減少、失業者の増加、企業の倒産増加。
- エ 生産の減少、失業者の減少、企業の倒産減少。

問4 下線部③に関して、(1)・(2)の設問に答えなさい。

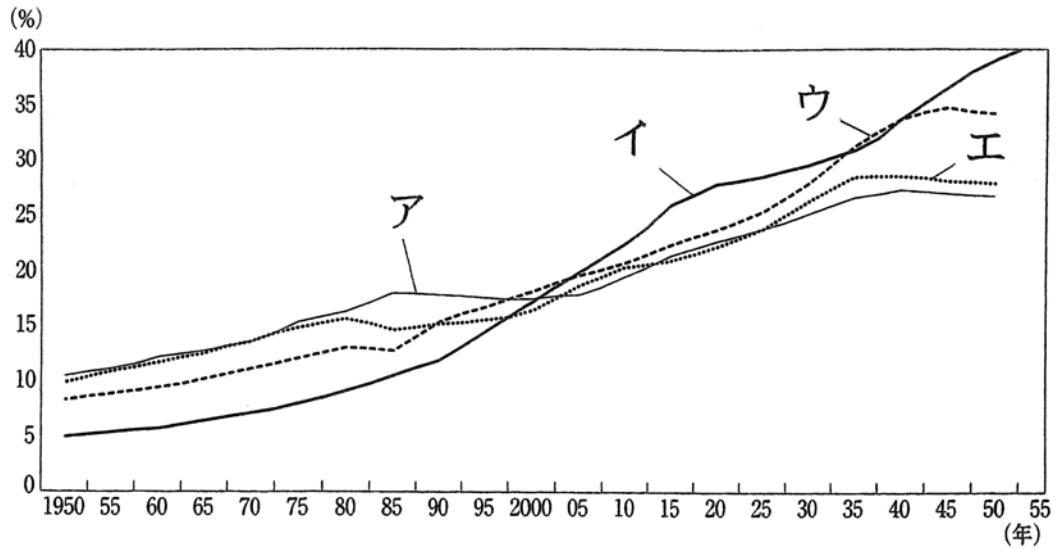
- (1) 財政の役割の1つに所得の再分配がありますが、この役割を実現するために、所得の高い人により多くの税金を負担してもらう制度が取り入れられています。この制度を何といいますか、答えなさい。
- (2) 景気過熱（好況）時に、効果的と考えられる財政または金融政策として最も適当なものを、ア～エから1つ選びなさい。

ア 消費税率の引き下げ	イ 社会保障支出の拡大
ウ 買いオペレーションの実施	エ 公共事業支出の削減

問5 下線部④に関して、ごみ問題の解決に向けた取り組みの例として、「3R」があります。「3R」の「R」とは何ですか、3つすべて答えなさい。

問6 下線部⑤に関して、日本では、人口の高齢化が急速に進行しており、問題となっています。次のグラフは世界各国の*高齢化率の推移を示したもので、ア～エは、ドイツ、イタリア、スウェーデン、日本のいずれかです。日本に該当するものを1つ選びなさい。

*高齢化率…総人口に占める、老年人口（65歳以上人口）の割合のこと



1 問1 (1) (2) (3)

(4) 記号 大陸名

(5) 問2

問3 問4

問5 (1) (2) (3)

(4)

2 問1 問2 問3

問4 問5

問6 問7 (1)

問7 (2) 問8

3 問1 古 → → 新 問2

問3 問4

問5 問6

問7 (1) (2) 問8

問9 問10 問11

問12 a b c

問13 ア イ

4 問1 あ い

問2 問3

問4 問5

問6 問7

問8 古 → → 新

問9

問10

5 問1 (1) (2)

問2 古 → → → 新

問3 問4 (あ) (い)

問5 (1) (2)

問6

6 問1 (1) (2)

問2 問3

問4 (1) (2)

問5

問6

受験
番号

氏名

得点

1 問1 (1) C 2点 (2) E 2点 (3) A 2点
 (4) 記号 D 大陸名 北アメリカ大陸 完全 2点
 (5) 北米自由貿易協定(NAFTA) 2点 問2 インド洋 1点
 問3 南極大陸 1点 問4 ウ 2点
 問5 (1) ウ 1点 (2) ウ 1点 (3) エ 2点
 (4) エ 1点

2 問1 近畿地方 2点 問2 ③ ⑥ ⑦ 完全 2点 問3 ア 2点
 問4 エ 2点 問5 抑制栽培 2点
 問6 ウ 2点 問7 (1) 日本海流(黒潮) 2点
 問7 (2) イ 1点 問8 ア 1点

3 問1 古 オ → ア → エ 新 2点 問2 エ 1点
 問3 イ 1点 問4 執権 2点
 問5 ウ 1点 問6 コシヤマイン 2点
 問7 (1) エ (2) ウ 各 1点 問8 ア 1点
 問9 イ 1点 問10 カ 1点 問11 ア 1点
 問12 a ウ b イ c ア 完全 2点
 問13 ア B イ E 各 1点

4 問1 あ 伊藤博文 い 原敬 各 2点
 問2 ア、オ 完全 1点 問3 エ 1点
 問4 イ 1点 問5 イ 1点
 問6 ウ 1点 問7 エ 1点
 問8 古 イ → ウ → ア 新 2点
 問9 サンフランシスコ 2点
 問10 自由民主党 2点

5 問1 (1) 参政権 2点 (2) 子どもの権利条約 2点
 問2 古 イ → エ → ウ → ア 新 2点
 問3 イ 2点 問4 (あ) 健康 (い) 最低限度 各 1点
 問5 (1) 地方分権 (2) ウ 各 1点 2点
 問6 エ 2点

6 問1 (1) 独占 1点 (2) 資本主義 1点
 問2 エ 2点 問3 ウ 2点
 問4 (1) 累進課税制度 (2) エ 各 2点
 問5 リユース リデュース リサイクル 各 1点
 問6 イ 2点

受験番号

氏名

得点