

令和4年度

函館白百合学園高等学校

一般入学試験問題

社 会

特進(LB)

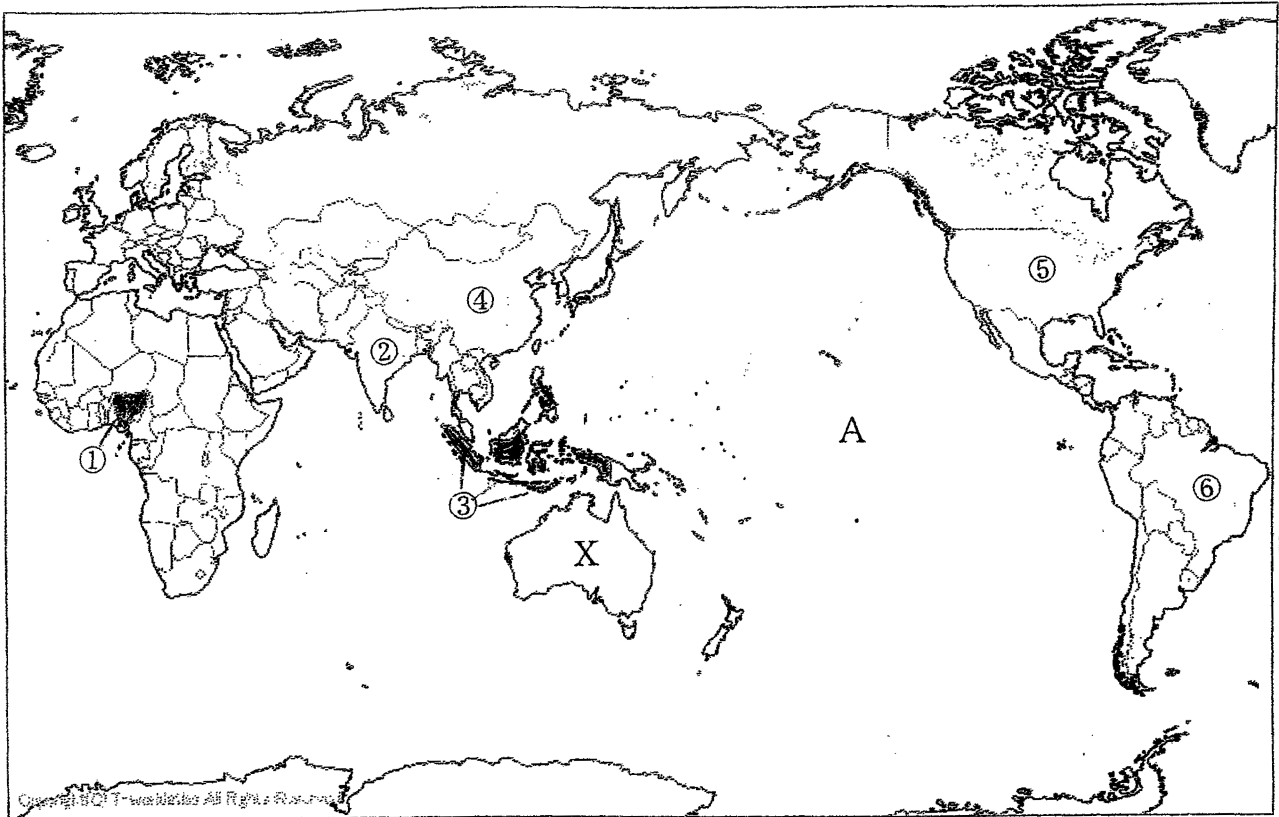
令和4年2月15日(火)実施

注意事項

1. 試験時間は50分です。
2. 問題は①から⑥まであり、15ページまであります。
3. 答えはすべて別紙の解答用紙に記入し、解答用紙だけ提出しなさい。

1

次の略地図を見て，問いに答えなさい。



問1 略地図の①～⑥の国は，世界の国の中で人口が多い，上位の6か国です。これらの国々に関して，(1)～(5)の設問に答えなさい。

(1) ①～⑥の国の中で，人口が10億人以上の国はどれか，その番号をすべて答えなさい。

(2) ①の国は，2000～2015年の年平均人口増加率が最も大きい国です。①の国で起きている，人口が短期間で急激に増加する現象を何というか答えなさい。

(3) ①～⑥の国の中で，日本との貿易額が最も大きい国の番号を答えなさい。

(4) たくさんの島々で構成されている③の国の国民の大部分が信仰している宗教を，ア～エから1つ選びなさい。

ア キリスト教 イ 仏教 ウ イスラム教 エ ヒンドゥー教

(5) 次の説明文は，①～⑥の国のうちの，いずれかのものです。あてはまる国の番号と，その国名を答えなさい。

19世紀半ばから，イギリスの植民地支配を受けていたが，第二次世界大戦後，独立をはたした。国内の豊富な資源を用いて，20世紀末から急速な経済成長を遂げ，現在では，BRICSの1つに数えられている。なかでも，ICT産業の発展はめざましく，この国の重要な産業に位置づけられている。

問2 略地図のAの大洋名を答えなさい。

問3 略地図のX国に関して、(1)～(4)の設問に答えなさい。

(1) X国で最も多くの割合を占める気候帯を、ア～オから1つ選びなさい。

ア 熱帯 イ 乾燥帯 ウ 温帯 エ 冷帯（亜寒帯） オ 寒帯

(2) X国の説明文として誤っているものを、ア～エから1つ選びなさい。

ア 18世紀末以降、イギリスによって開拓が進められてきたが、現在はアジアから多くの移民を受け入れている。

イ 人口の多くは南東部や南西部の沿岸地域に集中しており、内陸部には人口100万人規模の都市が存在しない。

ウ 鉄鉱石、石炭など豊富な鉱産・エネルギー資源が産出するが、それらのほとんどが国内で消費されている。

エ 広大な国土では、肉牛や羊の放牧が行われているほか、小麦の栽培もさかんで多くを海外に輸出している。

(3) X国では、20世紀初頭から1970年代の前半まで、白人を中心とした国家の建設をめざす政策がおこなわれてきましたが、これを何とよいか答えなさい。

(4) 次の表は、X国の輸出入相手国（金額割合－2019年）を表したものです。空欄

(a)～(c)には、アメリカ合衆国、日本、中国のいずれかがあてはまります。

その組み合わせとして正しいものを、ア～カから1つ選びなさい。

輸出相手国	輸入相手国
(a) 38.7%	(a) 25.7%
(b) 14.8%	(c) 11.8%
韓 国 6.6%	(b) 7.0%
イギリス 4.0%	タ イ 4.8%
(c) 3.8%	ドイ ツ 4.8%

(国連国際貿易統計 2019)

ア a－アメリカ b－日本 c－中国 イ a－アメリカ b－中国 c－日本
ウ a－日本 b－アメリカ c－中国 エ a－日本 b－中国 c－アメリカ
オ a－中国 b－アメリカ c－日本 カ a－中国 b－日本 c－アメリカ

2

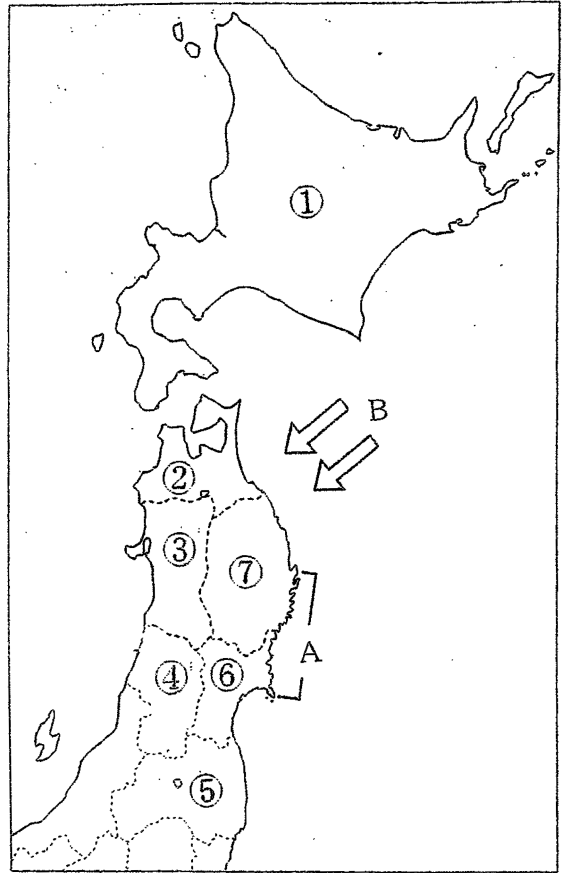
次の略地図を見て、問いに答えなさい。

問1 略地図中の⑤県は、複数の地方と接しています。⑤県と接している地方の組み合わせとして正しいものを、ア～エから1つ選びなさい。

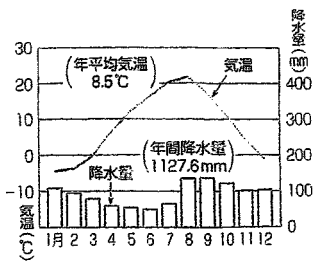
- ア 近畿地方と中部地方
- イ 関東地方と近畿地方
- ウ 関東地方と中国地方
- エ 中部地方と関東地方

問2 略地図中の③県と⑦県は、北緯40度線が横断する位置にあります。北緯40度線が領土を通過しない国を、ア～エから1つ選びなさい。

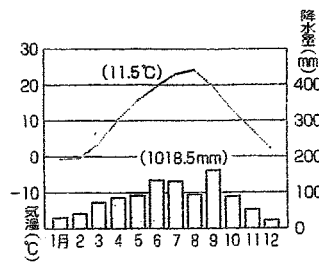
- ア イラン イ トルコ
- ウ イタリア エ スペイン



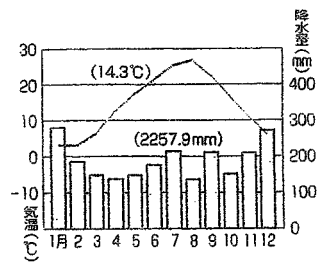
問3 ①の県庁所在地の雨温図を、ア～エから1つ選びなさい。



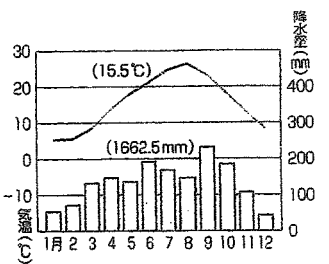
ア



イ



ウ



エ

(理科年表 2014)

問4 略地図中A・Bに関して、(1)～(3)の設問に答えなさい。

(1) Aの海岸は、起伏の大きな山地が海面下に沈み、海水が谷に入り込んでできた地形です。複雑な海岸線をもつこのような地形を何というか答えなさい。

(2) (1) の地形が見られない場所を，ア～エから 1 つ選びなさい。

- ア 長崎県北松浦半島 イ 福井県若狭湾 ウ 三重県英虞湾
エ 神奈川県三浦半島

(3) 矢印 B は，東北地方の太平洋側に冷害を発生させる寒冷な北東風を示しています。この風をもたらす気団を，ア～エから 1 つ選びなさい。

- ア シベリア気団 イ 小笠原気団 ウ オホーツク海気団
エ 揚子江気団

問 5 次の表は，ある農作物の生産量（2019 年）を示しています。この農作物は何か答えなさい。（表中の番号は，略地図①～⑦の番号と一致）

	千トン	%
新潟県	6 4 6	8 . 3
①	5 8 8	7 . 5
③	5 2 7	6 . 7
④	4 0 4	5 . 2
⑥	3 7 7	4 . 8

（農林水産統計 2019）

問 6 略地図中の地域は，水産業を行う自然条件に恵まれており，日本でも有数の漁港が多数あります。これに関して，(1)・(2) の設問に答えなさい。

(1) 好漁場の条件の一つに暖流と寒流がぶつかる海域であることがあげられます。この暖流と寒流がぶつかる場所を何というか，漢字で答えなさい。

(2) 略地図中②県内にある，水揚げ量の多い漁港を，ア～エから 1 つ選びなさい
ア 八戸 イ 石巻 ウ 釧路 エ 焼津

問 7 略地図中⑦県でさかんな伝統工業を，ア～エから 1 つ選びなさい。

- ア 南部鉄器 イ 津軽塗 ウ 伊万里焼 エ 西陣織

問 8 略地図中の地域は，1980 年代以降，電子部品工業が発達しています。この理由を，下の語句を用いて 40 字以内で説明しなさい。

高速交通網

3

次の A～E の文を読んで、問いに答えなさい。

- A 大和政権の有力な豪族であった蘇我馬子は、①聖徳太子と協力して天皇中心の国家の確立をめざした。聖徳太子の死後、馬子の子である蘇我蝦夷・入鹿父子は、天皇家をしのぐ勢力を振るったが、645年、これに危機感を持った②中大兄皇子(のちの天智天皇)らによって倒された。その後、大化の改新と呼ばれる改革が進んだ。
- B 宇多天皇に取り立てられた菅原道真是、③唐の衰退を理由に遣唐使の中止を提案したが、その後、藤原氏との権力争いに敗れて九州に追われた。遣隋使を受け継いだ遣唐使は、7世紀以降たびたび中国に派遣されてその文化や制度を取り入れ、④奈良時代・平安時代の日本の政治・文化に強い影響を与えていた。
- C ⑤平清盛は、武士最初の政権を樹立した。平氏は、一族で高位高官を独占して栄えたが、1185年、壇ノ浦で源氏に敗れて滅亡した。平氏は、もともと桓武天皇の子孫を称する有力な武士団の1つであった。10世紀中頃には、⑥関東地方で平将門が反乱をおこしたが、これを平定したのも同じ平氏の一族であった。
- D ⑦織田信長の保護を受けていた足利義昭は、1568年、その援助を受けて上京し、室町幕府の15代将軍に任命された。しかし、しだいに信長と対立するようになり、各地の戦国大名や仏教寺院など、反信長勢力の結集をはかった。1573年、義昭は信長によって追放され、⑧室町時代は終わりを迎えた。
- E 1866年、⑨江戸幕府の15代将軍となった徳川慶喜は、幕政改革に努めたが成功せず、翌年、朝廷に政権を返上した。幕府打倒をめざす薩摩藩・長州藩などと一部の公家は、(⑩) の大号令を発して新政府の樹立を宣言した。これに反発した旧幕府軍は、各地で新政府軍と戦ったが敗北を重ね、⑪蝦夷地で降伏した。

問1 下線部①に関して、聖徳太子の行った政治として正しいものを、ア～エから1つ選びなさい。

- ア 国ごとに守護を、荘園や公領ごとに地頭を置き、全国を支配した。
- イ 公地公民の方針にもとづき、6歳以上の男女に口分田を支給した。
- ウ 冠位十二階の制度を定め、能力や功績のある豪族を役人にした。
- エ 上皇となって政治権力を握り、摂政・関白をおさえて院政を行った。

問2 下線部②に関して、672年、天智天皇の弟と子が天皇の位を争いました。この戦いを何というか、答えなさい。

問3 下線部③に関して、唐の滅亡後、10世紀後半に中国を統一した王朝の名前を、ア～エから1つ選びなさい。

ア 殷 イ 秦 ウ 漢 エ 宋

問4 下線部④に関して、(1)・(2)の設問に答えなさい。

(1)奈良時代に世界でおきた出来事として正しいものを、ア～エから1つ選びなさい。

ア イスラム世界でバグダッドが栄えた。
イ インドでシャカが仏教を創始した。
ウ コロンブスがアメリカに到達した。
エ アレクサンドロスが東方に遠征した。

(2)平安時代の文化の説明として正しいものを、ア～エから1つ選びなさい。

ア 奥州藤原氏が平泉を中心に栄え、独自の文化を開花させた。
イ 地方の国々の自然や伝説を記した「風土記」がつくられた。
ウ 浮世絵が流行し、葛飾北斎や歌川広重が風景画を描いた。
エ 中国から帰国した雪舟は、墨単色で描く水墨画を完成した。

問5 下線部⑤に関して、平清盛が政権を獲得するきっかけとなった戦いを、ア～エから1つ選びなさい。

ア 承久の乱 イ 応仁の乱 ウ 平治の乱 エ 保元の乱

問6 下線部⑥に関して、この反乱と同じ時期に、瀬戸内海の海賊を率いて反乱をおこした人物の名前を、ア～エから1つ選びなさい。

ア 藤原道長 イ 藤原純友 ウ 藤原鎌足 エ 藤原定家

問7 下線部⑦に関して、織田信長が部下の明智光秀によって自害させられた寺院名を答えなさい。

問8 下線部⑧に関して、次の図版は、この時代に建国された琉球王国の王宮の写真です。この王国の都の名前を答えなさい。

問 9 下線部⑨に関して、(1)・(2)の設問に答えなさい。

(1) この幕府の時代の出来事として正しいものを、ア～エから1つ選びなさい。

- ア 3人のキリシタン大名がローマに少年使節を送った。
- イ 公事方御定書を定めて法を整備し、裁判の基準とした。
- ウ 大名が交代で管領と呼ばれる将軍の補佐役についた。
- エ 武士に土地の質入れや売買を禁止する徳政令を出した。

(2) 次の表は、この幕府の時代の人物についてまとめたものです。(X)～(Z)にあてはまるものを、それぞれア～ウから選びなさい。

表

人物名	新井白石	水野忠邦	井伊直弼
	(X)	(Y)	(Z)

- ア 安政の大獄で、反対派の大名・公家を処罰した。
- イ 長崎貿易を制限し、金・銀の流出をおさえた。
- ウ 江戸・大阪周辺の土地を直接支配しようとした。

問 10 (⑩) にあてはまる語句を漢字4文字で答えなさい。

問 11 下線部⑪に関して、函館で降伏した旧幕府軍の中心人物は誰か、ア～エから1つ選びなさい。

- ア 大久保利通
- イ 大塩平八郎
- ウ 西郷隆盛
- エ 榎本武揚

4 次の略年表を見て、問いに答えなさい。

略年表

	できごと
1868年	五箇条の御誓文が出される
↑ A ↓	
1894年	日清戦争がおきる・・・①
↑ B ↓	
1905年	日露戦争の講和条約が結ばれる・・・②
1911年	関税自主権を回復し、条約改正が実現する・・・③
↑ C ↓	
1925年	普通選挙法が制定される・・・④
1929年	アメリカで世界恐慌がおこる・・・⑤
↑ D ↓	
1945年	日本が（ ⑥ ）宣言を受諾し、連合国に降伏する
↑ E ↓	
1972年	沖縄が返還される

問1 Aの時期の出来事として誤っているものを、ア～エから1つ選びなさい。

- ア 労働者の権利を保護する労働組合法や労働基準法が制定された。
- イ 四民平等にもとづいて身分制度が改革され、解放令が出された。
- ウ 学制が公布され、6歳以上の男女は小学校に通うように定めた。
- エ 徴兵令を發布し、20歳以上のすべての男子に兵役を義務づけた。

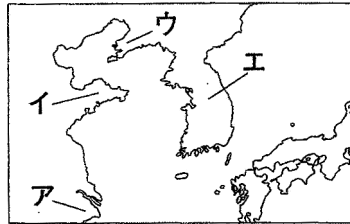
問2 ①に関して、この戦争の開戦のきっかけとなった出来事を、ア～エから1つ選びなさい。

- ア 湾岸戦争 イ 甲午農民戦争 ウ 薩英戦争 エ 中東戦争

問3 Bの時期に、日本で最初の政党内閣である大隈重信内閣が成立しました。この政党を、ア～エから1つ選びなさい。

ア 立憲改進黨 イ 自由党 ウ 立憲政友会 エ 憲政党

問4 ②に関して、日本はこの条約で遼東半島の租借権を得ました。遼東半島の位置を、次の略地図ア～エから選びなさい。



問5 ③に関して、(1)・(2)の設問に答えなさい。

(1) この条約改正に成功した外務大臣を、ア～エから1つ選びなさい。

ア 陸奥宗光 イ 木戸孝允 ウ 板垣退助 エ 小村寿太郎

(2) この条約改正と同じ年に、女性の地位の向上をめざす雑誌「青鞥」が刊行されました。この雑誌を編集した人物を、ア～エから1つ選びなさい。

ア 樋口一葉 イ 平塚らいてう ウ 津田梅子 エ 与謝野晶子

問6 Cの時期の出来事として正しいものを、ア～エから1つ選びなさい。

ア 戦争に必要な物資や人を動員できる国家総動員法が制定された。

イ 忠君愛国や父母への孝行などを説く教育勅語が發布された。

ウ 米の安売りを求める民衆が米屋などを襲う米騒動がおこった。

エ ロシアの南下に対抗して、イギリスと日本が同盟を結んだ。

問7 ④に関して、この選挙法改正と同時に、天皇制や私有財産制度を否定する運動を取りしめる法律が制定されました。この法律の名前を答えなさい。

問8 ⑤に関して、これに対して、ニューディール政策をかかげたアメリカ大統領は誰か、ア～エから選びなさい。

ア リンカーン イ ワシントン ウ ケネディ エ ローズベルト

問9 Dの時期に、ヒトラーの下で独裁的な権力を獲得したドイツの政党を何というか、答えなさい。

問10 (⑥) にあてはまる語句を答えなさい。

問 11 次のア～ウの出来事は、略年表中 A～E のどの時期のことか、それぞれ選びなさい。

ア ヨーロッパ共同体（EC）の成立

イ ドイツ帝国の誕生

ウ ベルサイユ条約の調印

5 次の文を読んで、問いに答えなさい。

日本は、明治維新を経て、1889年①大日本帝国憲法を制定した。また第二次世界大戦後、手続き上、大日本帝国憲法を改正する形式をとり、1946年に日本国憲法が公布された。日本国憲法は、国民主権、②基本的人権の尊重、平和主義の3つの基本原則から成り立っている。前文に続いて、第1章から第11章まであり、③天皇、戦争の放棄、④国会、⑤内閣、⑥司法、⑦地方自治などについて書かれている。

問1 下線部①に関して、誤っているものを、ア～エから1つ選びなさい。

- ア 憲法の草案は、天皇の相談にこたえる機関として設置された枢密院において、天皇の出席のもと審議・修正された。
- イ 憲法が定める国民の権利は、天皇があたえる「臣民の権利」であり、法律の範囲内で保障されるにとどまった。
- ウ 陸海軍の最高指揮権（統帥権）や、議会の召集・解散、条約の締結、開戦や講和についても天皇の権限とされた。
- エ 君主権の強いフランスの憲法にならってつくられ、天皇が国民にあたえるという形で発布された欽定憲法であった。

問2 下線部②に関して、基本的人権の1つである社会権にあたらぬものを、ア～エから1つ選びなさい。

- ア 生存権 イ 裁判を受ける権利 ウ 労働三権
- エ 教育を受ける権利

問3 下線部③に関して、次の空欄にあてはまる語句を、それぞれ漢字2字で答えなさい。「天皇は、(1)の助言と承認により、国民のために、左の(2)に関する行為を行ふ」(日本国憲法第7条より)

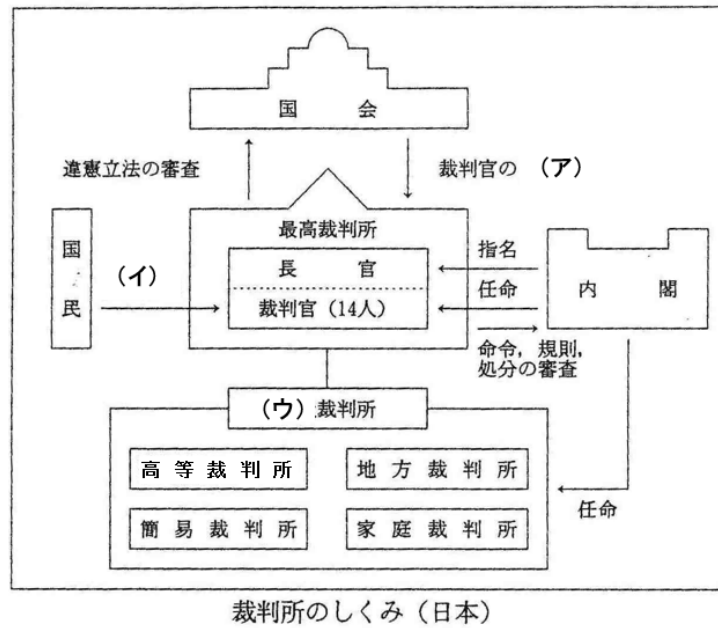
問4 下線部④に関して、I・IIの正誤の組み合わせとして正しいものを、ア～エから1つ選びなさい。

- I 国会議員は、国会の会期中に逮捕されることがないが、議院で行った演説・討論・表決について、国会の外で、その責任を問われることがある。
 - II 国会の審議は、衆議院と参議院のそれぞれにおいて、各院の議員全体が参加する本会議と、議員が分かれて参加する公聴会で行われる。
- ア I = 正 II = 正 イ I = 正 II = 誤 ウ I = 誤 II = 正
 - エ I = 誤 II = 誤

問5 下線部⑤に関して、内閣の仕事を、ア～オから2つ選びなさい。

- ア 法律の執行 イ 外国と結ぶ条約の承認 ウ 憲法改正の発議
- エ 予算案の作成 オ 国政の調査

問6 下線部⑥に関して、下図の(ア)～(ウ)にあてはまる語句を答えなさい。



問7 下線部⑦に関して、日本では直接民主制にもとづく直接請求権が認められています。直接請求権について、必要な署名数が有権者の3分の1以上のものを、ア～エから全て選びなさい。

- | | |
|-----------------|--------------|
| ア 条例の制定または改廃の請求 | イ 監査請求 |
| ウ 議会の解散請求 | エ 首長・議員の解職請求 |

6 次のA～Fの文を読んで、問いに答えなさい。

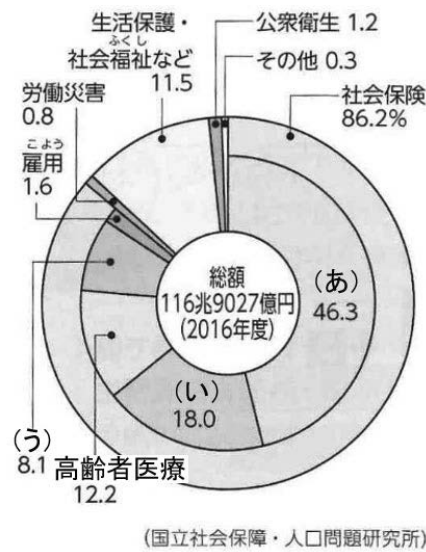
- A 中央銀行が行う①金融政策と、政府が行う(1)を適切に組み合わせることによって、経済の安定化を図るのが経済政策である。経済政策は、私たちが安心して暮らしていけるように効率性と公平性のバランスを考えながら行われる必要がある。
- B 社会全体で互いに生活を支え合うしくみとして、②社会保障制度がある。日本の社会保障制度は、社会保険・(2)・社会福祉・公衆衛生からなりたっている。多くの先進国でも、社会保険が、社会保障制度の中心で大きな役割を果たしている。
- C ③株式会社は、現代の代表的な企業のかたちである。経営は、多くの場合、出資者自身が行うのではなく、会社の重要事項を決める(3)で選出された、専門の経営者によって行われる。
- D ④国際連合は、1945年6月サンフランシスコ会議で採択された国際連合憲章に基づき同年10月発足した。また国際連合は、総会を中心に事務局・(4)・信託統治理事会・経済社会理事会・国際司法裁判所の主要機関から成り立っている。
- E 人、もの、お金、そして情報が国境を越えて地球規模で行き来することを、(5)化という。私たちの暮らしは、国際分業のなかで営まれているが、実際には、⑤生産性の高い先進工業国と生産性の低い発展途上国との間に、経済格差が広がっている。
- F 1948年に国際連合総会において採択された世界人権宣言は、達成すべき共通の人権保障の基準を掲げ、それを実現するために、1966年に(6)が採択された。また、2015年に国際連合は総会で⑥「持続可能な開発目標」を全会一致で採択した。

問1 文中の空欄(1)～(6)にあてはまる語句を答えなさい。

問2 下線部①に関して、次の文章のXとYに関して、それぞれ適切な語句を選び、記号で答えなさい。

現在の金融政策で重要な役割を担うのは、主に国債の売買によって通貨量の調整を行う公開市場操作である。例えば、インフレになると、中央銀行はもっている国債などをX【ア 売り イ 買い】、企業や家計がお金をY【ア 借りにくく イ 借りやすく】し、景気を抑制します。

問3 下線部②に関して、円グラフは社会保障費の制度別の内訳を表しています。(あ)～(う)の組み合わせとして正しいものを、ア～カから選びなさい。



- | | | | |
|---|--------|--------|--------|
| ア | (あ) 医療 | (い) 介護 | (う) 年金 |
| イ | (あ) 医療 | (い) 年金 | (う) 介護 |
| ウ | (あ) 介護 | (い) 医療 | (う) 年金 |
| エ | (あ) 介護 | (い) 年金 | (う) 医療 |
| オ | (あ) 年金 | (い) 医療 | (う) 介護 |
| カ | (あ) 年金 | (い) 介護 | (う) 医療 |

問4 下線部③に関して、I・IIの文の正誤の組み合わせとして正しいものを、ア～エから1つ選びなさい。

- I 株式会社の利益は、会社に残す部分を除き、配当として、持ち株数に応じて株主に分配される。
- II 株式会社の株式は、証券取引所などで売買されており、需要と供給により株価も変化する。

- | | | | | | | | | |
|---|-------|--------|---|-------|--------|---|-------|--------|
| ア | I = 正 | II = 正 | イ | I = 正 | II = 誤 | ウ | I = 誤 | II = 正 |
| エ | I = 誤 | II = 誤 | | | | | | |

問5 下線部④に関して、ここに属する専門機関や補助機関などの正式名称と略称の組み合わせが誤っているものを、ア～エから1つ選びなさい。

- | | | | |
|---|-----------------|---|---------------------|
| ア | 国際原子力機関 = IAEA | イ | 世界保健機関 = WHO |
| ウ | 国連児童基金 = UNICEF | エ | 国連教育科学文化機関 = UNESCO |

問6 下線部⑤に関して、この問題を何というか、漢字4字で答えなさい。

問7 下線部⑥に関して、この言葉の略称をアルファベットで答えなさい。

1 問1 (1) (2)
(3) (4)
(5) 番号 国名
問2
問3 (1) (2) (3)
(4)

2 問1 問2 問3
問4 (1) (2) (3)
問5 問6 (1)
問6 (2) 問7
問8

3 問1 問2
問3 問4 (1) (2)
問5 問6
問7 問8
問9 (1) (2) X Y Z
問10 問11

4 問1 問2
問3 問4
問5 (1) (2) 問6
問7 問8
問9
問10
問11 ア イ ウ

5 問1 問2
問3 (1) (2)
問4 問5
問6 (ア) (イ)

ウ

問7

6 問1 (1) (2)
(3) (4)
(5) (6)
問2 X Y 問3
問4 問5
問6 問7

受験
番号

氏名

得 点

1

問1 (1) ②、④ (2) 人口爆発
2点 2点
(3) ④ (4) ウ
1点 2点
(5) 番号 ② 国名 インド
完全解答2点
問2 太平洋 1点
問3 (1) イ (2) ウ (3) 白豪主義
1点 2点 2点
(4) カ 2点

2

問1 エ 問2 ア 問3 ア
1点 2点 1点
問4 (1) リアス(式)海岸 (2) エ (3) ウ
2点 2点 1点
問5 米(コメ) 問6 (1) 潮目(潮境)
1点 2点
問6 (2) ア 問7 ア
1点 2点
問8 高速交通網が整備され
たことで、軽くて値段
が高い、電子部品の工
場が多数できたから。 40字
3点

3

問1 ウ 問2 壬申の乱
1点 2点
問3 エ 問4 (1) ア (2) ア
1点 1点 1点
問5 ウ 問6 イ
1点 1点
問7 本能寺 問8 首里
2点 2点
問9 (1) イ (2) X イ Y ウ Z ア
1点 完全解答 2点
問10 王政復古 問11 エ
漢字 2点 1点

4

問1 ア 問2 イ
1点 1点
問3 エ 問4 ウ
1点 2点
問5 (1) エ (2) イ 問6 ウ
1点 1点 1点
問7 治安維持法 問8 エ
2点 1点
問9 ナチ党・ナチス 2点
問10 ポツダム 2点
問11 ア E イ A ウ C
完全解答 2点

5

問1 エ 問2 イ
1点 1点
問3 (1) 内閣 (2) 国事
問3 漢字指定 1点 1点
問4 エ 問5 ア エ
1点 各1点
問6 (ア) 弾劾裁判 (イ) 国民審査
2点 2点
(ウ) 下級 2点
問7 ウ エ
完全解答2点

6

問1 (1) 財政政策 (2) 公的扶助
1点 1点
(3) 株主総会 (4) 安全保障理事会
1点 1点
(5) グローバル (6) 国際人権規約
1点 1点
問2 X ア Y ア 問3 オ
1点 1点 1点
問4 ア 問5 イ
1点 1点
問6 南北問題 問7 SDGs
問6 漢字指定 2点 2点

受験番号

氏名

得点