

令和 3 年度

函館白百合学園高等学校

一般入学試験問題

社 会

特進(L B)

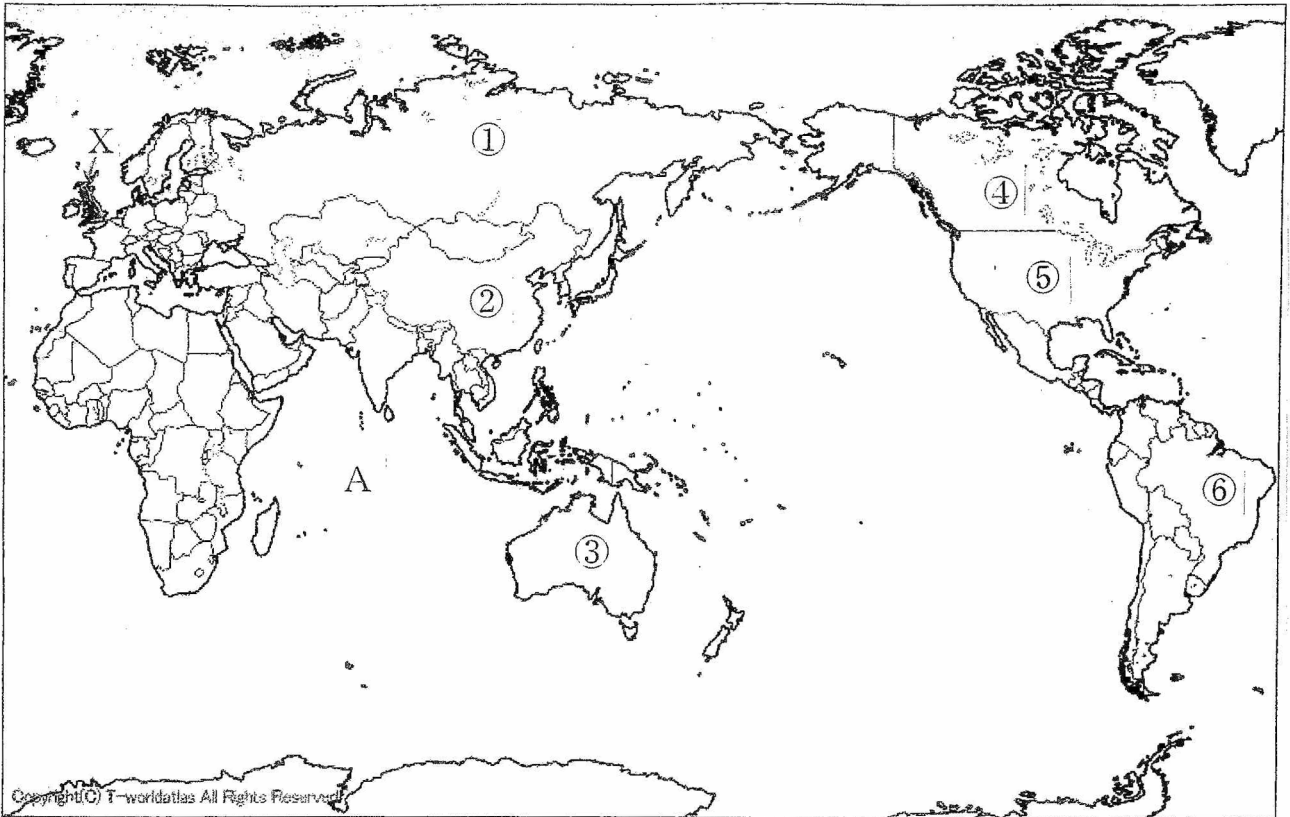
令和 3 年 2 月 16 日(火)実施

注意事項

1. 試験時間は 45 分です。
2. 問題は **1** から **6** まであり、16 ページまであります。
3. 答えはすべて別紙の解答用紙に記入し、解答用紙だけ提出しなさい。

1

次の略地図を見て、問いに答えなさい。



- 問1 略地図の①～⑥の国は、世界の国の中で国土面積が大きい、上位の6か国です。これらの国々に関して、(1)～(5)の設問に答えなさい。
- (1) ①～⑥の国の中で、人口が最も少ない国はどれか、その番号を答えなさい。
 - (2) ①～⑥の国の中で、英語とフランス語、2つの公用語を使っている国はどれか、その番号を答えなさい。
 - (3) ①～⑥の国の中で、その貿易額が日本からみて輸出額の方が輸入額よりも大きい国の番号をすべて答えなさい。
 - (4) 多民族国家である⑤の国で、20世紀後半以降増加している、スペイン語圏からの移民とその子孫を何というか答えなさい。
 - (5) 次の説明文は、①～⑥の国のうちの、いずれかのものです。あてはまる国の番号と、その国名を答えなさい。

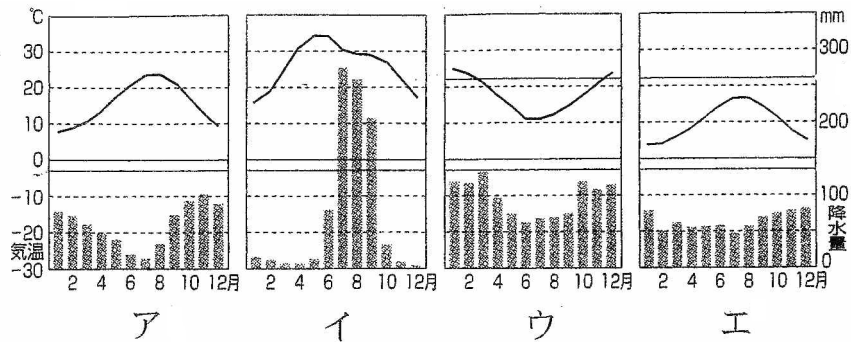
20世紀初頭、世界初の社会主義国家として建国されたが、政治・経済にさまざまな問題を抱えたため、20世紀末に国家が崩壊し、分離した国の中で面積・人口が最大の国である。

21世紀に入ると、国内で産出する豊富な原油や天然ガスを海外に輸出して、経済が豊かになった。一方で、貧富の格差が拡大し、大きな問題となっている。

問2 略地図のAの大洋名を答えなさい。

問3 略地図のX国に関して、(1)～(5)の設問に答えなさい。

(1) 次のア～エの雨温図のうち、X国の首都のものを1つ選びなさい。



(2) X国の説明文として誤っているものを、ア～エから1つ選びなさい。

- ア 夏の冷涼な気候をいかして、混合農業や酪農がさかんである。
- イ 世界で初めて産業革命がおこり、その後近代工業が発達した。
- ウ 北西部の海岸には、氷食谷に海水が入り込んだフィヨルドがみられる。
- エ アメリカ合衆国と同じ政治制度である、大統領制を採用している。

(3) 日本が2月16日午後2時のとき、X国は何月何日の何時ですか、ア～エから1つ選びなさい。

- ア 2月16日午前0時 イ 2月16日午前5時
- ウ 2月16日午後11時 エ 2月17日午前5時

(4) 次の表は、X国の輸出入相手国（金額割合－2017年）を表したものです。空欄(あ)にあてはまる国を答えなさい。

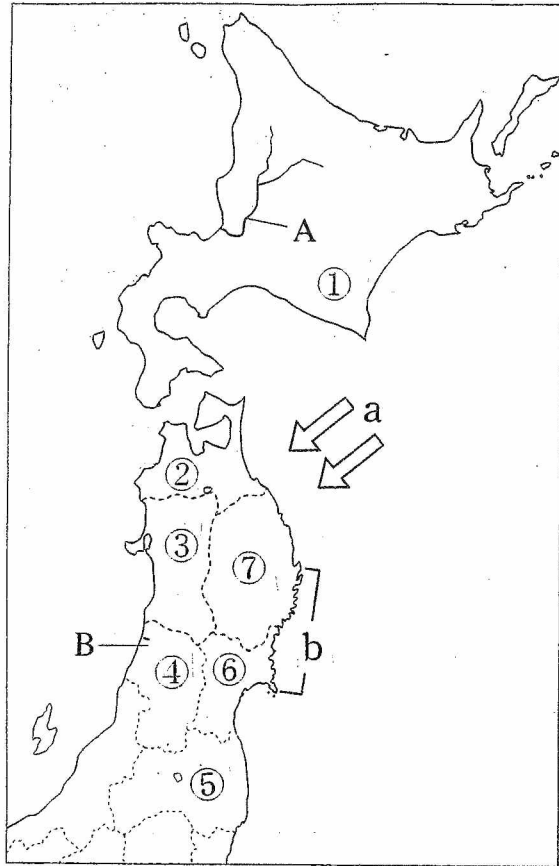
輸出相手国		輸入相手国	
アメリカ	13.3%	(あ)	13.9%
(あ)	10.5%	中国	9.3%
フランス	7.4%	アメリカ	9.2%
オランダ	6.2%	オランダ	8.1%
アイルランド	5.6%	フランス	5.7%

(国連国際貿易統計 2017)

(5) 2020年1月31日に、X国が正式に離脱した地域的経済統合の組織名を答えなさい。

2

次の略地図を見て、問いに答えなさい。



問1 略地図中①～⑦の道・県の中で、県庁所在地が政令指定都市であるものをすべてあげ、その番号を答えなさい。

問2 略地図中 a・b に関して、(1)・(2) の設問に答えなさい。

(1) 矢印 a は、東北地方の太平洋側に冷害を発生させる寒冷な北東風を示しています。この風を何というか答えなさい。

(2) b の海岸の成因として正しいものを、ア～エから1つ選びなさい。

ア 海底でつくられた平坦面が、土地が隆起し陸化することによってできる。

イ 起伏の大きな山地が海面下に沈み、海水が谷に入り込んでできる。

ウ 平野を流れる河川の河口部が海面下に沈んだことによってできる。

エ 石灰岩が分布している地域で、岩石が水と接触し溶かされてできる。

問3 略地図中 A の河川名を、漢字で答えなさい。

問 4 略地図中 B の県の説明文を，ア～エから 1 つ選びなさい。

ア 県内の盆地では果樹栽培がさかんであり，さくらんぼの生産量は全国第 1 位（2017）である。

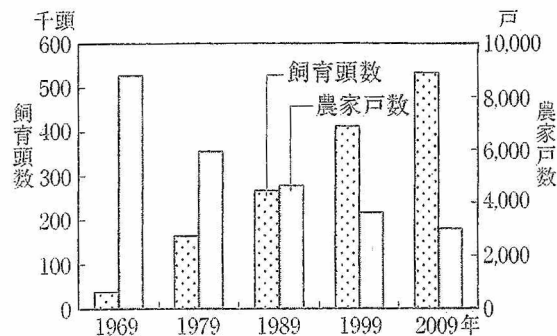
イ 山がちな地形の県であるが，一方で平坦地が広がる海岸部には原子力発電所が多数みられる。

ウ 稲作が農業の中心であり，かつて，海岸部の大きな湖を干拓して農地を拓いている。

エ 古くから馬の飼育が盛んであったが，現在は乳用牛の飼育が盛んで，飼育頭数は全国第 2 位（2017）である。

問 5 略地図中①～⑦の道・県はそれぞれ，稲作がさかんで米の生産量が上位の県が多くあります。このうち，「ササニシキ」という銘柄米で知られる道・県の番号を 1 つ選びなさい。

問 6 下の資料は，北海道における肉用牛の飼育頭数と飼育農家の戸数の推移を表しています。この資料についての説明文として正しいものを，ア～エから 1 つ選びなさい。



(農林水産省統計 2014)

ア 肉用牛の飼育頭数の増加にともなって，飼育農家の戸数も増加している。

イ 飼育農家の戸数は，2009年には，1969年の戸数の4分の1を下回った。

ウ 肉用牛の飼育頭数は，年を追うごとに増加し2009年には500万頭を超えた。

エ 2009年の飼育農家一戸あたりの肉用牛の飼育頭数は，約180頭である。

問 7 次の表は、①～⑦の道・県いずれかの製造品出荷額（2016年・単位十億円）を表しています。どの道・県のものか、その番号と県名をあわせて答えなさい。

食 料 品	2 1 6 0
パルプ・紙・紙加工品	4 0 4
化学工業	1 8 7
石油製品・石炭製品	7 8 9
鉄 鋼 業	4 5 1
金 属 製 品	2 7 0
生産用機械器具	1 0 2
電子部品・デバイス・電子回路	1 8 9
電気機械器具	4 2
情報通信機械器具	7 5
輸送用機械器具	3 7 2
総計（その他共）	6 0 5 8

（工業統計表 2017年）

問 8 略地図の地域は、2011年3月11日に発生した東日本大震災によって大きな被害を受けました。自然災害にそなえて、地震などの災害による被害を小さくおさえるために作成される、災害予測を示した地図を何というか答えなさい。

3

次の日本と朝鮮半島に関する略年表を見て、問いに答えなさい。

略年表

	できごと
391年	高句麗の広開土王(好太王)が倭の軍を破る・・・①
↑ A ↓	
663年	倭が(②)の戦いで唐と新羅の連合軍に敗れる
↑ B ↓	
1274年	元と(③)の連合軍が北九州に襲来する
↑ C ↓	
1592年	豊臣秀吉が朝鮮を侵略する・・・④
1607年	朝鮮の使節が江戸幕府に派遣される・・・⑤
↑ D ↓	
1876年	日朝修好条規が結ばれる・・・⑥
↑ E ↓	
1910年	日本が韓国を併合する・・・⑦
1965年	日韓基本条約が結ばれる

問1 ①の時期の日本の出来事として正しいものを、ア～エから1つ選びなさい。

- ア 稲作や金属器が初めて日本に伝わった。
- イ 鑑真が中国から来日し、法隆寺を建てた。
- ウ 各地に支配者の墓である古墳が造られた。
- エ 市で和同開珎などの貨幣が使用された。

問2 (②) に当てはまる語句を漢字で答えなさい。

問3 (③) に当てはまる国名を、ア～エから1つ選びなさい。

- ア 百済 イ 伽耶 ウ 渤海 エ 高麗

問 4 C の時期の出来事として正しいものを，ア～エから 1 つ選びなさい。

- ア 葛飾北斎や歌川広重が日本の水墨画を完成した。
- イ 浮世草子と呼ばれる絵入りの物語が親しまれた。
- ウ 馬借・車借と呼ばれる陸上の運送業者が活躍した。
- エ 金座・銀座で造られた貨幣が日本全国に流通した。

問 5 ④と同じ 16 世紀におこった出来事を，ア～エから 1 つ選びなさい。

- ア ルターがローマ教皇を批判し，宗教改革を始めた。
- イ 地中海とインド洋を結ぶスエズ運河が開通した。
- ウ イギリス・フランス・ロシアが三国協商を結んだ。
- エ ローマ教皇が聖地回復のために十字軍を派遣した。

問 6 ⑤に関して，次の図版は，江戸城に向かう朝鮮の使節をえがいたものです。この使節を何といいますか，漢字で答えなさい。



問 7 次の表は，D の時期のうち，18 世紀に活躍した江戸時代の老中について簡単にまとめたものです。これを見て，(1)・(2) の設問に答えなさい。

表

() (1719~1788)	松平定信 (1758~1829)
積極的な商業政策を進め，株仲間から営業税を徴収し，専売制を行った。銅や海産物の輸出をうながし，長崎貿易を活発にした。その一方，わいろが盛んになり，政治が乱れた。	<u>徳川吉宗の政治</u> にならって質素・儉約を勧め，農村の復興に取り組んだ。朱子学を重視し，武士の気風を改めようとした。しかし，風紀の厳しい取り締まりが人々の不満を高めた。

(1) () にあてはまる人名を答えなさい。

(2) 下線部に関して、徳川吉宗が改革を行った時の元号を、ア～エから1つ選びなさい。

ア 天正 イ 享保 ウ 弘安 エ 天保

問8 ⑥に関して、この条約が結ばれるきっかけとなった日朝両国の軍事衝突事件を、ア～エから1つ選びなさい。

ア 盧溝橋事件 イ 江華島事件 ウ 義和団事件 エ 柳条湖事件

問9 Eの時期の出来事として正しいものを、ア～エから1つ選びなさい。

ア 「富国強兵」をめざす明治政府は、教育基本法を制定し、地租改正条例を公布した。

イ 大名が領地と領民を天皇に返した廃藩置県に続いて、明治政府は版籍奉還を行った。

ウ 明治政府の出した刀狩令に反発した鹿児島県の不平士族たちが戊辰戦争をおこした。

エ 明治政府は、内閣制度を始め、ドイツの憲法を参考にした大日本帝国憲法を發布した。

問10 ⑦に関して、(1)・(2)の設問に答えなさい。

(1) 韓国併合後、日本がおいた朝鮮の統治機関を、ア～エから1つ選びなさい。

ア 総督府 イ 都督府 ウ 統監府 エ 鎮守府

(2) 1919年に日本からの独立運動がおこった月日を、ア～オから1つ選びなさい。

ア 2月26日 イ 3月1日 ウ 5月4日 エ 5月15日

オ 8月15日

問11 次のア～ウの出来事は、略年表中 A～E のどの時期のことですか、A～E からそれぞれ選びなさい。

ア アメリカでリンカーンが大統領になり、南北戦争がおきた。

イ ムハンマドがアッラーの啓示を受け、イスラム教を始めた。

ウ バスコ＝ダ＝ガマがアフリカ南端を回ってインドに達した。

4 次の表は、日本の天皇（上皇）について、簡単にまとめたものです。これを見て、問いに答えなさい。

表

天皇名	天皇の在位期間	天皇の在位時の出来事
聖武天皇	724~749・・・①	国ごとに国分寺を建てる 東大寺を都に建て、大仏を造らせる
桓武天皇	781~806	長岡京から平安京に都を移す 坂上田村麻呂を征夷大將軍に任命する・・・②
白河天皇	1072~1086 (上皇 1086~1129)	上皇となって政治を行う・・・③
後鳥羽天皇	1183~1198 (上皇 1198~1221)	北条氏を倒すために兵を挙げ、敗れる・・・④
(⑤)	1318~1339	⑥鎌倉幕府をほろぼす 天皇を中心とする建武の新政を始める
孝明天皇	1846~1866・・・⑦	妹の和宮を徳川家茂に嫁がせる
大正天皇	1912~1926	第一次世界大戦がおこる・・・⑧ 関東大震災がおこる
昭和天皇	1926~1989	陸軍青年将校が東京の中心部を占拠する・・・⑨ 太平洋戦争がおこる・・・⑩

問1 ①に関して、奈良時代の出来事として正しいものを、ア～エから1つ選びなさい。

- ア 班田収授の法が実施された。
- イ 漢字から仮名文字が生まれた。
- ウ 遣隋使が中国に派遣された。
- エ 運慶らが金剛力士像を作った。

問2 ②に関して、坂上田村麻呂が戦った東北地方の人々を何といいますか、答えなさい。

問3 ③に関して、このような政治を何といいますか、漢字2文字で答えなさい。

問4 ④に関して、この事件がおきた元号を、ア～エから1つ選びなさい。

- ア 応仁 イ 慶長 ウ 平治 エ 承久

問5 (⑤) に当てはまる天皇名を答えなさい。

問6 下線部⑥に関して、次の表は、鎌倉幕府の時代の仏教の開祖についてまとめたものです。(X) ~ (Z) にあてはまるものを、それぞれア~ウから選びなさい。

表

人物名	日蓮	法然	栄西
	(X)	(Y)	(Z)

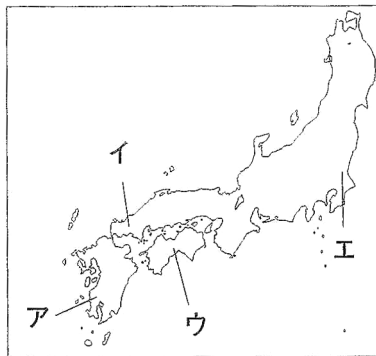
- ア 座禅によって悟りを開こうとする禅宗を日本に伝えた。
 イ 念仏を唱えれば、人は極楽浄土に生まれ変わると説いた。
 ウ 法華経の題目を唱えれば、人も国も救われると主張した。

問7 ⑦に関して、(1)・(2)の設問に答えなさい。

(1) この時期の出来事をア~オから3つ選び、年代の古い順に並べなさい。

- ア 異国船打払令 イ 島原・天草一揆 ウ ペリーの来航
 エ 桜田門外の変 オ 日米修好通商条約

(2) この時期に高まった尊王攘夷運動の中心となった長州藩の位置を、次の略地図ア~エから選びなさい。



問8 ⑧に関して、この戦争について正しいものを、ア~オから2つ選びなさい。

- ア この戦争中、ロシアで革命がおこり、日本はシベリア出兵に参加した。
 イ 日本は、この戦争の結果、南満州鉄道の権益や樺太の南半分などを得た。
 ウ この戦争の終結後、ロシア・フランスなどが日本に三国干渉を行った。
 エ 日本は、この戦争で得た賠償金を用いて官営の八幡製鉄所を設立した。
 オ 日本では、この戦争中に、政治学者の吉野作造が民本主義を唱えた。

問9 ⑨に関して、この事件がおこった月日を、ア~オから1つ選びなさい。

- ア 2月26日 イ 3月1日 ウ 5月4日 エ 5月15日
 オ 8月15日

問 10 ⑩に関して、(1)・(2)の設問に答えなさい。

(1) この戦争中の出来事として正しいものを、ア～エから1つ選びなさい。

ア 大戦景気といわれる好景気がおこり、成金が登場した。

イ 治安維持法が制定され、25歳以上の男性が参政権を得た。

ウ 日本本土への空襲が激しくなり、学童の疎開が行われた。

エ 総力戦体制をとるため、財閥解体や農地改革が行われた。

(2) この戦争の後におこった次の出来事を、年代の古い順に並べ替えなさい。

ア 国連平和維持活動(PKO)への自衛隊の参加

イ 日米安全保障条約の調印

ウ 日ソ共同宣言の発表

エ 沖縄の返還

5 次の文章を読んで、問いに答えなさい。

- A 現代社会は、情報通信技術（1）を使用して情報が人々に提供される情報化社会である。情報化を生かすため、①情報を正しく判断して活用する力や情報を使う考え方・態度を身につけ、情報格差のない社会をつくるのが大切である。
- B 民主政治の基本原理の一つは、基本的人権の保障である。基本的人権の考え方は、②ロック・ルソーらの社会契約説などの影響を受けてフランス革命などの（2）革命とともに成立し、日本国憲法もこれらの考え方を受け継いでいる。
- C 日本国憲法は、国民主権のもとで国政は国民の代表者が行ない、天皇は、国政に関する権能をもたないと定めている。天皇は、憲法に定められた③国事行為のみを、内閣の（3）と承認により行なう。
- D 日本国憲法は、基本的人権を私たちに保障している。また、それを実際に政治の場で実現するために、基本的人権が侵害されたときに救済などを求める権利である（4）や国民が政治に参加する④参政権を保障している。
- E 日本国憲法は、徹底した⑤平和主義の考え方をもつ憲法である。他方で主に国防と国際社会の安全の維持に貢献することなどを目的として、自衛隊が設置されている。現在、自衛隊の最高指揮権は文民である（5）がもつこととされている。
- F 情報化など社会の変化にともなって、⑥新しい人権が主張されるようになった。新しい人権は、日本国憲法が保障する「（6）（第13条）」や「生存権（第25条）」などをもとに保障されると考えられている。

問1 文中の空欄（1）～（6）に適切な語句を答えなさい。ただし、（1）にはアルファベットの略称が入ります。

問2 下線部①に関して、この力を何といいますか、答えなさい。

問3 下線部②に関して、I・IIの正誤の組み合わせとして、適するものを、ア～エから1つ選びなさい。

I ロックは、イギリスの思想家で、『法の精神』で、権力集中を防ぐため、権力分立論を説いた。

II ルソーは、フランスの思想家で、『社会契約論』で、人民主権による共和制をとらえた。

ア I = 正 II = 正 イ I = 正 II = 誤 ウ I = 誤 II = 正

エ I = 誤 II = 誤

問4 下線部③について、天皇の国事行為として誤っているものを、ア～エから1つ選びなさい。

- | | |
|-------------|----------|
| ア 国会の召集 | イ 衆議院の解散 |
| ウ 内閣総理大臣の指名 | エ 条約の公布 |

問5 下線部④について、参政権にあたらぬものを、ア～エから1つ選びなさい。

- | | |
|--------------|----------------|
| ア 最高裁判所長官の任命 | イ 憲法改正の国民投票 |
| ウ 公務員の選定・罷免権 | エ 地方自治特別法の住民投票 |

問6 下線部⑤について、I・IIの正誤の組み合わせとして、適するものを、ア～エから1つ選びなさい。

I 日本国憲法前文では、「政府の行為によって再び戦争の惨禍が起ることのないようにする」決意を示し、平和を愛する世界の人々と協調しながら、「われらの安全と生存を保持する」ことを宣言している。

II 日本国憲法第9条では、戦争や武力の行使などを、国際紛争を解決する手段として永久に放棄することを定めた。また、戦力の不保持と交戦権の否認、集団的自衛権を定めている。

- | | | |
|----------------|----------------|----------------|
| ア I = 正 II = 正 | イ I = 正 II = 誤 | ウ I = 誤 II = 正 |
| エ I = 誤 II = 誤 | | |

問7 下線部⑥について、環境権を実現するために、道路やダムなどの開発を行うときに、自然にどのような影響があるのかを、事前に調査することを何といいますか、答えなさい。

6 次の文章を読んで、問いに答えなさい。

- A 日本国憲法では、「国会は、国権の最高機関であり、国の唯一の（１）である」（第41条）と定めている。国会は話し合う内容に応じて毎年1回、1月に召集される常会と必要に応じて開かれる臨時会、①特別会などがある。
- B 内閣は、②内閣総理大臣と国务大臣で組織される。また内閣は、（２）を開いて政府の方針を決定する。内閣総理大臣は、多くの場合は与党の党首でもあるので、国の政治の中心的存在である。
- C 裁判は、私たち国民にとって公正で中立に行なわれる必要がある。そのため③裁判所は国会や内閣、その他どのような権力からも圧力や干渉を受けず、「すべての裁判官は、その（３）に従い、この憲法及び法律にのみ拘束される」（第76条）
- D イギリスの政治学者ブライスは「（４）は民主主義の学校」と表現した。（４）は、地域社会において、民主政治を身をもって実現する場である。住民には、首長や地方議員の解職、議会の解散などを求める④直接請求権が認められている。
- E 政党政治のあり方には、一党制、二大政党制、⑤多党制などがある。多党制のもとで、単独で過半数の議席を得られない場合、基本的な政策に関する合意を結んだうえで、複数の政党が協力して（５）を組織する。
- F 民主主義のもとでは、議員は国民による選挙で選ばれる。現在、日本の衆議院議員選挙は、二つの制度を組み合わせた（６）が行なわれている。また、わが国の⑥選挙制度の問題の一つに選挙に多くの費用がかかることがある。

問1 文中の空欄（１）～（６）に適切な語句を答えなさい。

問2 下線部①について、特別会は衆議院の解散による総選挙の日から何日以内に召集されますか、ア～エから選びなさい。

ア 10日以内 イ 20日以内 ウ 30日以内 エ 40日以内

問3 下線部②について、I・IIの正誤の組み合わせとして、適するものを、ア～エから1つ選びなさい。

I 内閣総理大臣は、国会議員の中から衆議院の議決で、これを指名する。

II 内閣総理大臣は、国务大臣を任命する。但し、その過半数は国会議員の中から選ばなければならない。

ア I = 正 II = 正 イ I = 正 II = 誤 ウ I = 誤 II = 正

エ I = 誤 II = 誤

問4 下線部③について、このことを、何といいますか、答えなさい。

問5 下線部④について、誤っているものを、ア～エから1つ選びなさい。

ア 条例の制定・改廃については、有権者の50分の1以上の署名を集めて、首長に請求する。

イ 監査については、有権者の50分の1以上の署名を集めて、監査委員に請求する。

ウ 議会の解散については、有権者の3分の1以上の署名を集めて、選挙管理委員会に請求する。

エ 首長・議員の解職について、有権者の3分の1以上の署名を集めて、議会に請求する。

問6 下線部⑤について、多党制以外の国をア～オからすべて答えなさい。

ア アメリカ イ イタリア ウ ドイツ エ イギリス オ 中国

問7 下線部⑥について、この問題の解決のために一定の条件を満たしている政党に、法律にもとづいて、活動にかかる費用の一部が国から支給されます。この公金を何といいますか、答えなさい。

1

問1

(1)

(2)

(3)

(4)

(5) 番号

国名

問2

問3

(1)

(2)

(3)

(4)

(5)

2

問1

問2

(1)

(2)

問3

問4

問5

問6

問7

番号

都道府県名

問8

3

問1

問2

問3

問4

問5

問6

問7

(1)

(2)

問8

問9

問10

(1)

(2)

問11

ア

イ

ウ

4

問1

問2

問3

問4

問5

問6

X

Y

Z

問7

(1)

→

→

(2)

問8

問9

問10

(1)

(2)

→

→

→

5

問1

(1)

(2)

(3)

(4)

(5)

(6)

問2

問3

問4

問5

問6

問7

6

問1

(1)

(2)

(3)

(4)

(5)

(6)

問2

問3

問4

問5

問6

問7

受験
番号

氏名

得点

1 問1 (1) ③ 1点 (2) ④ 1点
 18点 (3) ⑤ 1点 (4) ヒスパニック 2点
 (5) 番号 ① 国名 ロシア(連邦) 完全解答 2点
 問2 インド洋 1点
 問3 (1) エ 2点 (2) エ 2点 (3) イ 2点
 (4) ドイツ 2点 (5) ヨーロッパ連合(EU) 2点

2 問1 ①、⑥ 2点
 17点 問2 (1) やませ 2点 (2) イ 2点
 問3 石狩川(漢字) 2点 問4 ア 2点
 問5 ⑥ 1点 問6 エ 2点
 問7 番号 ① 都道府県名 北海道 完全解答 2点
 問8 ハザードマップ 2点

3 問1 ウ 1点 問2 白村江(漢字) 2点
 17点 問3 エ 1点 問4 ウ 1点
 問5 ア 1点 問6 通信使 2点
 問7 (1) 田沼意次 (2) イ (1)2点 (2)1点
 問8 イ 1点 問9 エ 1点
 問10 (1) ア (2) イ 各1点
 問11 ア D イ A ウ C 完全解答 2点

4 問1 ア 1点 問2 蝦夷 2点
 18点 問3 院政(漢字) 2点 問4 エ 1点
 問5 後醍醐天皇 2点
 問6 X ウ Y イ Z ア 完全解答 2点
 問7 (1) ウ → オ → エ (2) イ 各1点
 問8 ア オ 完全解答 2点 問9 ア 1点
 問10 (1) ウ (2) イ → ウ → エ → ア (1)1点 (2)2点

5 問1 (1) ICT (2) 市民
 (3) 助言 (4) 請求権
 (5) 内閣総理大臣 (6) 幸福追求権 各1点
 問2 情報リテラシー 2点 問3 ウ 1点
 問4 ウ 1点 問5 ア 1点 問6 イ 2点
 問7 環境アセスメント 2点

6 問1 (1) 立法機関 (2) 閣議
 (3) 良心 (4) 地方自治
 (5) 連立政権(連立内閣) (6) 小選挙区比例代表並立制 各1点
 問2 ウ 1点 問3 ウ 1点
 問4 司法権の独立 2点 問5 エ 1点
 問6 ア エ オ 2点 問7 政党交付金 2点

受験 番号	
----------	--

氏名	
----	--

得点